

# Логические задания

<u>1</u>	<u>2</u>	<u>3</u>	<u>4</u>	<u>5</u>	<u>6</u>	<u>7</u>	<u>8</u>
9	10	11	12	13	14	15	16
17	18	19	20	21	22	23	24
25	26	27	28	29	30	31	32
33	34	35	36	37	38	39	40

# 1 занятие



Ромб



УГОЛ



## 2 занятие

Ребята измеряли шагами длину игровой площадки. У Лизы получилось 25 шагов, у Полины – 27, у Максима – 22, а у Юры – 24. У кого из ребят самый короткий шаг?

У Полины



# 3 занятие

Улов

На рыбалке был Вадим.

Вот улов его:

Налим, Лещ, Карасик, 3 линя, 5  
плотвичек, Уклея, Щучка

2х2 бычка, 2 красавца-судачка, 6  
подустов, 7 бершей,


8 маленьких ершей, 9 добрых окуньков.

Да! Хороший был улов.

Вы же Вместе всё сложите.

Сколько рыбок всех? Скажите!

49



## 4 занятие


Груша тяжелее яблока, но легче апельсина. Яблоко тяжелее персика, а апельсин легче ананаса. Найди самый лёгкий и самый тяжёлый

фрукт.

Самый тяжёлый фрукт — ананас.  
самый лёгкий - персик




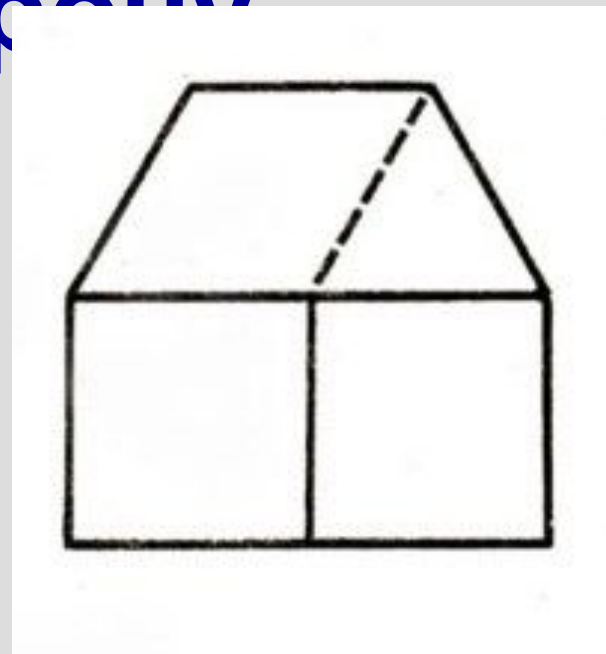
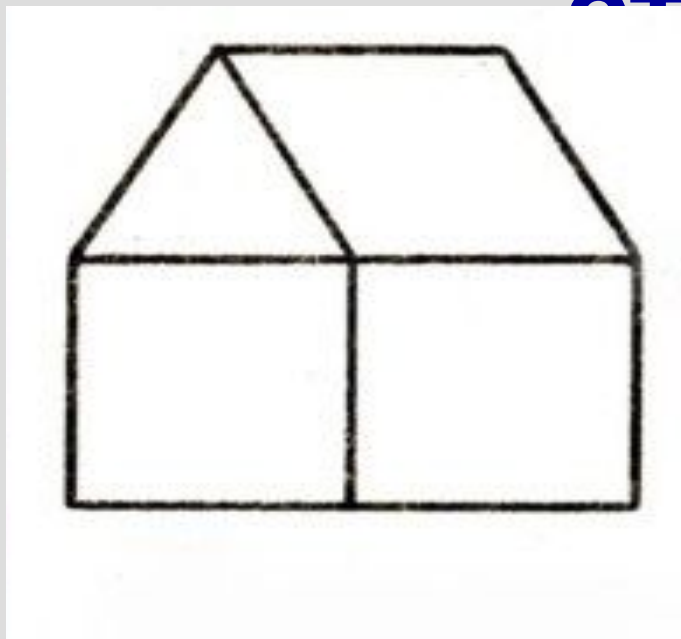
# 5 занятие



# 6 занятие

**Переложи 1 палочку таким образом, чтобы домик был перевернут в другую**

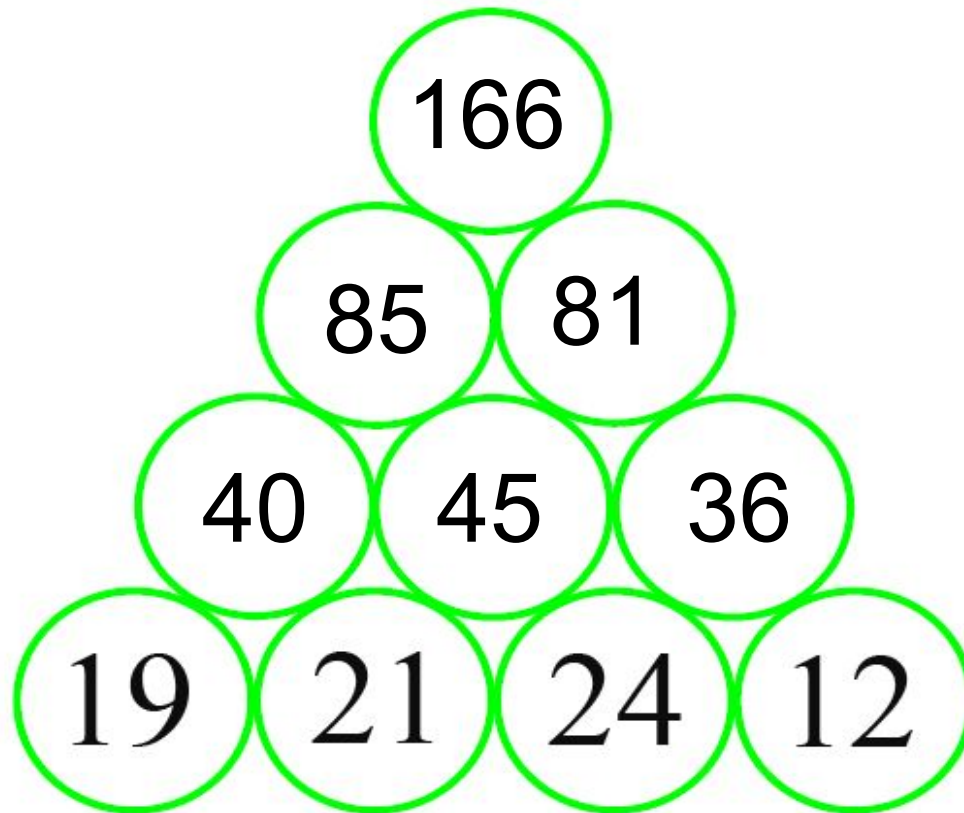
**сторону**





# 7 занятие

сложить 2 рядом стоящих числа и  
сумму записать в верхнем



# 8 занятие

Реши математический ребус.

$$\begin{array}{r} \times \quad 311 \\ \quad \quad 5 \\ \hline 1555 \end{array}$$

$$\begin{array}{r} \quad \quad 872 \\ - \quad \quad 288 \\ \hline \quad \quad 584 \end{array}$$

УКВЫ

ору, чтобы

м. Одни и

одну и ту



