

- **У трёх братьев по две сестры. Сколько всего детей в семье?**
- **Сумма двух чисел равна 25. одно из них на 7 больше другого. Какие это числа?**
- **Что тяжелее: 1 кг ваты, или 1 кг железа?**

**Горело 7 лампочек. 3 погасили.
Сколько лампочек осталось?**

7 лампочек

**Какие из данных фигур
являются ломанными?**

S Σ W O

**Поставь между цифрами знаки
«+» или «-» так, чтобы в
результате получились
равенства.**

$$1 \ 2 \ 3 \ 4 \ 5 = 5$$

$$1 \ 2 \ 3 \ 4 \ 5 = 41$$

$$1 + 2 + 3 + 4 - 5 = 5$$

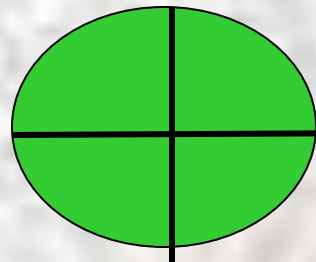

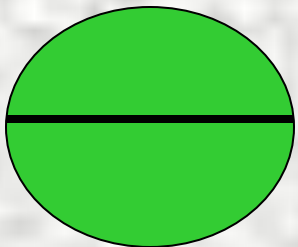
$$12 + 34 - 5 = 41$$

Зайчиха разложила 42 морковки на 7 кучек так, что кучек с одинаковым количеством морковок не было. При этом количество морковок в каждой кучке обозначается однозначным числом. Сколько морковок в каждой кучке?

3, 4, 5, 6, 7, 8 и 9 морковок

Три одинаковых арбуза надо разделить поровну между четырьмя детьми. Как это сделать, выполнив наименьшее число разрезов?

Два арбуза режутся пополам, а третий – на 4 части. Каждому достается 1 половинка и 1 четвертинка.



В одном ряду 8 камбешков на расстоянии 2 см один от другого. В другом ряду 15 камешков на расстоянии 1 см один от другого. Какой ряд длиннее?

ОДИНАКОВЫЕ