

«Моя математика» 1 класс

Урок 31

Тема урока: «Числа 1-5»

$1 + 1 = 2$

$1 + \square = \square$ $2 + \square = \square$

$1 + \square = \square$ $3 + \square = \square$ $2 + \square = \square$

$1 + \square = \square$ $4 + \square = \square$ $2 + \square = \square$ $3 + \square = \square$

1 2 3 4 5

Советы учителю.

Презентация к уроку составлена на основе заданий, расположенных в учебнике.

Рекомендую открыть учебник на странице с данным уроком, прочитав задания и просмотреть их в данной презентации в режиме демонстрации.

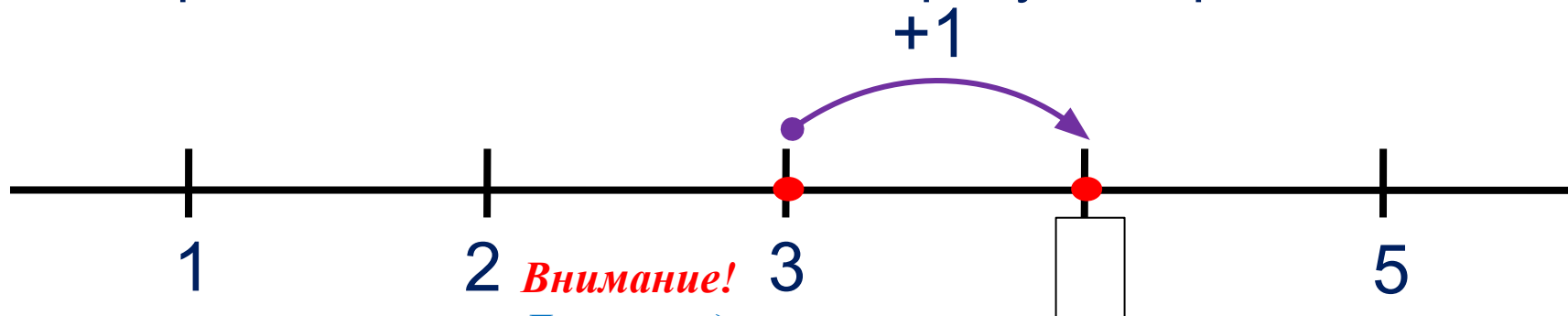
Внимание!

Некоторые задания можно выполнять интерактивно. Например, продолжить ряд, сравнить или вставить пропущенные числа. Для этого презентацию надо перевести в режим редактирования.

Урок 31. Числа 1-5

1. Какие равенства надо записать к рисункам ребят?

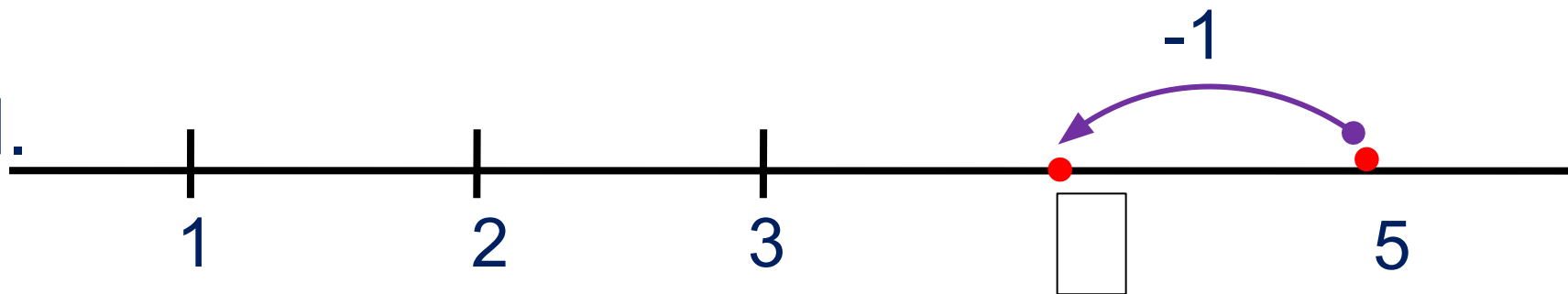
К.



Внимание!

Данное задание можно выполнить интерактивно.
Для этого презентацию надо перевести в режим редактирования

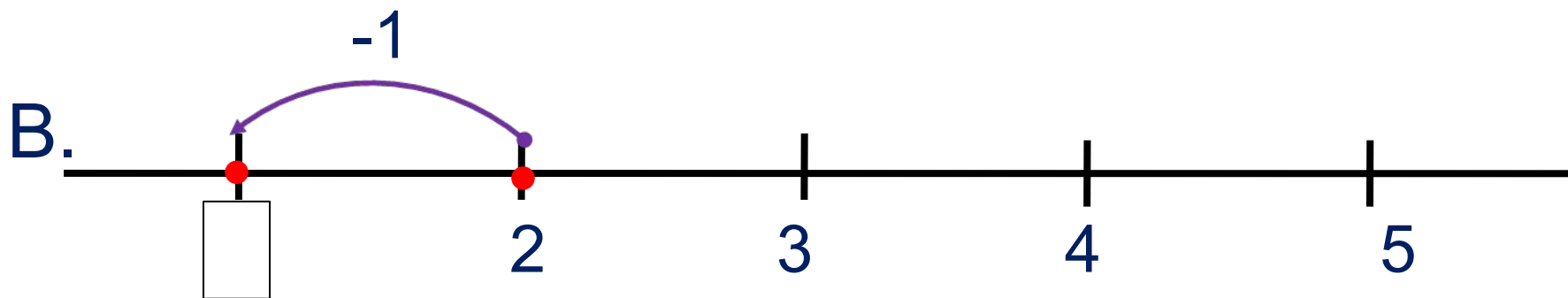
П.



| | | | | | | | |
|---|---|---|---|---|---|---|---|
| 1 | 2 | 3 | 4 | 5 | + | - | = |
|---|---|---|---|---|---|---|---|

Урок 31. Числа 1-5

1. Какие равенства надо записать к рисункам ребят?



| | | | | | | | |
|---|---|---|---|---|---|---|---|
| 1 | 2 | 3 | 4 | 5 | + | - | = |
|---|---|---|---|---|---|---|---|

Внимание!

Данное задание можно выполнить интерактивно.

Для этого презентацию надо перевести в режим редактирования

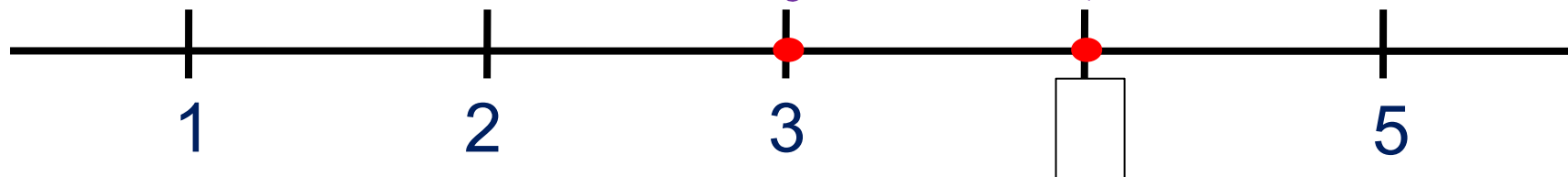
Урок 31. Числа 1-5

1. Какие равенства надо записать к рисункам ребят?

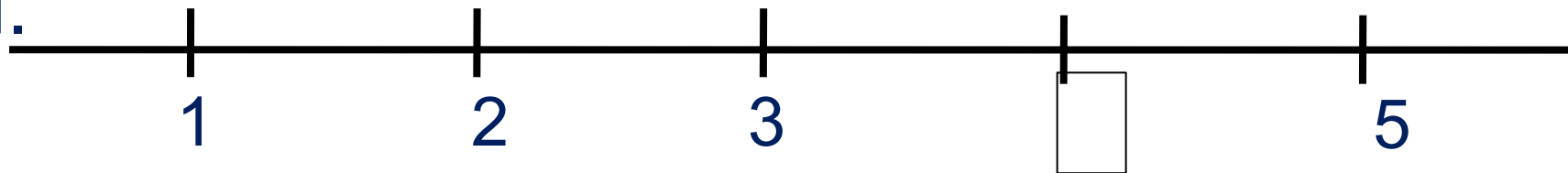
+1

ПРОВЕРЬ!

К.



П.



| | | | | | | | |
|---|---|---|---|---|---|---|---|
| 1 | 2 | 3 | 4 | 5 | + | - | = |
|---|---|---|---|---|---|---|---|

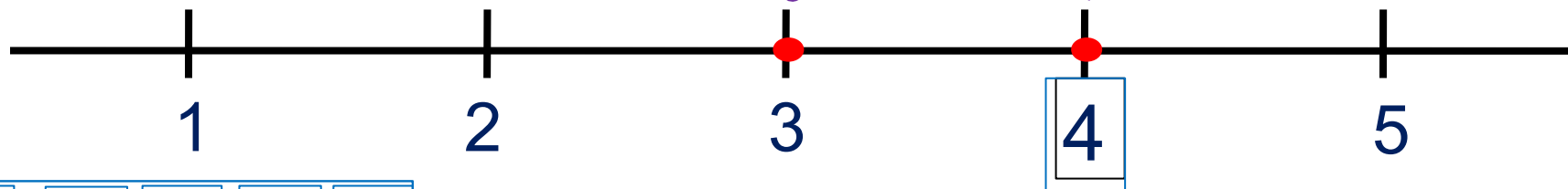
Урок 31. Числа 1-5

1. Какие равенства надо записать к рисункам ребят?

+1

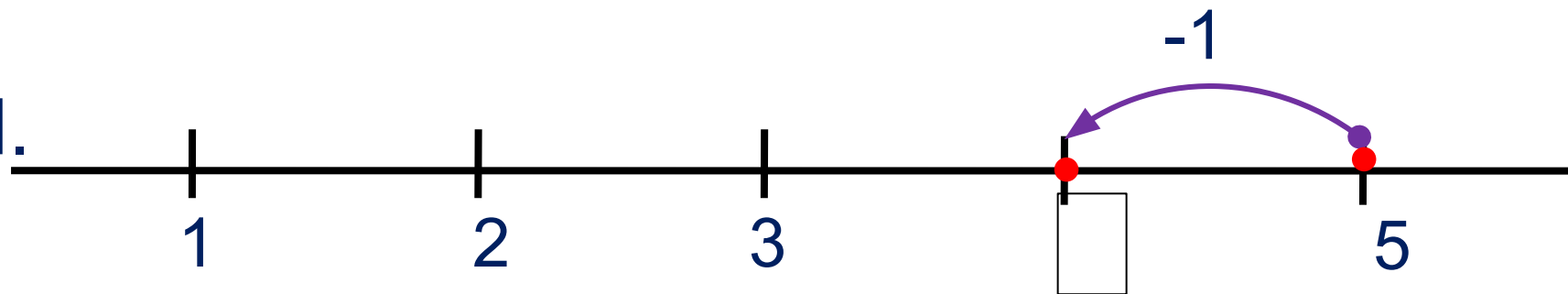
ПРОВЕРЬ!

К.



| | | | | |
|---|---|---|---|---|
| 3 | + | 1 | = | 4 |
|---|---|---|---|---|

П.



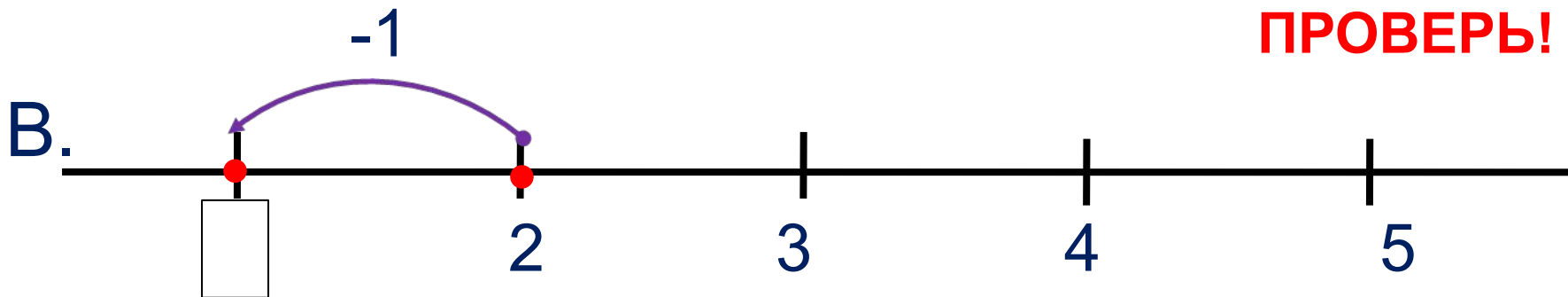
| |
|--|
| |
|--|

| | | | | | | | |
|---|---|---|---|---|---|---|---|
| 1 | 2 | 3 | 4 | 5 | + | - | = |
|---|---|---|---|---|---|---|---|

Урок 31. Числа 1-5

1. Какие равенства надо записать к рисункам ребят?

ПРОВЕРЬ!



Урок 31. Числа 1-5

2. Сравни (>, <, =)

$1 \square 2$

$3 \square 2$

$4 \square 5$



Внимание!

Данное задание можно выполнить интерактивно.

Для этого презентацию надо перевести в режим редактирования

Урок 31. Числа 1-5

2. Сравни (>, <, =)

ПРОВЕРЬ!

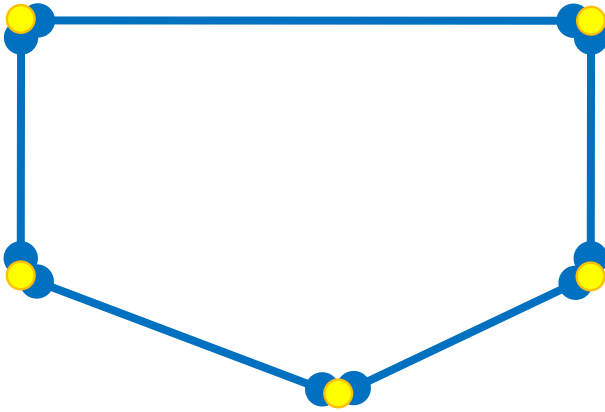
$1 \square 2$

$3 \square 2$

$4 \square 5$



3. Что ты можешь рассказать о фигуре на рисунке?



отрезки

звенья

вершины

ломаная

? Как можно назвать эту фигуру?

! Это – **ПЯТИУГОЛЬНИК.**

Урок 31. Числа 1-5

5. Помоги Кате записать равенства к её рисункам.



$$1 + 1 = 2$$



$$1 + \square = \square$$

$$2 + \square = \square$$



$$1 + \square = \square$$

$$3 + \square = \square$$

$$2 + \square = \square$$



$$1 + \square = \square$$

$$4 + \square = \square$$

$$2 + \square = \square$$

$$3 + \square = \square$$

Внимание!

Данное задание можно выполнить интерактивно.

Для этого презентацию надо перевести в режим редактирования

1

2

3

4

5

Урок 31. Числа 1-5

5. Помоги Кате записать равенства к её рисункам.



$$1 + 1 = 2$$



$$1 + \square = \square$$

$$2 + \square = \square$$



$$1 + \square = \square$$

$$3 + \square = \square$$

$$2 + \square = \square$$



$$1 + \square = \square$$

$$4 + \square = \square$$

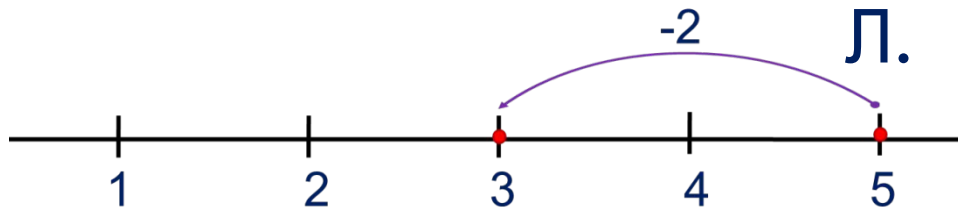
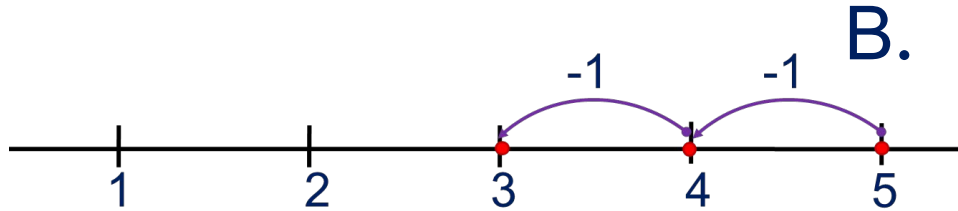
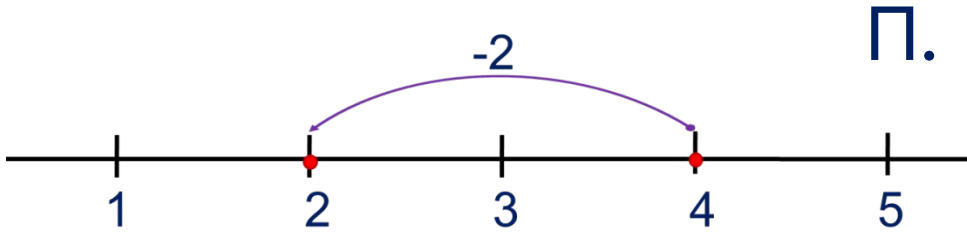
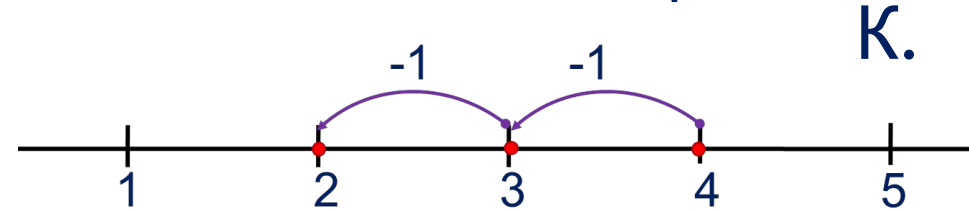
$$2 + \square = \square$$

$$3 + \square = \square$$

- Какие рассказы можно придумать по рисункам и равенствам.

Урок 31. Числа 1-5

6. Ребята перепутали свои рисунки и записи к ним.
Помоги им навести порядок.



$$4 - 2$$

$$5 - 1 - 1$$

$$4 - 1 - 1$$

$$5 - 2$$

Внимание!

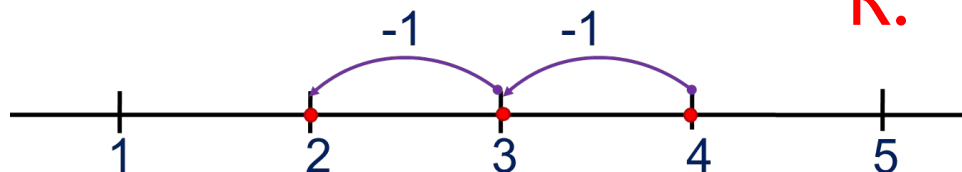
Данное задание можно выполнить интерактивно.

Для этого презентацию надо перевести в режим редактирования.

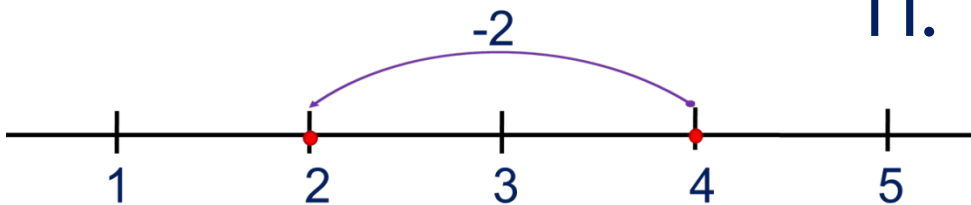
Урок 31. Числа 1-5

6. Ребята перепутали свои рисунки и записи к ним.
Помоги им навести порядок.

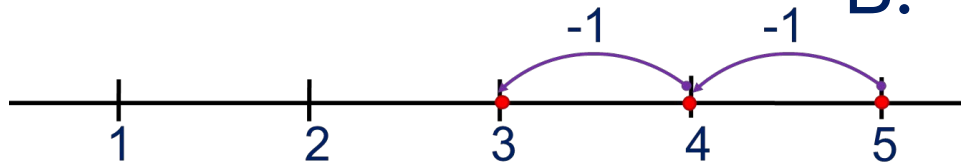
К.



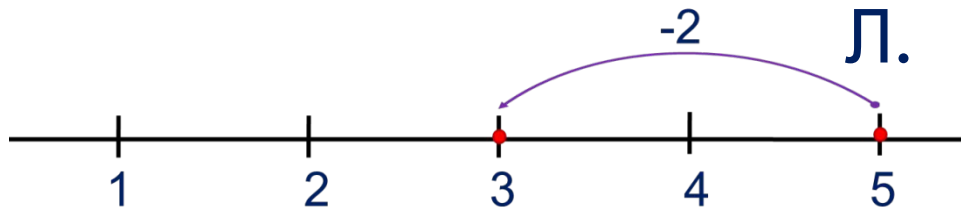
П.



В.



Л.



$$4 - 2$$

$$5 - 1 - 1$$

$$4 - 1 - 1$$

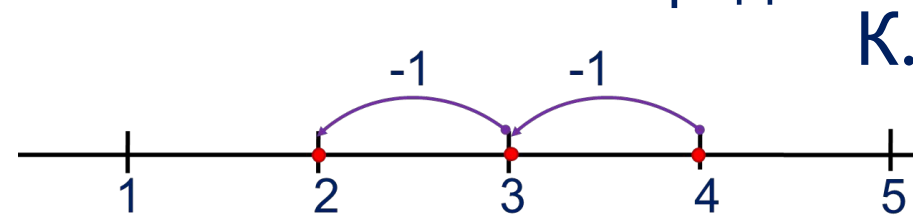
$$5 - 2$$

Внимание!

Данное задание можно выполнять интерактивно. Во время демонстрации навести курсор на нужную карточку до появления ладошки. Кликнуть!

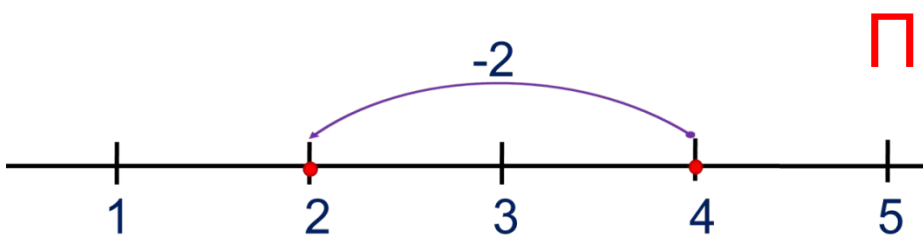
Урок 31. Числа 1-5

6. Ребята перепутали свои рисунки и записи к ним.
Помоги им навести порядок.

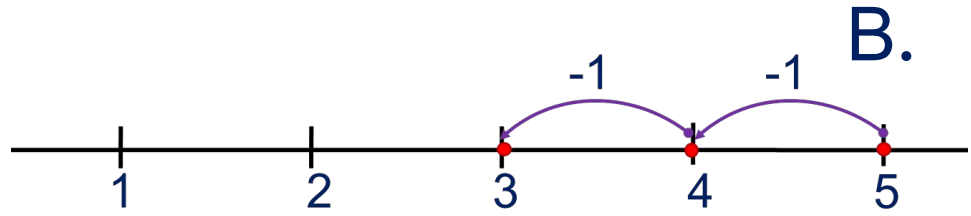


$$4 - 1 - 1$$

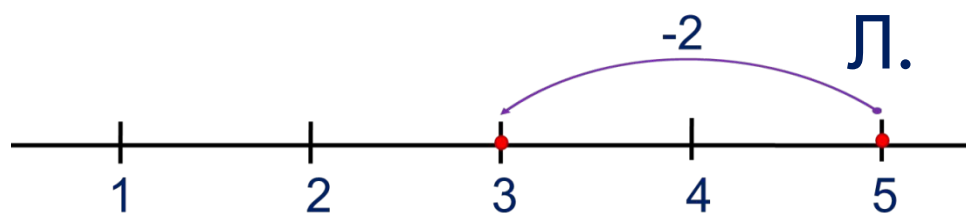
$$4 - 2$$



$$5 - 1 - 1$$



$$5 - 2$$

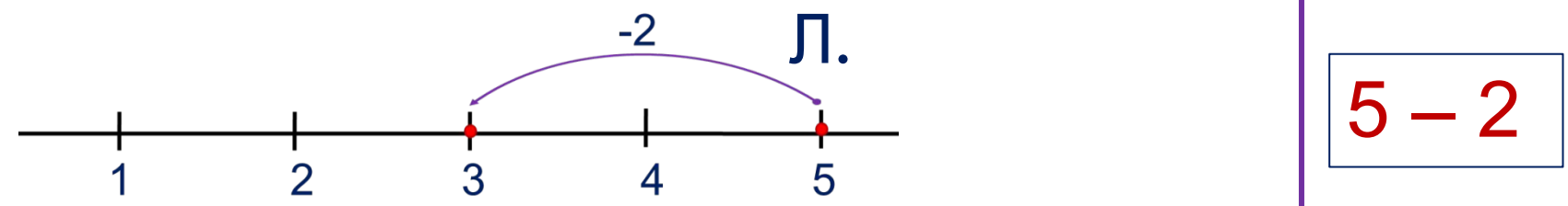
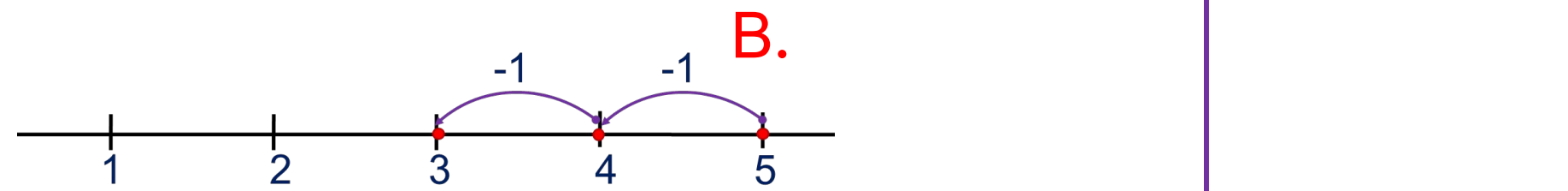
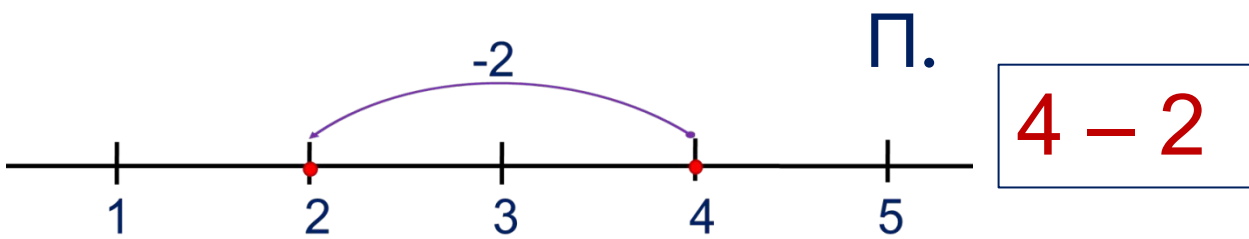
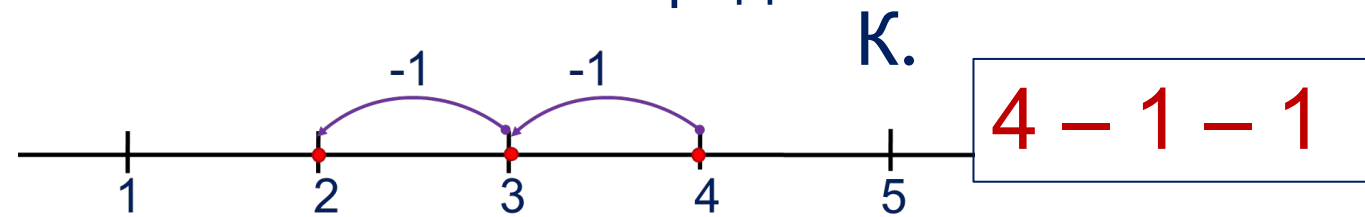


Внимание!

Данное задание можно выполнять интерактивно. Во время демонстрации навести курсор на нужную карточку до появления ладошки. Кликнуть!

Урок 31. Числа 1-5

6. Ребята перепутали свои рисунки и записи к ним.
Помоги им навести порядок.



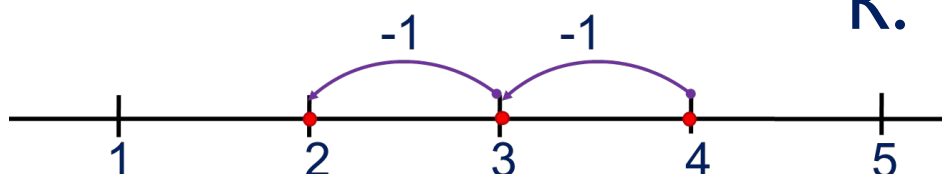
Внимание!

Данное задание можно выполнять интерактивно. Во время демонстрации навести курсор на нужную карточку до появления ладошки. Кликнуть!

Урок 31. Числа 1-5

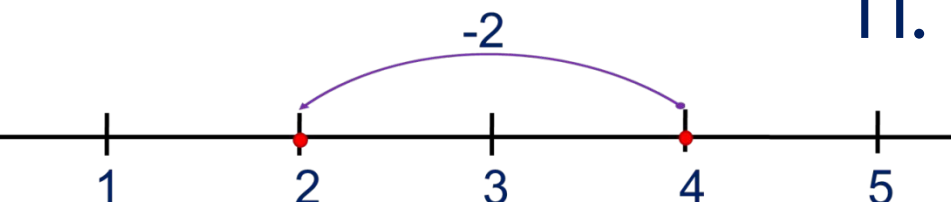
6. Ребята перепутали свои рисунки и записи к ним. Помоги им навести порядок.

К.



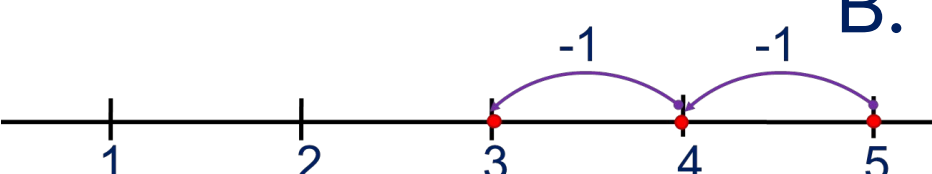
$4 - 1 - 1$

П.



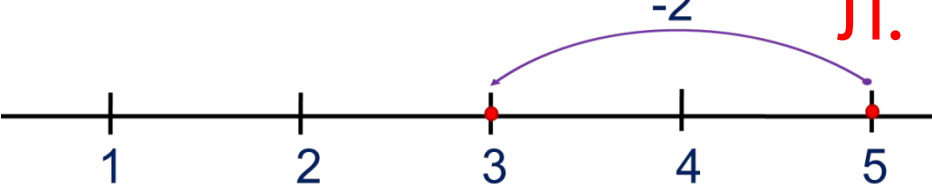
$4 - 2$

В.



$5 - 1 - 1$

Л.



$5 - 2$

Внимание!

Данное задание можно выполнять интерактивно. Во время демонстрации навести курсор на нужную карточку до появления ладошки. Кликнуть!

Спасибо!