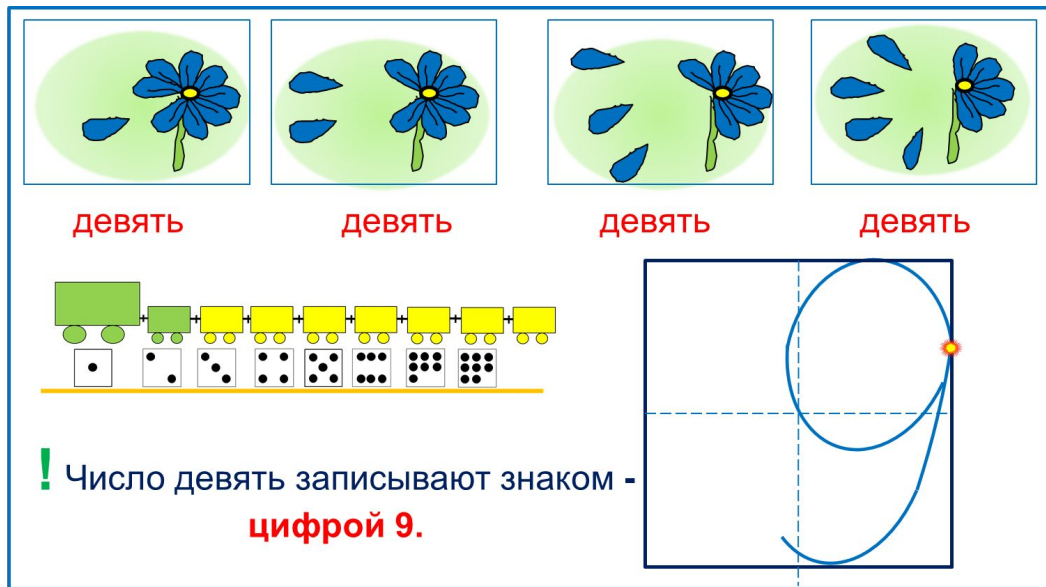


«Моя математика» 1 класс

Урок 47

Тема урока: «Число девять, цифра 9»



девять девять девять девять

! Число девять записывают знаком -
цифрой 9.

Советы учителю.

Презентация к уроку составлена на основе заданий, расположенных в учебнике.

Рекомендую открыть учебник на странице с данным уроком, прочитав задания и просмотреть их в данной презентации в режиме демонстрации.

Внимание!

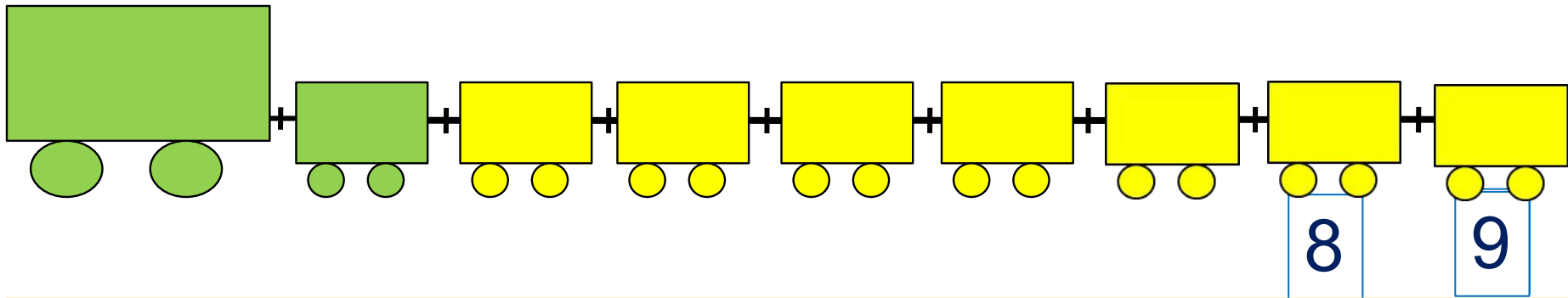
Некоторые задания можно выполнять интерактивно. Например, продолжить ряд, сравнить или вставить пропущенные числа. Для этого презентацию надо перевести в режим редактирования.

Урок 47. Число девять. Цифра 9

1. Помоги Пете ответить на вопросы.

Сколько вагонов было?

Сколько стало?



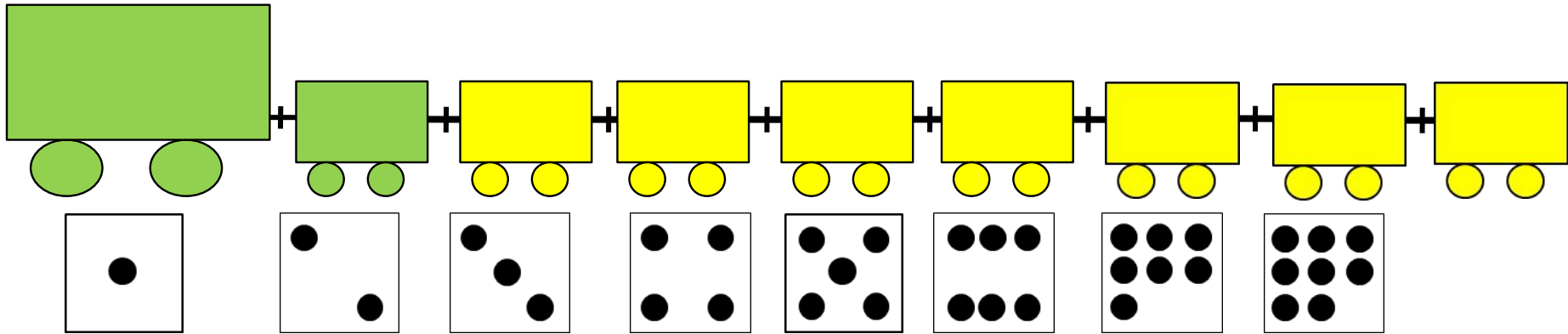
Составьте выражение к рисунку: $8 + \square =$

- 1
- 2
- 3
- 4
- 5
- 6
- 7
- 8
- 9

Урок 47. Число девять. Цифра 9

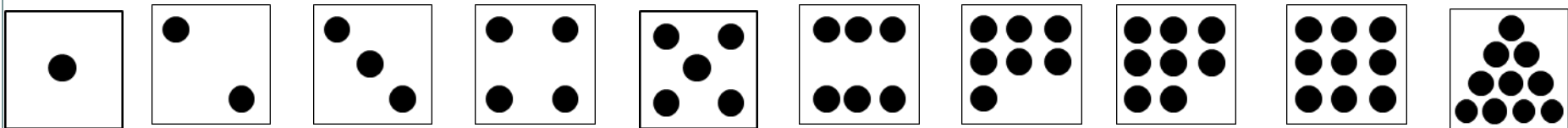
2. Сколько точек надо нарисовать Пете на последней карточке?

? Сколько всего вагонов? Какой по счёту последний?



Внимание!





Данное задание можно выполнять интерактивно. Во время демонстрации навести курсор на «лишнюю» фигуру до появления ладошки. **Кликнуть!**



Урок 47. Число девять. Цифра 9

3. Назови числа.

МАТЕМАТИКА



●●●	$1 + 8 = 9$
●●●	$8 + 1 = 9$

девять

●●●	$2 + 7 = 9$
●●●	$7 + 2 = 9$

девять

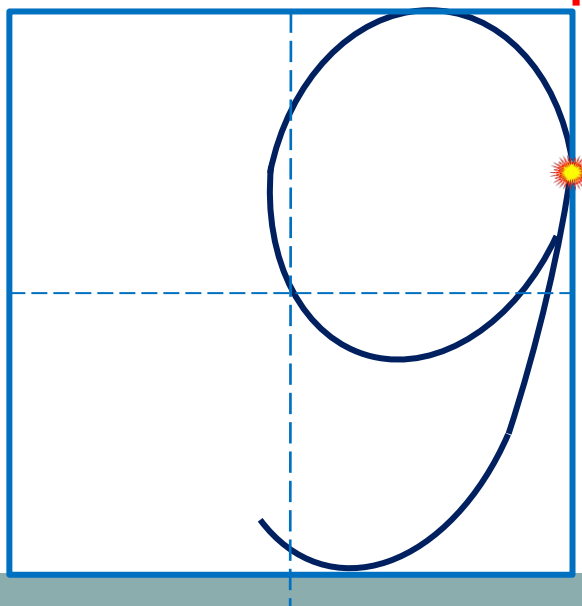
●●●	$3 + 6 = 9$
●●●	$6 + 3 = 9$

девять

●●●	$4 + 5 = 9$
●●●	$5 + 4 = 9$

девять

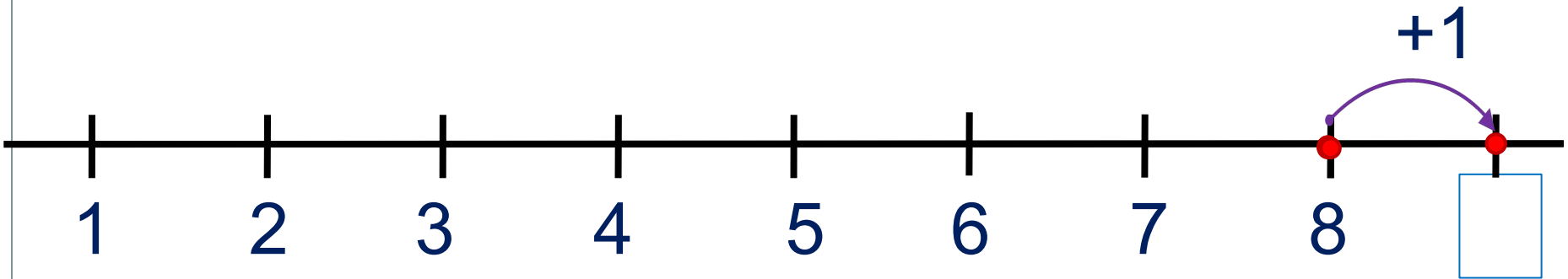
! Число девять записывают знаком - **цифрой 9.**



Урок 47. Число девять. Цифра 9

5. Какие равенства можно записать к рисункам?

Вправо - плюс



Внимание!

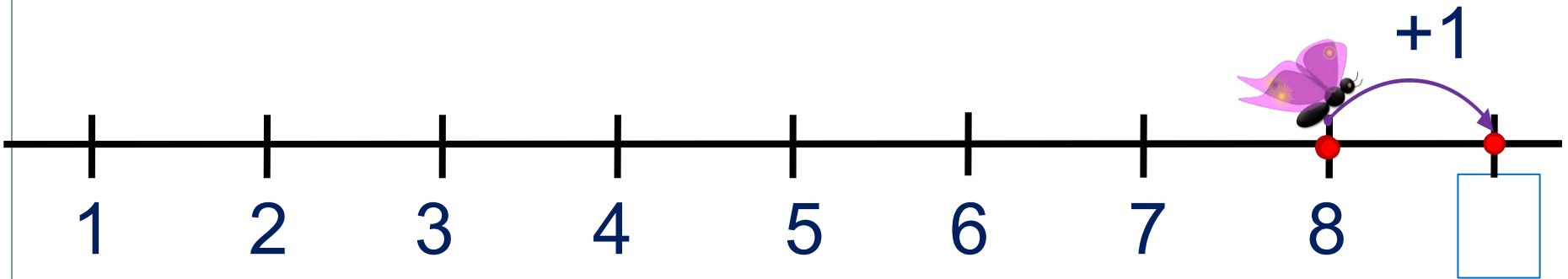
Данное задание можно выполнить интерактивно. Для этого презентацию надо перевести в режим редактирования.

1 2 3 4 5 6 7 8 9 + - =

Урок 47. Число девять. Цифра 9

5. Какие равенства можно записать к рисункам?

Вправо - плюс



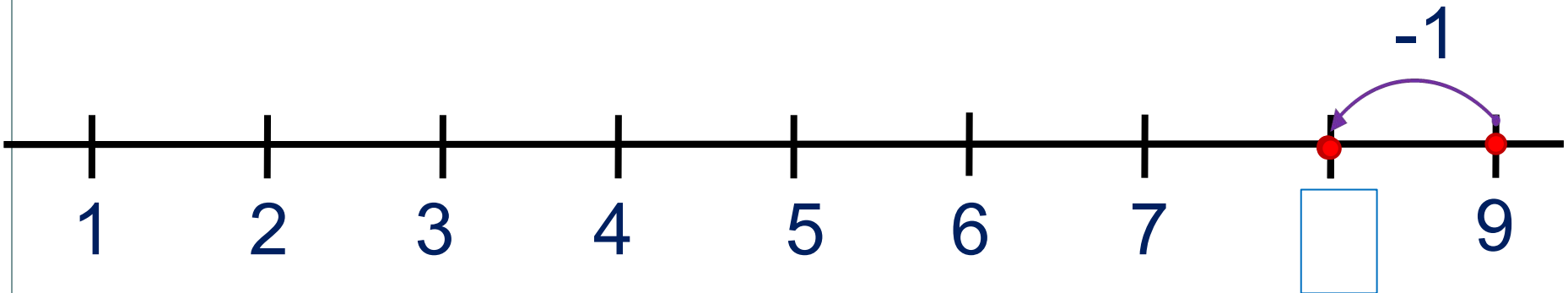
ПРОВЕРЬ!

1	2	3	4	5	6	7	8	9	+	-	=
---	---	---	---	---	---	---	---	---	---	---	---

Урок 47. Число девять. Цифра 9

5. Какие равенства можно записать к рисункам?

Влево - минус



Внимание!

Данное задание можно
выполнить
интерактивно.

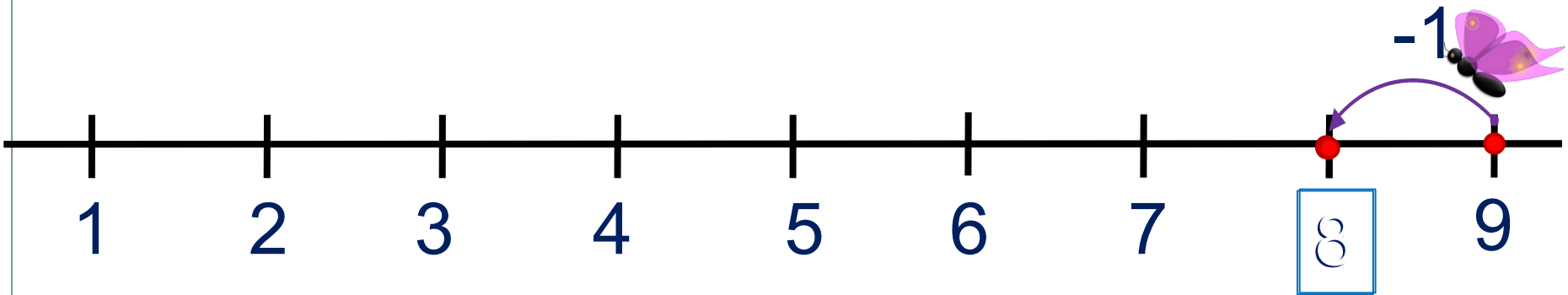
Для этого презентацию
надо перевести в режим
редактирования.

1 2 3 4 5 6 7 8 9 - + =

Урок 47. Число девять. Цифра 9

5. Какие равенства можно записать к рисункам?

Влево - минус

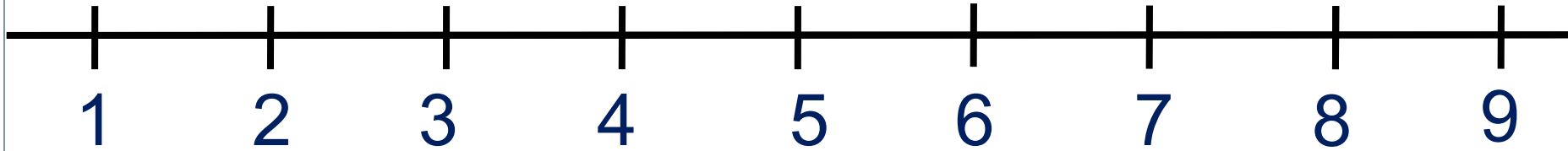


ПРОВЕРЬ!

1 2 3 4 5 6 7 8 9 - + =

Урок 47. Число девять. Цифра 9

6. Сравни числа (>, <, =)



$1 \square 9$

$9 \square 8$

$2 \square 9$

$3 \square 9$

$9 \square 6$

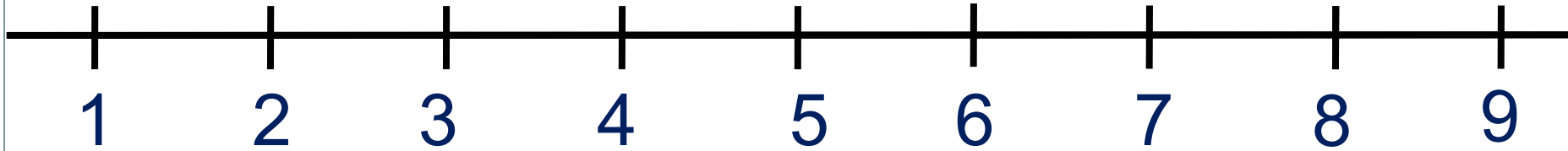


Внимание!

Данное задание можно выполнить интерактивно. Для этого презентацию надо перевести в режим редактирования.

Урок 47. Число девять. Цифра 9

6. Сравни числа (>, <, =)



$1 \square 9$

$9 \square 8$

$2 \square 9$

$3 \square 9$


$9 \square 6$



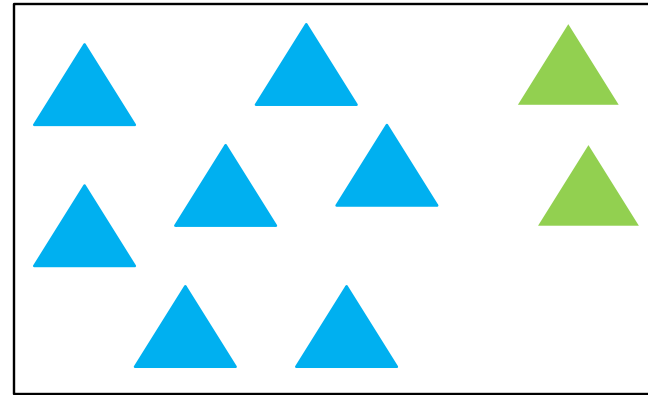
ПРОВЕРЬ!

Урок 47. Число девять. Цифра 9

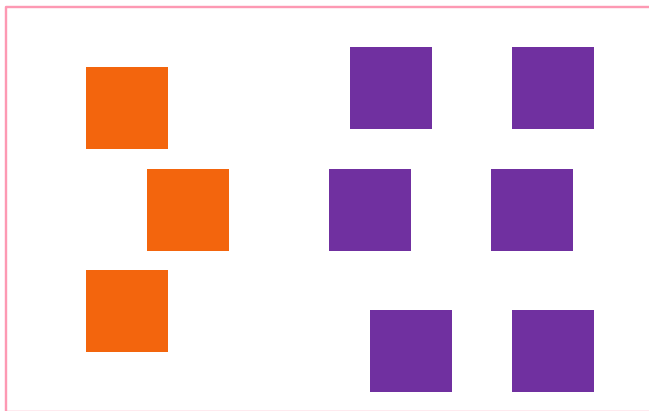
7. Помоги ребятам записать по 4 равенства к своим рисункам.




К.



П.



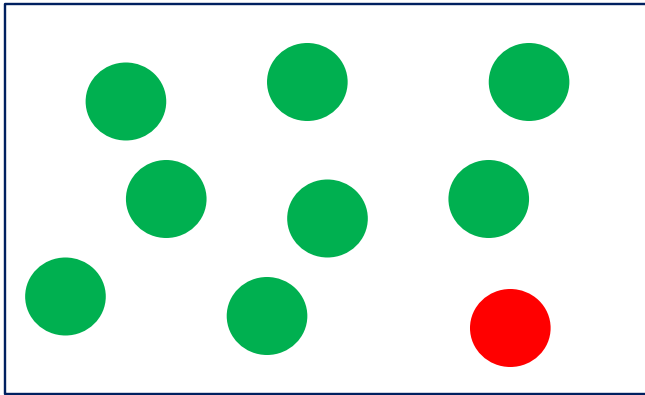
В.



Л.

Урок 47. Число девять. Цифра 9

7. Помоги ребятам записать по 4 равенства к своим рисункам.




К.

$$8 + 1 = 9$$

$$1 + 8 = 9$$

$$9 - 1 = 8$$

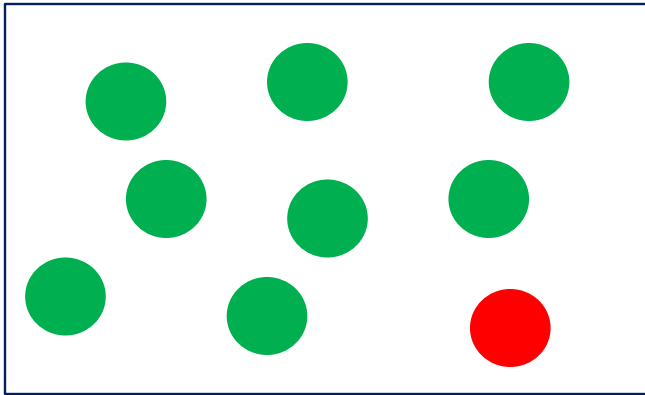
$$9 - 8 = 1$$



П.

Урок 47. Число девять. Цифра 9

7. Помоги ребятам записать по 4 равенства к своим рисункам.




К.

$$8 + 1 = 9$$

$$1 + 8 = 9$$

$$9 - 1 = 8$$

$$9 - 8 = 1$$



П.

$$7 + 2 = 9$$

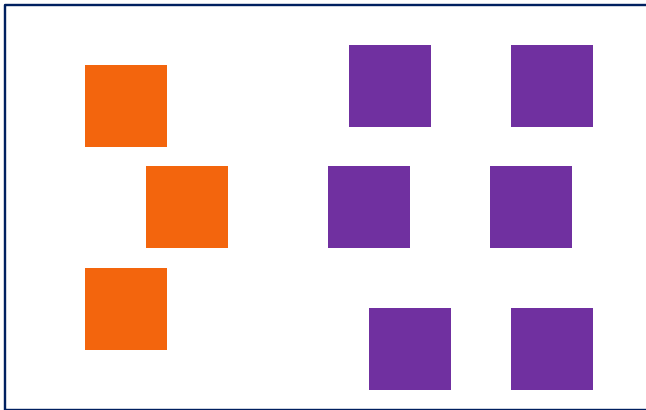
$$2 + 7 = 9$$

$$9 - 7 = 2$$

$$9 - 2 = 7$$

Урок 47. Число девять. Цифра 9

7. Помоги ребятам записать по 4 равенства к своим рисункам.




В.

$$3 + 6 = 9$$

$$6 + 3 = 9$$

$$9 - 3 = 6$$

$$9 - 6 = 3$$



Л.

$$4 + 5 = 9$$

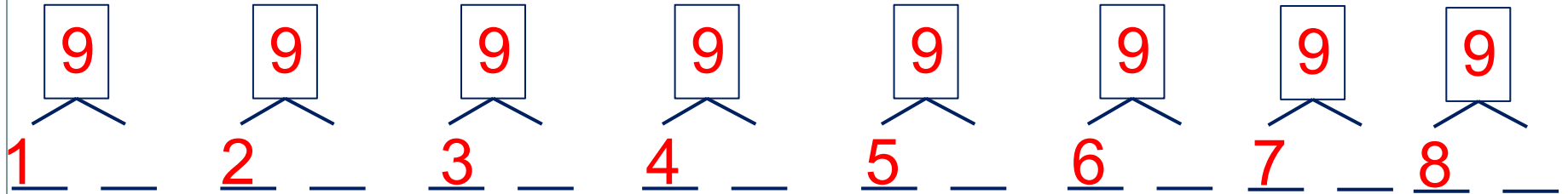
$$5 + 4 = 9$$

$$9 - 4 = 5$$

$$9 - 5 = 4$$

Урок 47. Число девять. Цифра 9

7. Расскажите о числе девять:



· Какие числа можно записать в «окошках»?

9	1	2	3	4	5	6	7	8
			6					1

Внимание!

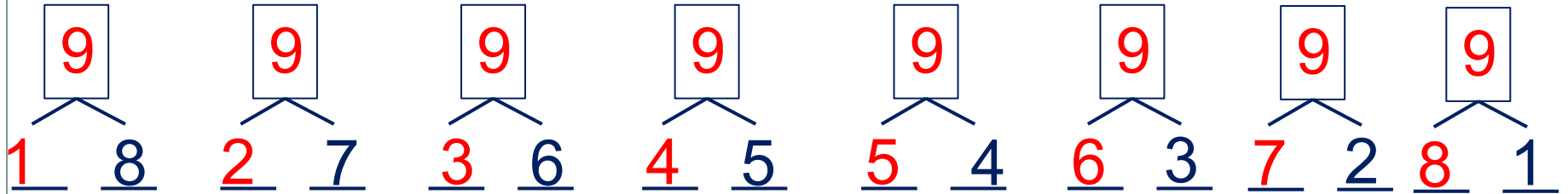
Данное задание можно выполнить интерактивно.

Для этого презентацию надо перевести в режим редактирования.


1 2 3 4 5 6 7 8 9

Урок 47. Число девять. Цифра 9

7. Расскажите о числе девять:



• Какие числа можно записать в «окошках»?



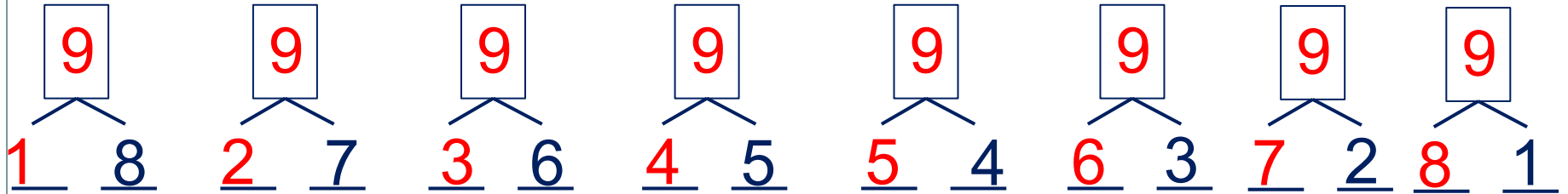
9	1	2	3	4	5	6	7	8
			6					1

1 2 3 4 5 6 7 8 9


ПРОВЕРЬ!

Урок 47. Число девять. Цифра 9

7. Расскажите о числе девять:



· Какие числа можно записать в «окошках»?



9	1	2	3	4	5	6	7	8
	8	7	6	5	4	3	2	1

1

6

9

ПРОВЕРЬ!

Спасибо!