

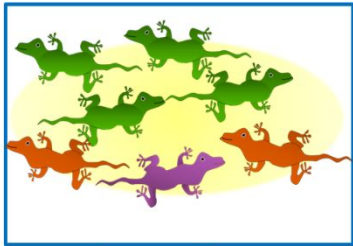


«Моя математика» 1 класс

Урок 54

Тема урока: «Числа и цифры. Римские цифры»

1	2	3	4	5	6	7	8	9	10
									
5		V	10		X	7		VII	
I	II	III	IV	V	VI	VII	VIII	IX	X

Советы учителю.

Презентация к уроку составлена на основе заданий, расположенных в учебнике.


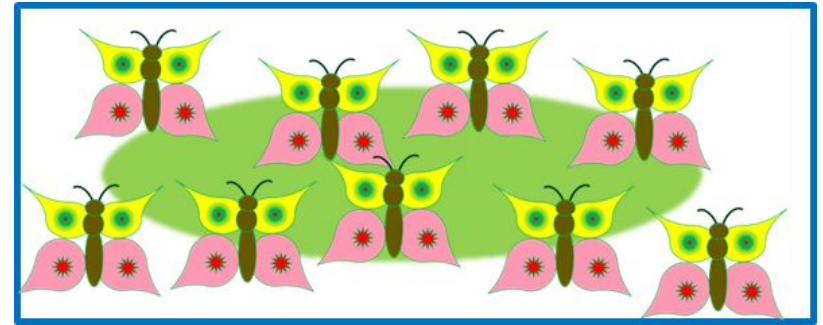
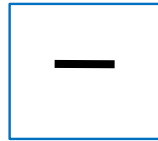

Рекомендую открыть учебник на странице с данным уроком, прочитав задания и просмотреть их в данной презентации в режиме демонстрации.

Внимание!

Некоторые задания можно выполнять интерактивно. Например, продолжить ряд, сравнить или вставить пропущенные числа. Для этого презентацию надо перевести в режим редактирования.

Урок 54. Числа и цифры. Римские цифры.


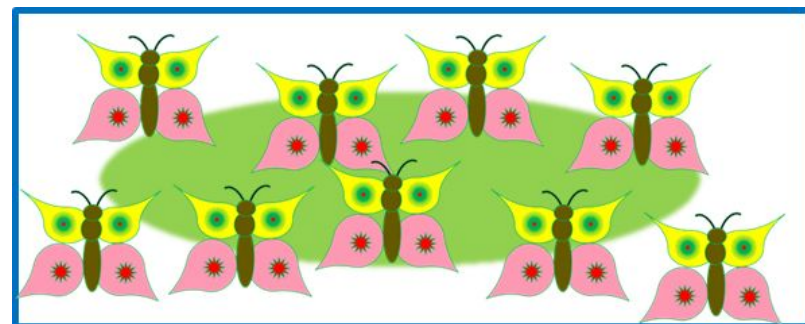



1. В одной книжке Петя увидел рисунки.



? Что могут обозначать записи под рисунками?

! Знаки  и  - цифры древнего народа майя. Этими знаками записано число предметов на каждом рисунке.

1. В одной книжке Петя увидел рисунки.



2. Помоги Пете сосчитать предметы на рисунке и назвать эти числа?.

Внимание!


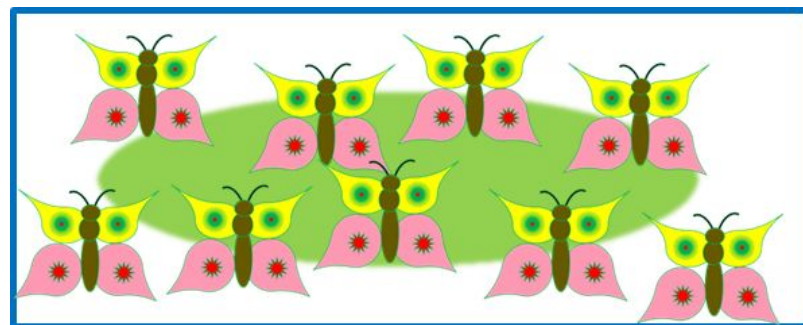



Данное задание можно выполнить интерактивно.

Для этого презентацию надо перевести в режим редактирования.

1 2 3 4 5 6 7 8 9 10

Урок 54. Числа и цифры. Римские цифры.

1. В одной книжке Петя увидел рисунки.



2. Помоги Пете сосчитать предметы на рисунке и назвать эти числа?.

ПРОВЕРЬ!

1 2 3 4 5 6 7 8 9 10

2. ! Цифры, с которыми ты познакомился на уроках математики, называются **арабскими**. Их всего десять.

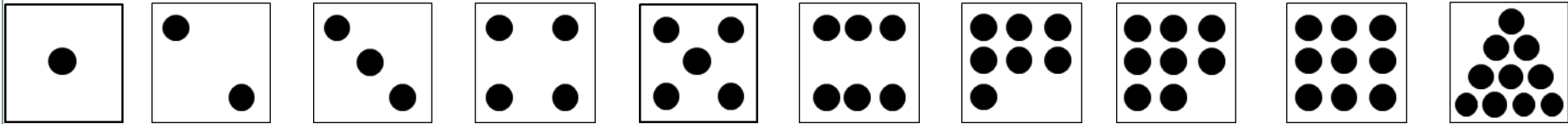
0 1 2 3 4 5 6 7 8 9

I V X

Это римские цифры.

4. Назовите числа, которые здесь записаны.

I II III IV V VI VII VIII IX X



Внимание!

Данное задание можно выполнить интерактивно.

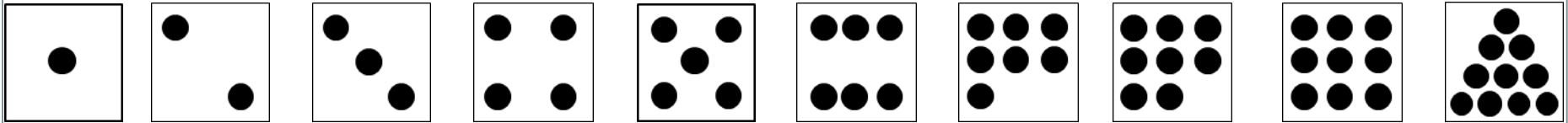
Для этого презентацию надо перевести в режим редактирования.

1 2 3 4 5 6 7 8 9 10

Урок 54. Числа и цифры. Римские цифры.

4. Назовите числа, которые здесь записаны.

I II III IV V VI VII VIII IX X

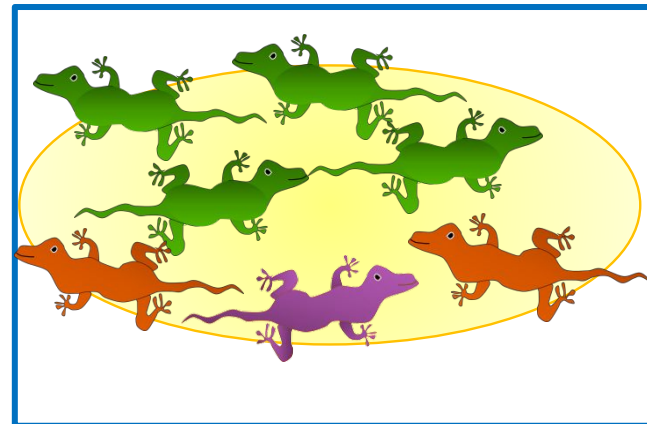
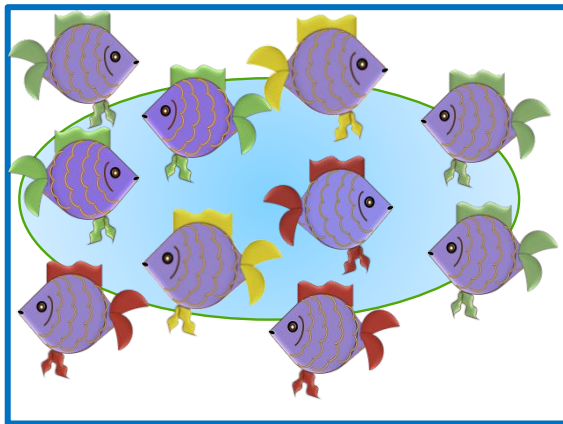



ПРОВЕРЬ!

1 2 3 4 5 6 7 8 9 10

Урок 54. Числа и цифры. Римские цифры.

6. Помоги Кате записать число предметов на рисунках арабскими и римскими цифрами.



Внимание!

Данное задание можно выполнить интерактивно.

Для этого презентацию надо перевести в режим редактирования.

I

V

X

0

1

2

3

4

5

6

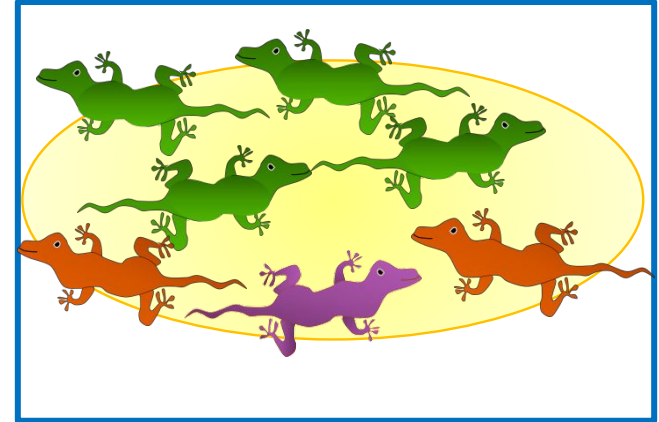
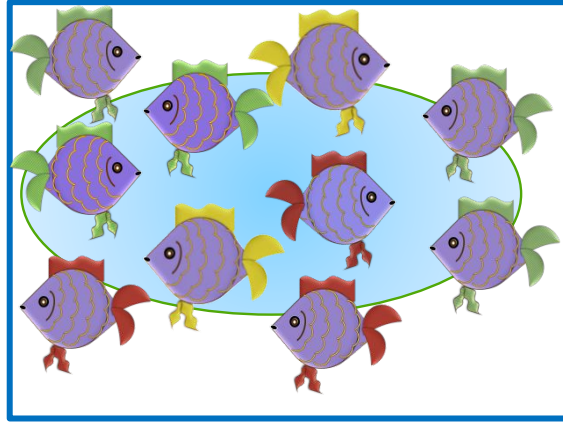

7

8

9

Урок 54. Числа и цифры. Римские цифры.

6. Помоги Кате записать число предметов на рисунках арабскими и римскими цифрами.



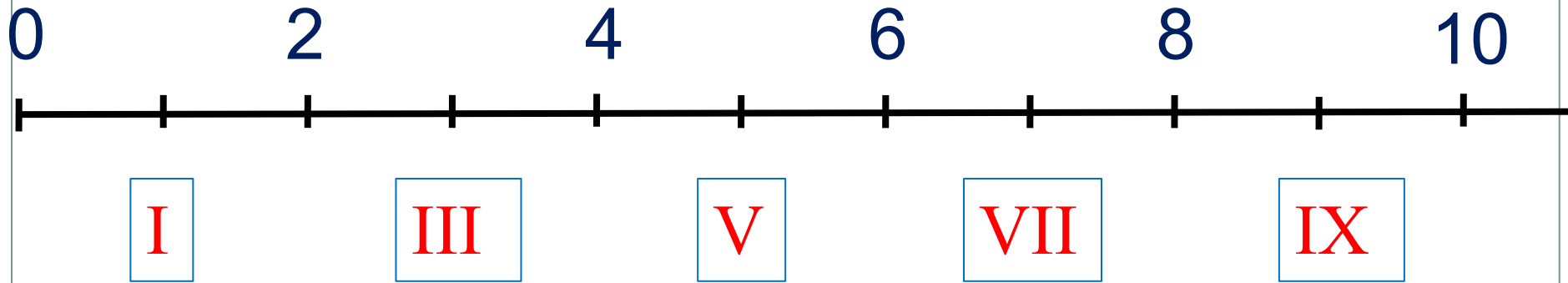
I V X

ПРОВЕРЬ!

0 1 2 3 4 5 6 7 8 9

7. Какие числа не записал Вова? Помоги ему записать пропущенные числа от наименьшего к наибольшему.

0 1 2 3 4 5 6 7 8 9 10



Внимание!

Данное задание можно выполнить интерактивно.

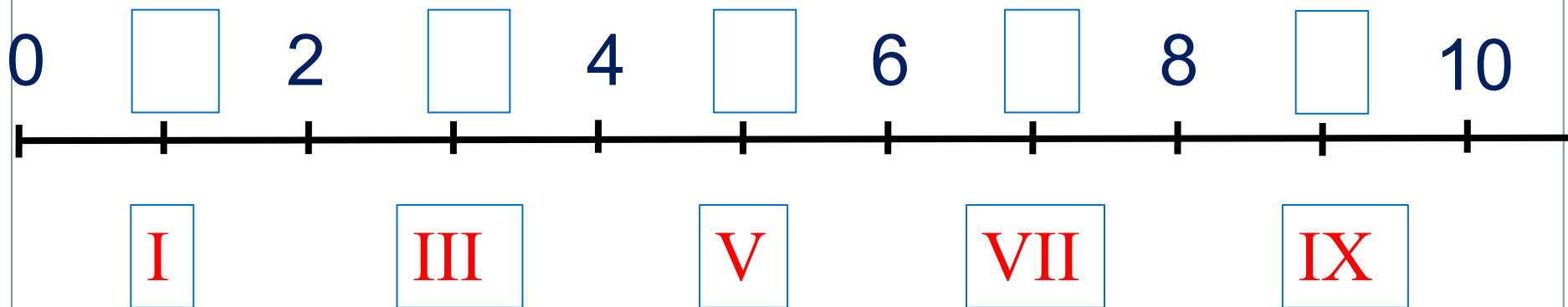
Для этого презентацию надо перевести в режим редактирования.

I II III IV V VI VII VIII IX X

Урок 54. Числа и цифры. Римские цифры.

МАТЕМАТИКА

7. Какие числа не записал Вова? Помоги ему записать пропущенные числа от наименьшего к наибольшему.



ПРОВЕРЬ!

I II III IV V VI VII VIII IX X

Спасибо!