


# Математическая эстафета «Веселый поезд в страну МАТЕМАТИКА»



Тем, кто учит математику.

Тем, кто учит математике.

Тем, кто любит математику.

Тем, кто еще не знает,

что может полюбить

математику-

*эстафета наша*

*посвящается!*

# 1. Станция Занимательная

*Время зря ты не теряй,  
на вопросы отвечай!*



## 2. Станция Глазомерная









# 3. Станция Магическая









<b>T</b>	<b>B</b>	<b>Q</b>
<b>B</b>		<b>T</b>
	<b>T</b>	<b>B</b>

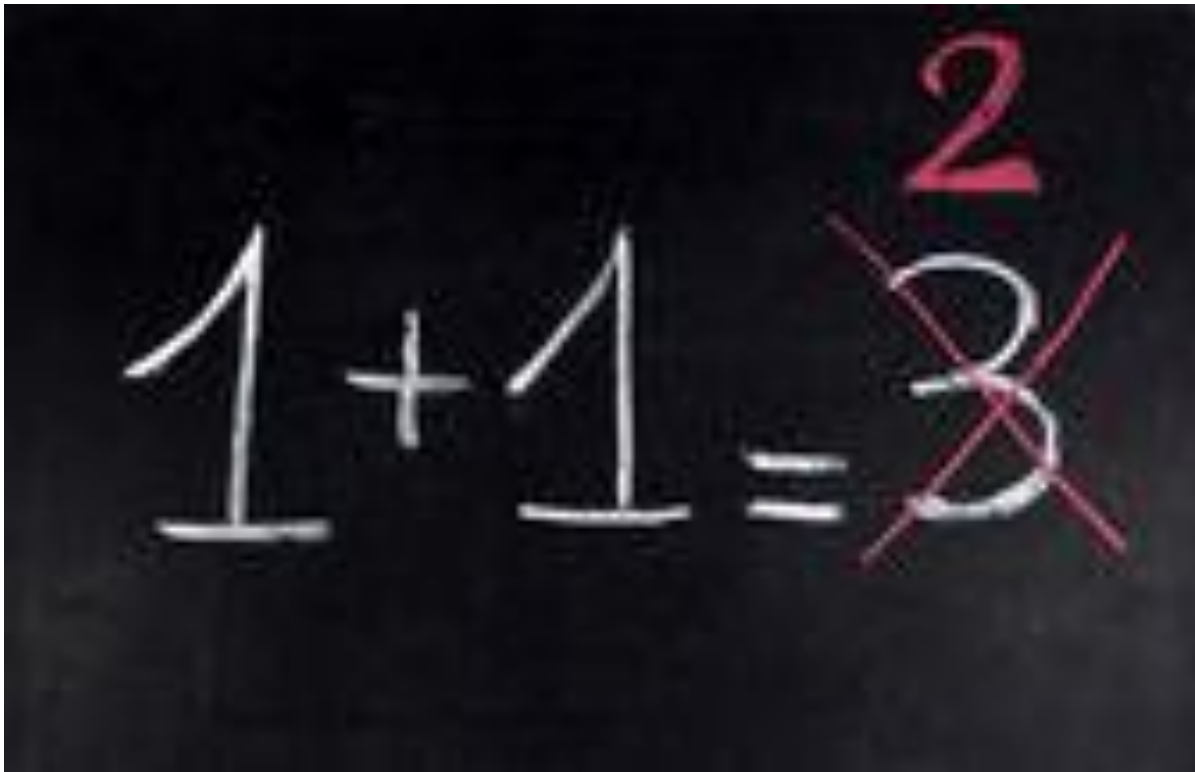
u	O	
	l	u
l		O



## 4. Станция Ошибок



1 + 1 = ~~3~~<sup>2</sup>

## 5. Станция Ребусная



y



1,3,2

”””





# 6. Станция Логическая



1. Девочки Ася, Таня, Ира и Лариса занимались спортом. Кто-то из них играл в волейбол, кто-то плавал, кто-то бегал, кто-то играл в шахматы. Каким спортом увлекалась каждая девочка, если Ася не играла в волейбол, в шахматы и не бегала, Ира не бегала и не играла в шахматы, а Таня не бегала?



2. Две девочки сажали деревья,  
а одна - цветы. Что сажала  
Таня, если Света с Ларисой и  
Лариса с Таней сажали разные  
растения?

3. Три девочки нарисовали  
двух кошек и одного зайца,  
каждая по одному животному.  
Что нарисовала Ася, если Катя  
с Асей и Лена с Асей  
нарисовали разных животных?

4. Два мальчика купили марки,  
один – значок и один –  
открытку. Что купил Толя, если  
Женя с Толей и Толя с Юрой  
купили разные предметы, а  
Миша купил значок?

# 7. Станция Конечная

