


Математическая эстафета «Веселый поезд в страну МАТЕМАТИКА»



Тем, кто учит математику.

Тем, кто учит математике.

Тем, кто любит математику.

Тем, кто еще не знает,

что может полюбить

математику-

эстафета наша

посвящается!

1. Станция Занимательная

*Время зря ты не теряй,
на вопросы отвечай!*



2. Станция Глазомерная















3. Станция Магическая



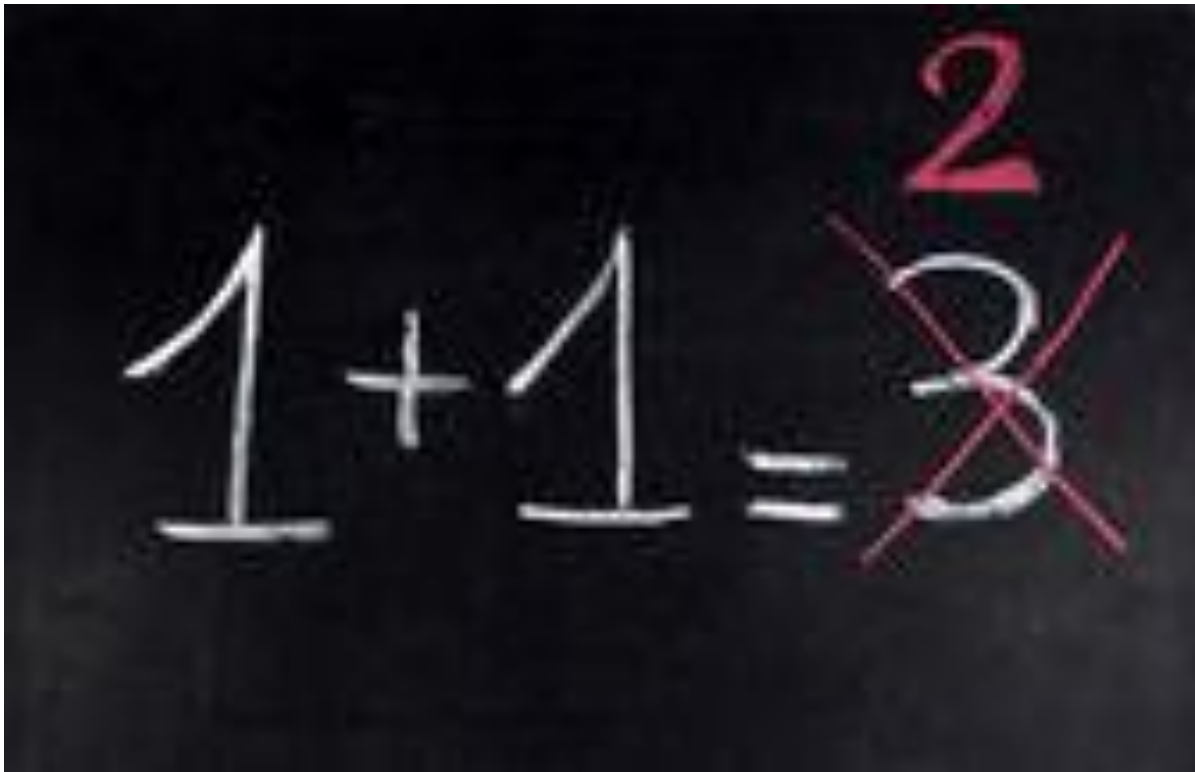
T	B	Q
B		T
	T	B

u	O	
	l	u
l		O

4. Станция Ошибок



1 + 1 = ~~3~~²

5. Станция Ребусная



y



”””





6. Станция Логическая



1. Девочки Ася, Таня, Ира и Лариса занимались спортом. Кто-то из них играл в волейбол, кто-то плавал, кто-то бегал, кто-то играл в шахматы. Каким спортом увлекалась каждая девочка, если Ася не играла в волейбол, в шахматы и не бегала, Ира не бегала и не играла в шахматы, а Таня не бегала?

2. Две девочки сажали деревья,
а одна - цветы. Что сажала
Таня, если Света с Ларисой и
Лариса с Таней сажали разные
растения?

3. Три девочки нарисовали
двух кошек и одного зайца,
каждая по одному животному.
Что нарисовала Ася, если Катя
с Асей и Лена с Асей
нарисовали разных животных?

4. Два мальчика купили марки,
один – значок и один –
открытку. Что купил Толя, если
Женя с Толей и Толя с Юрой
купили разные предметы, а
Миша купил значок?

7. Станция Конечная

