

АРИФМЕТИЧЕСКАЯ ИГРА

ГДЕ ЧЕЙ ДОМИК?



В математической стране,
в городе Цифрограде жили были цифры.
Они дружно жили в одном большом доме.
Как-то раз цифры узнали, что они обозначают



разные по значению числа:
кто-то большие, кто-то маленькие.

И стали они сравнивать числа,
выяснять, какое число больше $>$, а какое
число меньше $<$.

Однажды цифры решили переселиться
в разные домики согласно знакам - указателям.

Посмотри, как расселялись цифры.

Если хочешь играть прямо сейчас,

Нажми н кнопку «старт»

показа
ть

старт



7 не пустили указатели и она вернулась в прежний дом

\Rightarrow



Эти числа больше 7

>7

0 1 2 3 4 5 6 7 8 9

<7



Эти числа меньше 7

Помоги узнать, где чей домик.
Нажимай мышкой на ту цифру,
которая подходит к указанному знаком домику.
Смотри на мигающие подсказки.



старт

Готов играть?
Нажми на кнопку «старт»

Какие числа меньше 2?



0 1 2 3 4 5 6 7 8 9

Начинай расселять цифры по домикам по очереди - слева направо



5

2

6

0 меньше 2



2



6

0 1 2 3 4 5 6 7 8 9



5

Эти числа меньше 2



Расселяй цифры по домикам слева направо

1 2 3 4 5 6 7 8 9



Какие числа больше 5 ?



6

Эти числа меньше 2



2 3 4 5 6 7 8 9

2

6

6 больше 5



5

Эти числа меньше 2



2 3 4 5 7 8 9

Эти числа больше 5



6

5

2

6

Эти числа меньше 2



2

6

2 3 4 5

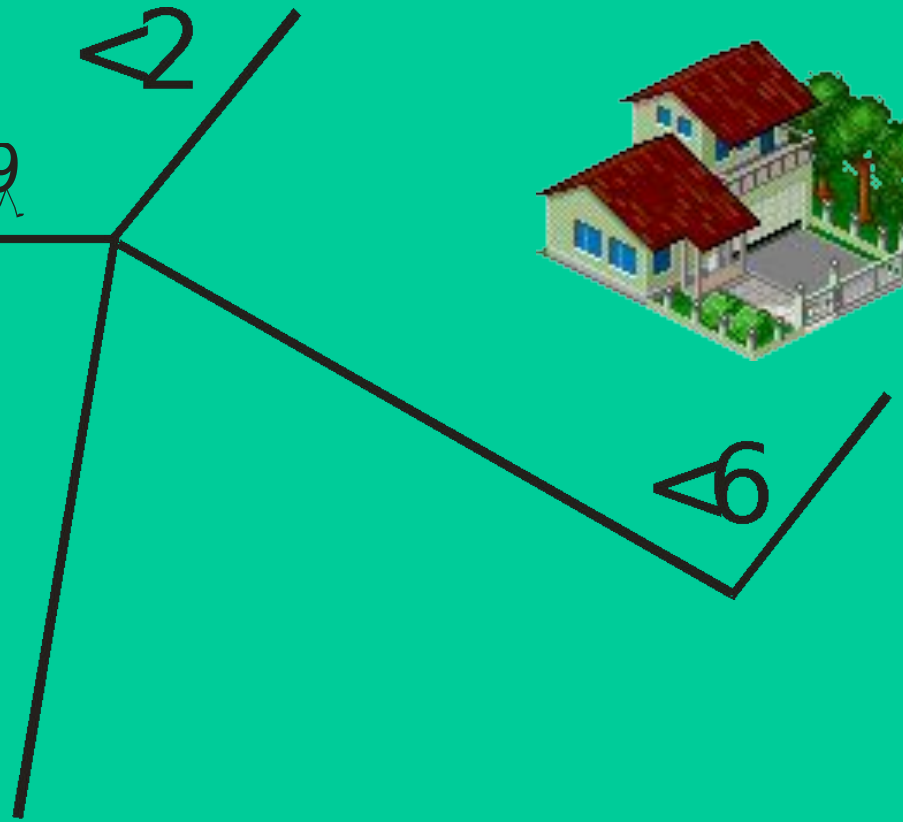
8 9

Эти числа больше 5



5

6 7



Эти числа меньше 2



Расселий цифры по домикам слева направо

2 3 4 5

9

2



6

Эти числа больше 5



5

6 7 8

Какие числа меньше 6 ?

Эти числа меньше 2



2



6

2 меньше 6

2 3 4 5

Эти числа больше 5



5

6 7 8 9

LLAMA.RU

Эти числа меньше 2



2



6

Эти числа меньше 6

3 4 5

Эти числа больше 5



5

6 7 8 9

Эти числа меньше 2



2



2 3

6

Эти числа меньше 6



Эти числа больше 5



6 7 8 9

5

4 5



Эти числа меньше 2



0 1

2



2 3 4

6

Эти числа меньше 6

5

Эти числа больше 5

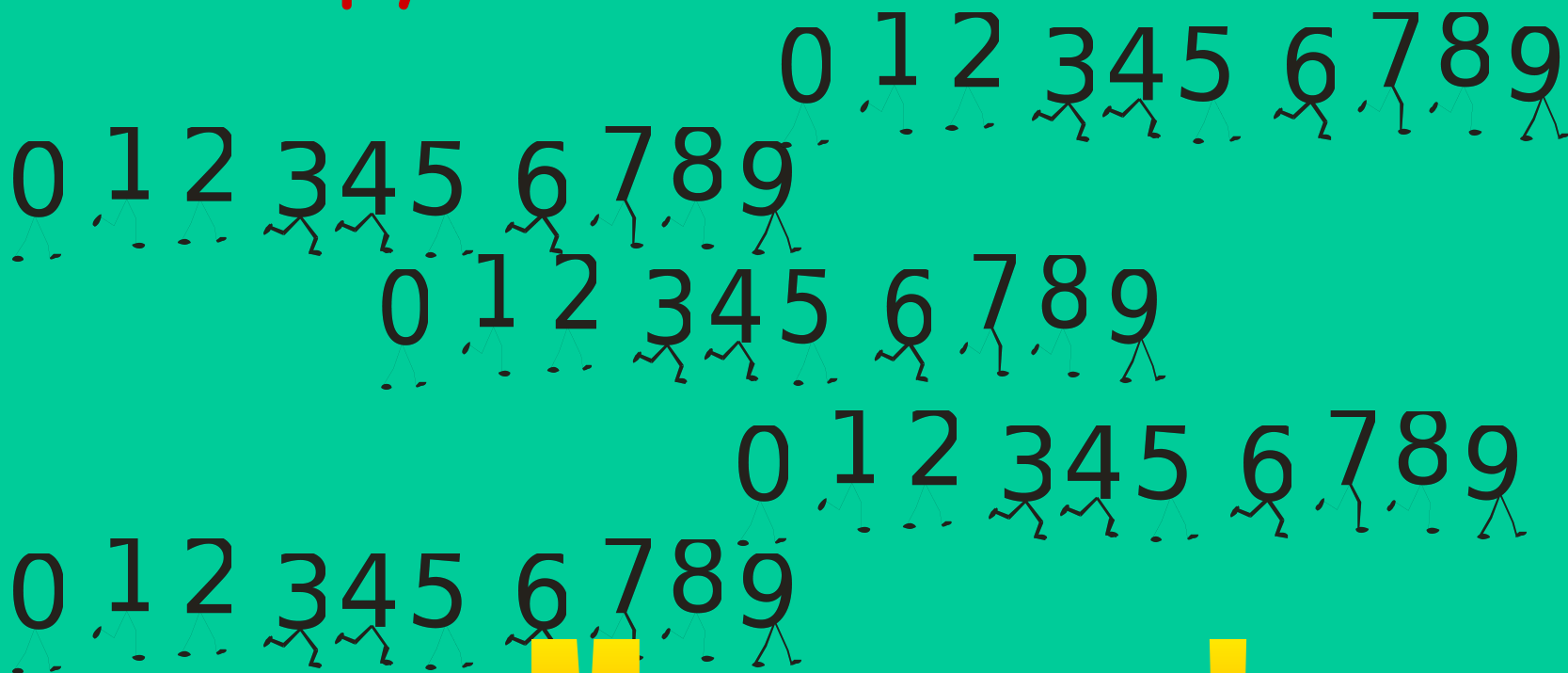


>5

6 7 8 9

LLAMA.RU

И стали цифры снова жить
дружно и счастливо.



Молодец!