
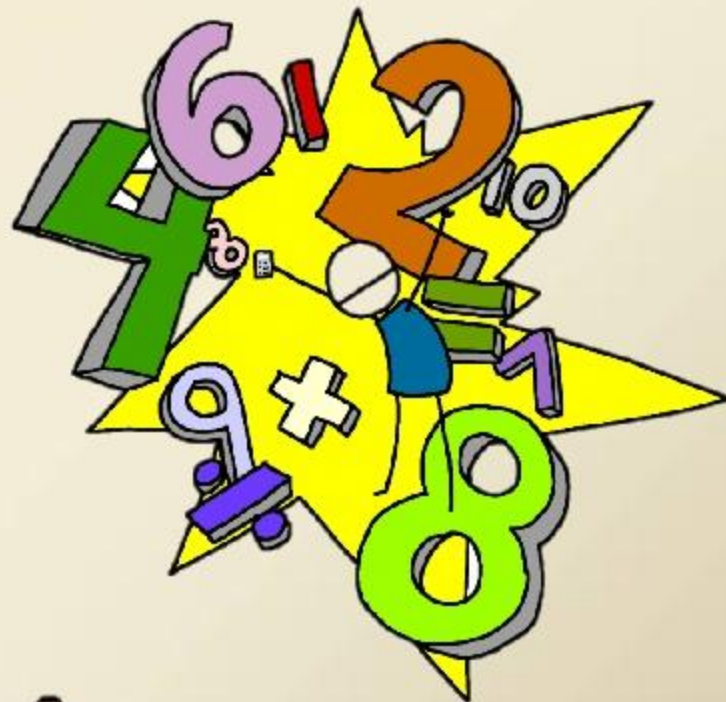


УСТНЫЙ СЧЕТ.

*Разработали
Воспитатели группы
«Звукоград»
Яковлева Н.П
Романуха Л.В*





**ПУТЕШЕСТВИЕ
В ОСЕННИЙ
ЛЕС!**

Посчитай перелетных птиц и выбери один из вариантов ответа

Посчитаем перелетных птиц



2

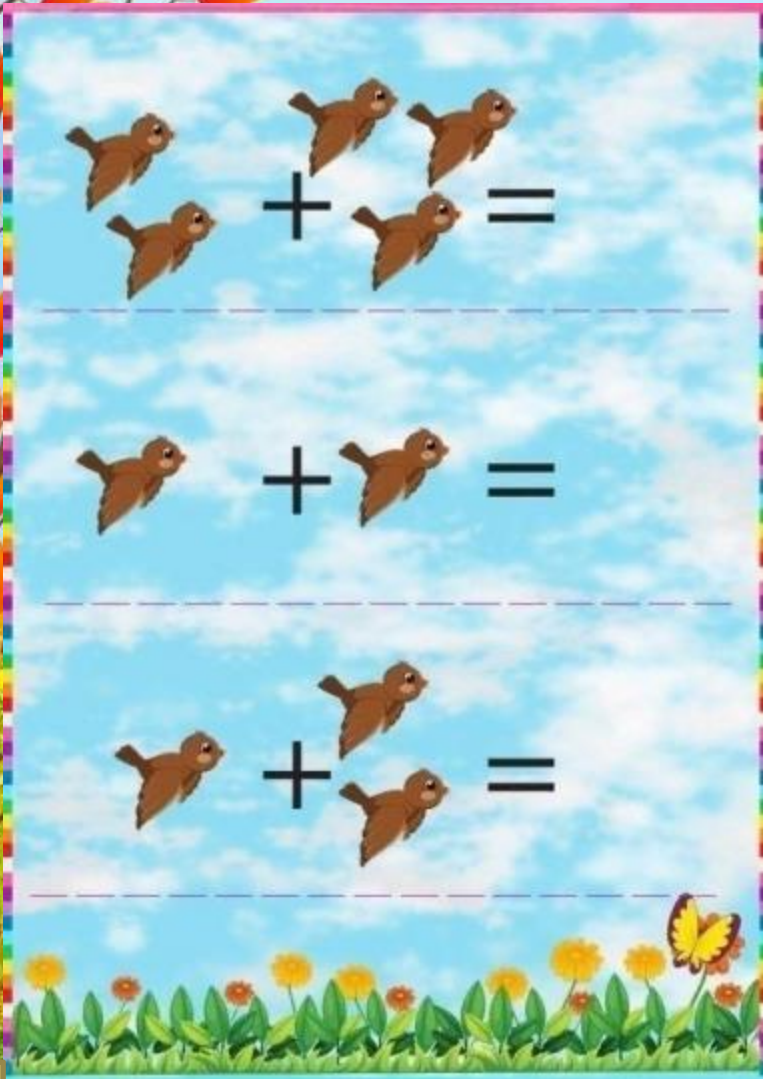
4

6



Сколько птиц в стае

Решите
примеры и
выберите
правильный
ответ



The image shows three addition problems, each with a background of a blue sky with white clouds and a green field with yellow flowers at the bottom. A dashed horizontal line separates the birds from the equals sign.

Problem 1: 3 birds + 2 birds =

Problem 2: 1 bird + 1 bird =

Problem 3: 1 bird + 2 birds =

5

3

2

1

2



0

3

2

1





2

3

5

1

5

4

3

2

1



Сколько прилетело птиц? Сколько гнезд? Всем птицам хватит гнезд? Кого больше? Что надо сделать, чтобы гнезд стало столько же, сколько и птиц? Сколько теперь гнезд? птиц? **«Каждой птице есть гнездо»**



4

3

1



Сколько зайчат? Сколько морковок? Кто больше? На сколько зайчат больше чем морковок? Что надо сделать чтобы морковок и зайчат стало поровну? сколько теперь зайчат? морковок?

Накорми зайчат!



7

6

1

Математические задачи

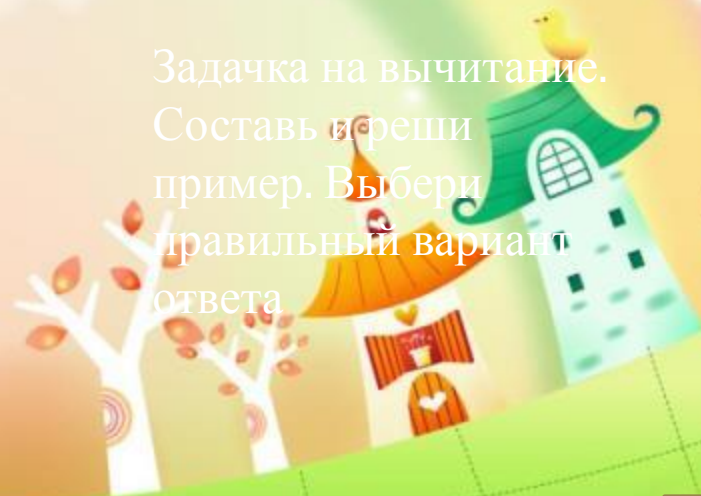
10

8

2

Задача на вычитание.
Составь и реши
пример. Выбери
правильный вариант
ответа

Ёжик по грибы пошел.
10 рыжиков нашел.
8 положил в корзину,
Остальные же на спину.
Сколько рыжиков везёшь
На своих иголках, ёж?




Проверим себя

$$10 - 8 = 2$$



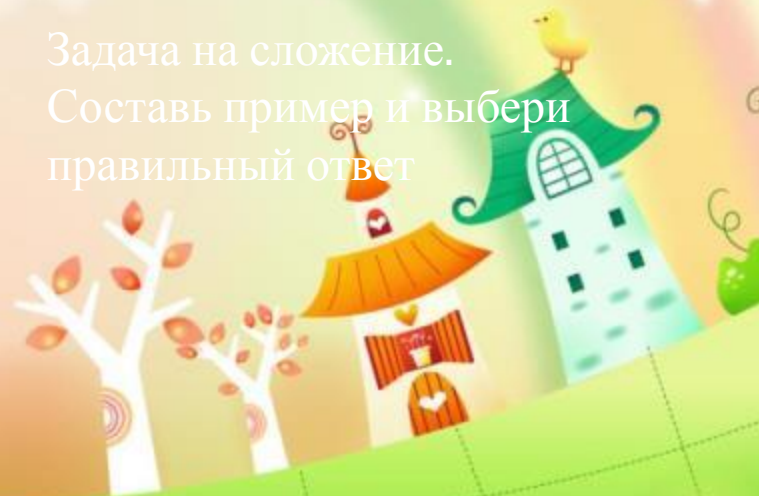
- Стала курица считать
Маленьких цыпляток:
Желтых пять и черных пять,
А всего...



10
8


5

Задача на сложение.
Составь пример и выбери
правильный ответ



Проверим себя

$$5 + 5 = 10$$



Соседи числа

Выбери нужные
числа, чтобы
заполнить
числовой ряд



4

6

8

5

2

3



6



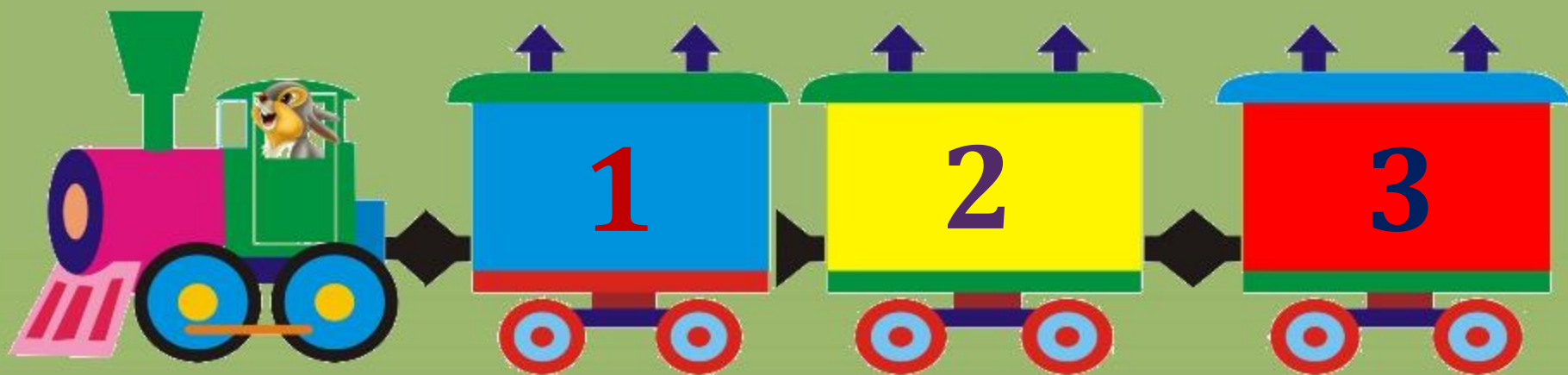
5

7

9

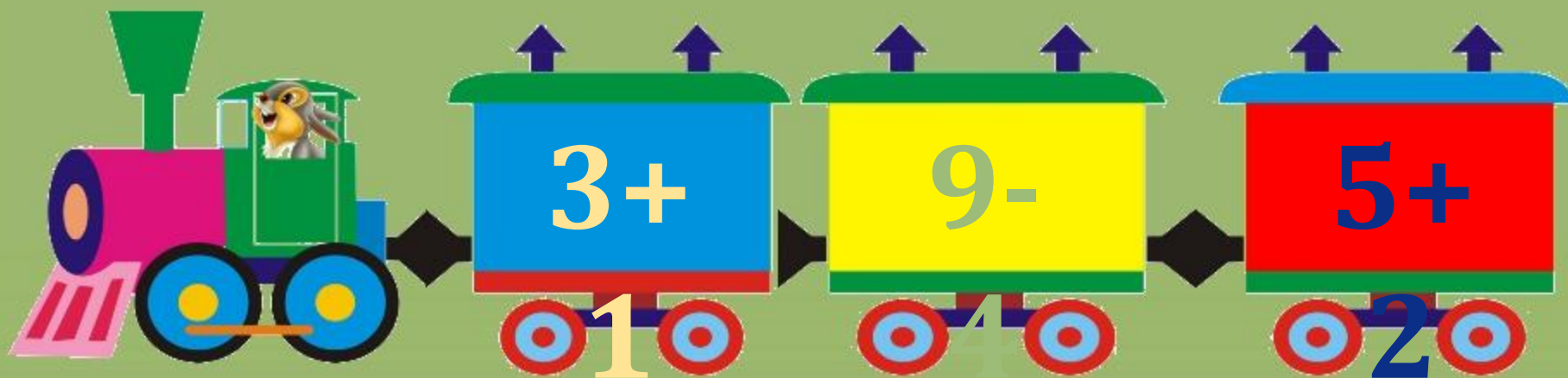
Соотнеси номер
животного с
номером вагончика

Где чей вагончик



Реши пример на вагончике, чтоб посадить туда животное

Где чей вагончик



Устный счет.



СПАСИБО ЗА ВНИМАНИЕ

