

МАТЕМАТИЧЕСКАЯ РАСКРАСКА

Раскрась лошадку

Реши примеры и покажи ответы



0

1

2

3

4

5

6

7

8

9

10

2+1



0

1

2

3

4

5

6


7

8

9

10

$4+0$



0

1

2

3

4

5

6

7

8

9

10



$$3 - 1$$

0

1

2

3

4

5


6

7

8

9

10



0

1

2

3

4

5

6

7

8

9

10

$6 - 2$



0

1

2

3

4

5

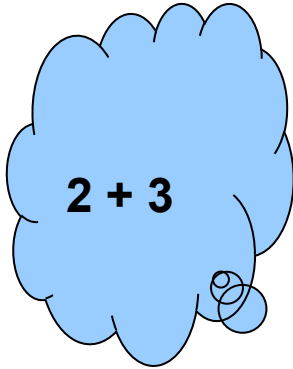
6

7

8

9

10



0

1

2

3

4

5

6

7

8

9

10

10 - 3



Замечательно!

