

**Математическая викторина**  
**«В гостях у мудрой совы»**  
**2 класс**




# ***Меню викторины***

- конкурс «Разминка»
- конкурс «Острый глаз»
- конкурс «Логический»
- конкурс «Отгадай ребус»
- конкурс «Математические бусы»
- конкурс «Сказочный»




# Разминка


● Около столовой, где стояли лыжники, пришедшие из похода, лежало 20 лыж, а в снег было воткнуто 26 палочек. Сколько лыжников ходило в поход? **10 лыжников**



● Десять ребят привели в школу петушка, утку, кошку и мышку. Сколько глаз у животных? **12 глаз**



● Бабушка вяжет своим внукам варежки и перчатки. Всего она связала 6 варежек. Сколько внуков у бабушки? **3 внука**



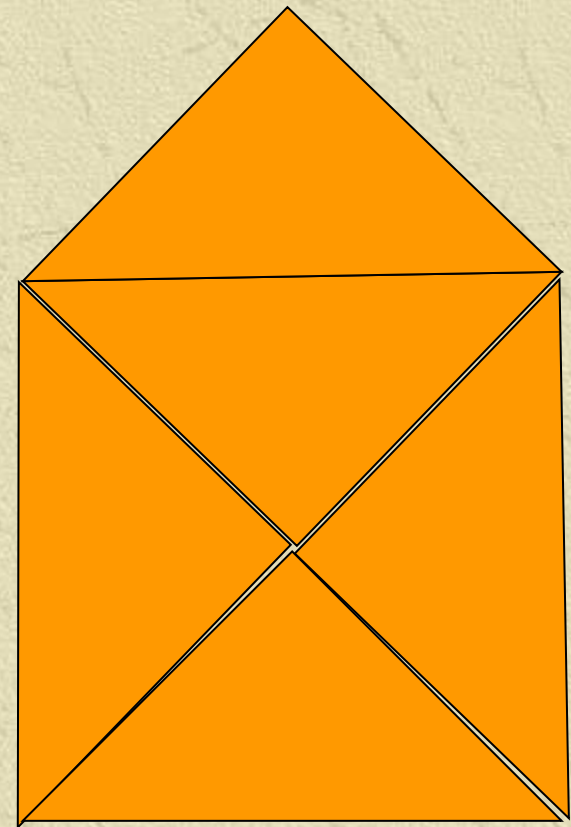


# Острый глаз




Сколько  
треугольников  
нарисовано?

9 треугольников





# Логический





Кто старше?

Три брата - Ваня, Саша, Коля - учились в разных классах. Ваня был не старше Коли, а Саша – не старше Вани. Назовите имена старшего, среднего и младшего братьев.

Коля

Ваня

Саша






# Отгадай ребус



ЧИ



Число

О



Один

Д

„



Два



# Математические бусы



Из разных цифр я сделал бусы,  
А в тех кружках, где чисел нет,  
Расставьте минусы и плюсы,  
Чтоб данный получить ответ.

$$44 \circ 15 \circ 13 \circ 7 = 23$$

$$86 \circ 45 \circ 34 \circ 3 = 78$$



# Сказочный

• Сколько коз  
у многодетной



Семеро

• у



было

Сорок

• С  
старик  
Пуш  
рыб




л старик со  
Тридцать  
в сказке Д.О.  
о рыбаке три



## **ЗАДАЧНЫЙ**

1. От дома до колодца 15 метров. Юра принес три ведра воды. Сколько метров он при этом прошел?



***90 метров***

2. На сколько станет больше или меньше карандашей, если взять 2 раза по 6 карандашей, а положить 3 раза по 4 карандаша?

***Не изменится***

3. В бочке 26 ведер воды. Из нее забрали 17 ведер. Сколько необходимо ведер воды долить, чтобы в бочке стало 30 ведер воды?

***25 вёдер***

7. У Максима и Жени наклеек поровну. Максим дал Жене 15 наклеек. На сколько, больше стало наклеек у Жени, чем у Максима?

---

*На тридцать*

8. В поезде 22 вагона. Класс расположился в 11 вагоне. Сколько вагонов перед ними и сколько за ними?

*Перед ними-10 вагонов*

*За ними-11 вагонов*

9. Для игры в «Кочки» положили 6 обручей с интервалом в 1 метр. Какое расстояние между первым и последним обручем?

*5 метров*