

МАТЕМАТИЧЕСКИЕ РЕБУСЫ

B=P



y

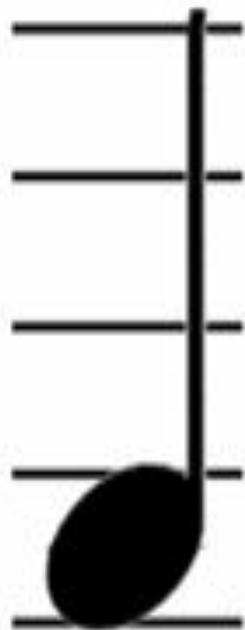


1,3,2

”””




π




e k









~~E~~





E=A





”

b



$L=R$



$E=И$







T



4=A

ДА



””””

Задания на смекалку

Масса петуха, стоящего на двух
ногах, 4 кг. Какова будет масса
петуха, если он встанет на
одну ногу?

Два мальчика играли в шашки
2 ч. Сколько часов играл
каждый мальчик?

Пара лошадей пробежала 40км.
Сколько километров
пробежала каждая лошадь?

У семи братьев по одной
сестрице. Сколько всего детей
в семье?

Масса дрессированной
собачки, когда она стоит на
задних лапах, 3кг. Какова
будет ее масса, если она
встанет на 4 ноги?

Марина и Оля сестры. Марина сказала, что у неё 2 брата, и Оля сказала, что у неё тоже 2 брата. Сколько детей в семье?

Геологи нашли 7 камней. Масса каждого камня: 1кг, 2кг, 3кг, 4кг, 5кг, 6кг, 7кг. Эти камни разложили в 4 рюкзака так, что в каждом рюкзаке масса камней оказалась одинаковой.

Как это сделать?

У Васи несколько орехов, а у
Вити их на 2 больше. Всего
орехов у них 6. Сколько
орехов у каждого мальчика?

У брата и сестры было вместе 8 конфет. Когда сестра отдала брату 3 конфеты, у них стало поровну. По сколько конфет у них было сначала?

Брат и сестра увидели в вазе орехи
и стали думать, как их разделить.
Брат сказал: «Если мы возьмем
по 3 ореха, то одного нам не
хватит». Сколько орехов в вазе?