


Ребусы

Выполнила
Учитель начальных
классов
ГБОУ школы №354
Никандрова Ирина
Алексеевна




ЧИСЛО

ЧИС



ВОСЕМЬ



ЗАДАЧА

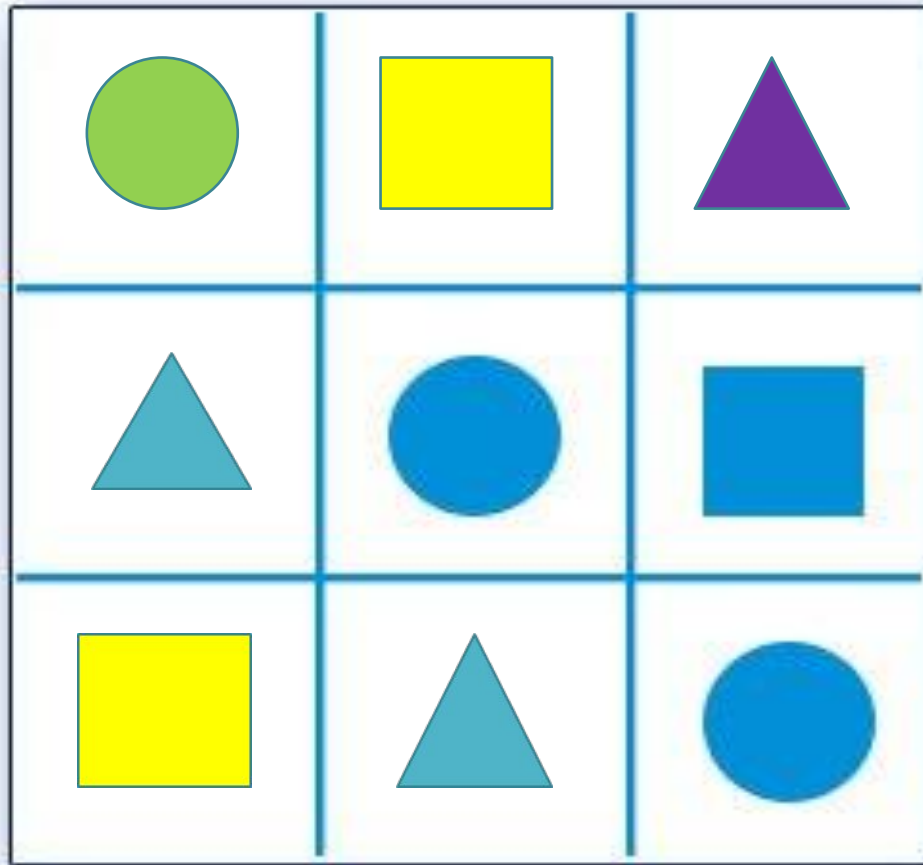


ТОЧКА

Т



4=A



В каждую клетку квадрата 3 × 3 надо вписать одну из геометрических фигур: круг, квадрат или треугольник. Каждая фигура должна встречаться в каждой строчке и в каждом столбце. Заполните пустующие клетки.



Выбери правильное решение.

1. В новогодней гирлянде 90 фонариков: большие, средние и маленькие. Больших фонариков 30, средних - 20. Сколько маленьких фонариков в гирлянде?

$$1) 30 + 20 = 50 \text{ (ф.)}$$

$$2) 90 - 50 = 30 \text{ (ф.)}$$

$$1) 30 - 20 = 10 \text{ (ф.)}$$

$$2) 90 - 10 = 80 \text{ (ф.)}$$

$$1) 30 + 20 = 50 \text{ (ф.)}$$

$$2) 90 - 50 = 40 \text{ (ф.)}$$




ОТРЕЗОК




$$3 \text{ Apples} + 3 \text{ Apples} + 3 \text{ Apples} = 30$$


$$1 \text{ Apple} + 2 \text{ Bananas} + 2 \text{ Bananas} = 18$$


$$2 \text{ Bananas} - 2 \text{ Coconuts} = 2$$


$$1 \text{ Coconut} + 1 \text{ Apple} + 1 \text{ Banana} = 14$$

СПАСИБО ЗА ВНИМАНИЕ! 