


Математический базар



Составитель: Лопсонова Ханда-Жап Доржиевна МБОУ «Галбайская ООШ»



ПИФАГОР





Разминка

1

1

10

3

9

5





Быстро и правильно отвечай

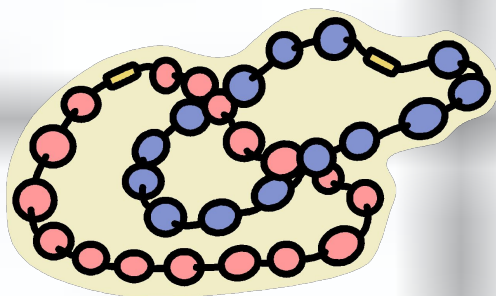
2





Математические бусы

3





Математические бусы

1 класс

$$2 + 3 - 1 + 4 - 2 = 4$$

2 класс

$$\begin{matrix} 1 \\ 2 \end{matrix} + \begin{matrix} 1 \\ 0 \end{matrix} \cdot 8 - \begin{matrix} 2 \\ 0 \end{matrix} \cdot \begin{matrix} 3 \\ 0 \end{matrix} = \begin{matrix} 4 \\ 0 \end{matrix}$$

3 класс

$$\begin{matrix} 6 \\ 5 \end{matrix} \cdot \begin{matrix} 3 \\ 0 \end{matrix} + 5 - 7 + \begin{matrix} 1 \\ 1 \end{matrix} = \begin{matrix} 6 \\ 0 \end{matrix}$$

4 класс

$$\begin{matrix} 1 \\ 2 \\ 0 \end{matrix} + \begin{matrix} 3 \\ 0 \end{matrix} - \begin{matrix} 1 \\ 0 \end{matrix} + \begin{matrix} 2 \\ 0 \end{matrix} - \begin{matrix} 1 \\ 0 \\ 0 \end{matrix} = \begin{matrix} 2 \\ 0 \\ 0 \end{matrix}$$





*Что означают эти
выражения?*

4





*Одна нога здесь,
другая –там.*

*Как свои пять
пальцев.*

*На все четыре
стороны.*

*От горшка два
вершка.*





Отгадай ребус

5





С З Ж

ВИ З НА

ВО 100 К

ПРО 100 Р





Сказочный

6







Задачки в стихах.

7





Собери пословицу.

8





СЕМЬ ОТРЕЖЬ

- ОДИН РАЗ

ОТМЕРЬ

ГОЛОВА ОДНА

ХОРОШ
О ЛУЧШЕ

, А ДВЕ

ЛУЧШЕ СТО РАЗ

УВИДЕТЬ УСЛЫШАТЬ

, ЧЕМ РАЗ ОДИН

ВЛЕТЕЛО -
ВЫЛЕТЕЛО

В УХО ДРУГОЕ

ОДНО , В





*Семь раз
отмерь –
один отрежь.*

*Одна голова
хорошо, а две
лучше.*

*Лучше один раз
увидеть, чем
сто раз
услышать.*

*В одно ухо
влетело, в другое
- вылетело.*





Прояви смекалку.

9








*1. В доме 7
этажей.
Какой этаж
средний?*

*2. На полке 9 пар
сапог. Сколько
сапог на правую
ногу?*

*3. Как найти
середину палки,
имея веревку
такой же
длины?*



*4. Подрисуйте к
квадрату два
треугольника так,
чтобы получился
треугольник.*





Подведение итогов.

