


Математический
Брейн -ринг
2 класс



Приветствие



Размишка





Сколько ушей у 3 мышей



Сколько лап у двух медвежат?



Крышка стола имеет 4 угла.
Один из них отпилили.
Сколько углов стало?





У животного 2 правые ноги, 2 левые ноги, 2 ноги спереди, 2 – позади. Сколько ног у животного?



Груша тяжелее яблока, а яблоко тяжелее персика. Что тяжелее: груша или персик?



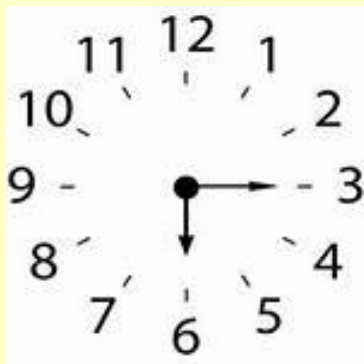
СКОЛЬКО КОНЦОВ У ДВУХ
С ПОЛОВИНОЙ ПАЛОК?



У Синдбада сундук с кладом. Чтобы замок открылся, надо набрать шифр: это наименьшее число, записанное двумя одинаковыми цифрами.



Длина бревна 5м. В одну минуту от него отпиливают по одному метру. За сколько минут будет распилено всё бревно?





На двух руках 10 пальцев.
Сколько пальцев на 10 руках?



Лицилинеае число



Найди лишнее число:

а) 5, 10, 11, 15, 20

б) 40, 30, 19, 20, 70

в) 12, 16, 34, 13, 18

г) 23, 43, 58, 93, 63

Проверка:

а) 5, 10, **11**, 15, 20

б) 40, 30, **19**, 20, 70

в) 12, 16, 34, **13**, 18

г) 23, 43, **58**, 93, 33

Пословицы и фразеологизмы



Наврал с ... короба.

У него ... пятниц на неделе.

... раз отмерь, ... раз отрежь.

Обещанного ... года ждут.

... сапога – пара.

Скупой платит

Конкурс капитанов



Вместо вопросительных знаков поставьте
знак «+» или «-» так, чтобы равенство стало
верным

$$4 ? 2 ? 6 ? 3 ? 5 = 10$$

$$8 ? 1 ? 7 ? 5 ? 9 = 10$$

$$3 ? 2 ? 1 ? 6 ? 4 = 10$$

35	52	30	29	34	18	31	26	53	17

$70 - 40 \text{ Б}$

$35 + 5 \text{ Т}$

$40 - 14 \text{ К}$

$40 + 5 \text{ О}$

$80 - 49 \text{ Ш}$

$90 - 37 \text{ А}$

$30 - 13 \text{ !}$

$80 - 28 \text{ Е}$

$73 - 3 \text{ Ы}$

$90 - 61 \text{ У}$

$60 - 17 \text{ С}$

$60 - 25 \text{ Ч}$

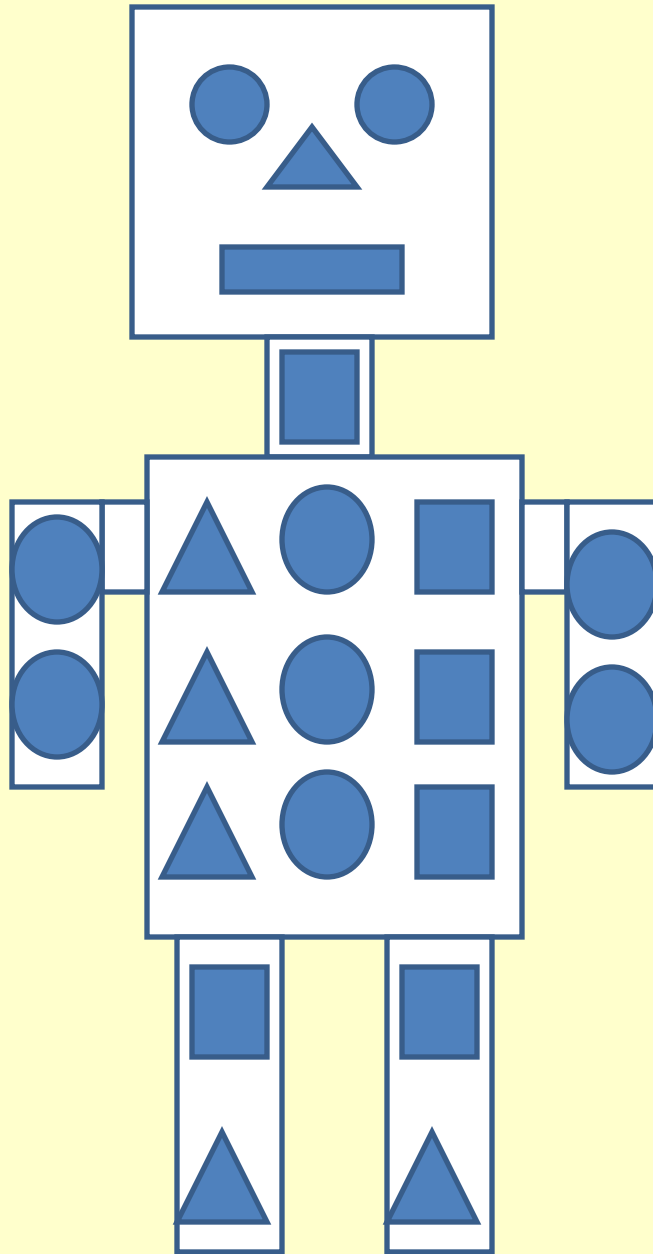
$50 - 32 \text{ А}$

$50 - 16 \text{ Р}$

$51 + 6 \text{ Ю}$

35	52	3	29	34	18	31	26	53	17
Ч	Е	Б	У	Р	А	Ш	К	А	!





Подведение итогов!



Спасибо за игру!

