

*Математический  
Брейн - ринг*




# разминка

"Скажи, поспеши"



Две сардельки варятся  
шесть минут. Сколько  
времени будут вариться  
восемь таких сарделек?







Шла баба в Москву и повстречала трёх мужиков. Каждый из них нёс по мешку, в каждом мешке по коту. Сколько существ направлялось в Москву?




- В классе их четыре
- Маленьких туда ставят




УГОЛ




Пять лампочек тускло горели  
в люстре. Хлопнули двери - и  
две перегорели. Сделать нужно  
вам малость: сказать, сколько  
ламп осталось?




- Бывают такие коробки
- В них играют малыши
- Объёмный квадрат



КУБ




Сидят три кошки,  
против каждой кошки-  
две кошки. Много ли  
всех?



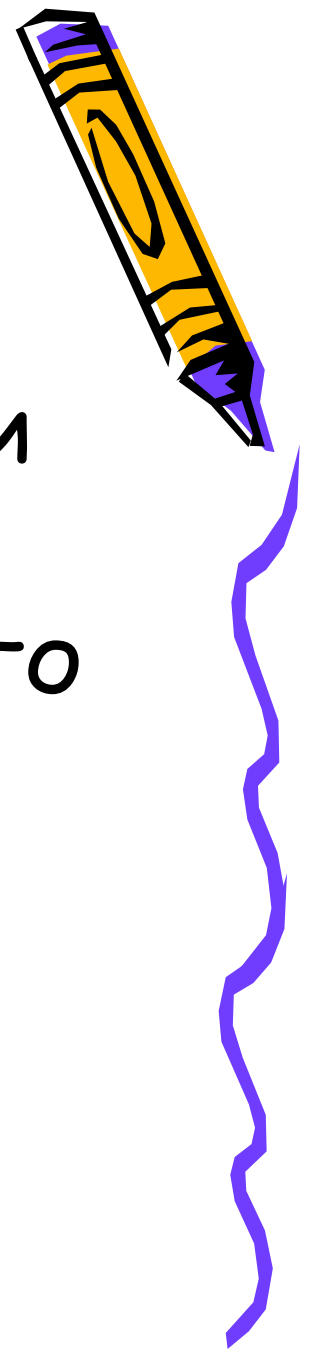


- В песне он солнечный.
- А на воде спасательный
- В математике -  
геометрическая фигура

**круг**



У одного мужчины спросили,  
сколько у него детей. Он  
ответил: у меня четыре сына и  
у каждого из них есть родная  
сестра. Сколько же детей у него  
было?



- Он очень толстый.
- Мы на нём живём.
- Похож на арбуз.



ШАР



Что тяжелее- один килограмм ваты или килограмм железа?



Конкурс.

# Ребусы




1. сви 100 к свисток

2. 9 ~~ть~~ но 100 девяносто


3. о 5 - а опята



# ГОЛОВОЛОМКА



1.



2. Ира - мама Марии, **Внучкой**  
Мария - мама Даши.

Кем приходится Даша Ирине?

3. У Петра Ивановича  
7 дочерей и у каждой из них  
есть брат. Сколько детей у  
Петра Ивановича?

8





1. Сколько червячков стало добычей стрижа?

2. Сколько кроликов достал фокусник из пустой шляпы?

3. Сколько рыбёшек оказалось внутри щуки?





4. Сколько кошек мяукает  
за дверью?


5. Сколько мальчиков имеет  
родинки на щеке?

6. Старый моряк рассказывал:  
«Чудес я тьму повидал.»  
Ну, и сколько он их видел?





# Доскажи пословицу



Семь раз ...

отмерь, один раз отрежь.

Семь пятниц... на неделе.

Семеро одного... не ждут.

Одна голова хорошо,... а две лучше.

Один за всех,... все за одного.



