




2 класс
Математический
диктант № 5

Выполнила
Кирилова С.Г.
Учитель начальных
классов
Школы «Ученики
Пифагора»

**Вес ягнёнка 6 кг,
а овечки на 12 кг
больше.**



**СКОЛЬКО ВЕСИТ
баран,
Если он на 10 кг
Тяжелее
овечки?**



**Сахар рассыпали
поровну
в 2 пакета.**

**Когда из 1 пакета
использовали 3кг,
там ещё осталось 9кг.**

**Сколько килограммов
сахара
было сначала в двух
пакетах?**



**Первое число 11, второе 17,
а третье - на 8 меньше, чем второе.**

Найдите сумму первого и третьего.

11

17

?

+

=

?

**В двух мешках
было 38 кг лука.**

**Когда из первого
мешка
взяли 9 кг лука,
в нём осталось ещё
9кг.**

**Сколько
килограммов лука
было во втором**






На игровой площадке играли 7 девочек и мальчики, которых было на 4 человека больше.

Через час **половина** всех играющих ушла делать уроки.

**Вес гуся 4 кг,
что
составляет
половину
веса
индюка.**

**Сколько
весят
два**





В гараже стояло 30 автомобилей.

После того, как выехало 16 легковых
и несколько грузовых,

В гараже осталось 10 автомобилей.

Сколько грузовых автомобилей выехало из
гаража?


**У двух братьев
вместе
было 20 орехов.**



**Когда старший брат
съел 2 ореха,
То орехов стало у них
поровну.**



**Сколько орехов
было**



За книгу и альбом заплатили 40 рублей.

Книга стоит 30 рублей.

На сколько альбом дешевле книги?

От коровы надоили за
сутки
20 литра молока.

Когда часть молока
дали **двум** телятам,
Поровну каждому,
осталось 12 литров.

**Сколько литров молока
выпил каждый телёнок?**



Проверь свои ответы:

**28кг, 24 кг, 20, 20кг, 9, 16, 4, 11, на 20руб,
4л.**