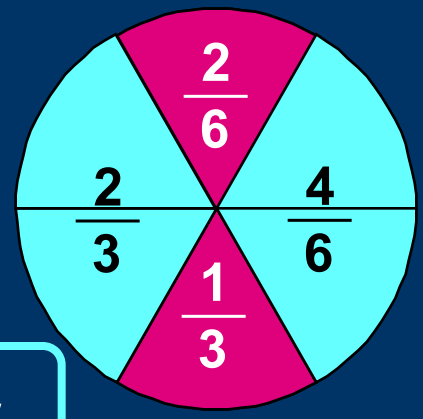
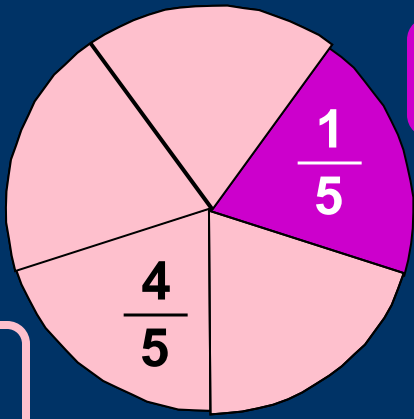


*- малиновый*



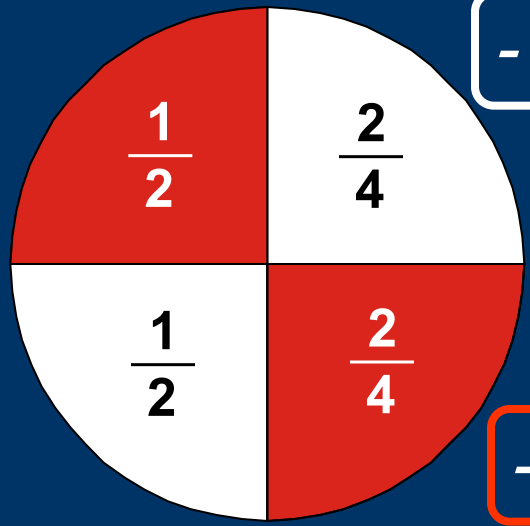
*голубой -*

*- сиреневый*



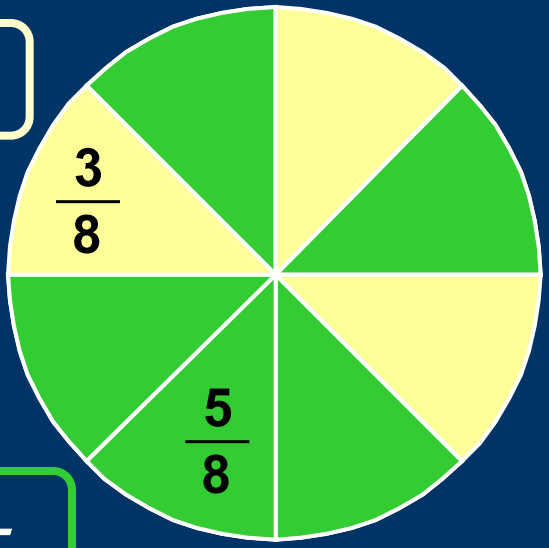
*розовый -*

*- белый*



*- красный*

*желтый -*



*зеленый -*

# Математический

## диктант "Флаги"

Тема: «Обыкновенные дроби»



Австрия



Украина



Бельгия



Маврикий



Россия



Индонезия

Каждый флаг разделен на несколько равных частей. Ответьте на вопросы:

1 Какая часть флага Австрии белая?  $\frac{1}{3}$

2 Какая часть флага Украины голубая?  $\frac{1}{2}$

3 Какая часть флага Бельгии черная?  $\frac{1}{3}$

4 Какая часть флага Маврикия зеленая?  $\frac{1}{4}$

5 На каких флагах красным цветом  
) закрашены одинаковые части?

России, Бельгии - по  $\frac{1}{3}$

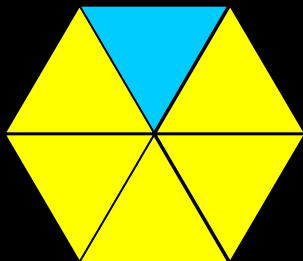
6 На каком флаге красным цветом  
) закрашена наибольшая часть? А белым?

Австрии  
Индонезии

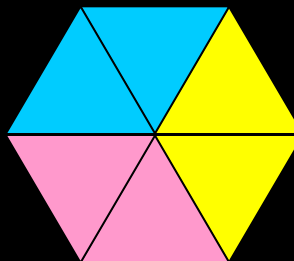
# Какая часть фигуры закрашена:



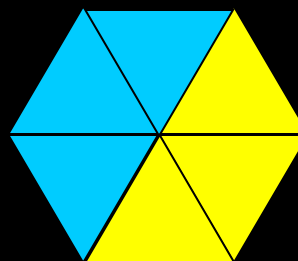
1



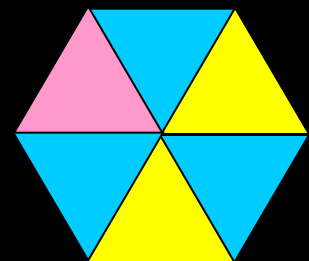
2



3



4



а) голубым —

$$\frac{1}{6}$$

$$\frac{2}{6} \quad \frac{1}{3}$$

$$\frac{3}{6} \quad \frac{1}{2}$$

$$\frac{3}{6} \quad \frac{1}{2}$$

б) желтым —

$$\frac{5}{6}$$

$$\frac{2}{6} \quad \frac{1}{3}$$

$$\frac{3}{6} \quad \frac{1}{2}$$

$$\frac{2}{6} \quad \frac{1}{2}$$

в) розовым —

$$\frac{2}{6} \quad \frac{1}{3}$$

$$\frac{1}{6}$$