




*Час  
занимательной  
математика*



Разгадай ребусы.


По 2 л 7 я

40


100 лб

# Игры с палочками

Из **10** палочек сложите **3** одинаковых квадрата



Как сложить из **7** палочек **3** треугольника?





Лена



Даша




Таня

Жили-были три девочки: Таня, Лена и Даша.  
Таня выше Лены, Лена выше Даши.  
Кого из них как зовут?

Стоит в поле дуб, а на дубе 8 веток. На каждой ветке по 2 крупные сладкие сливы. Сколько слив ты можешь собрать?

По небу летали воробей, ворона, стрекоза, ласточка и шмель. Сколько птиц летало?

Сколько концов у трёх с половиной палок?



Посадил дед вдоль одной тропинки три берёзы. Бабка между каждыми соседними берёзами посадила липы. А внучка между каждыми соседними деревьями посадила по кусту роз. Сколько кустиков роз посадила внучка?



# Поиск закономерностей

Проследи, как получается каждое следующее число и назови в каждый ряд ещё по 1 числу


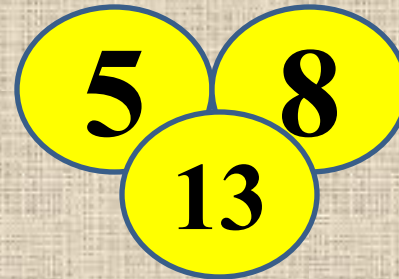
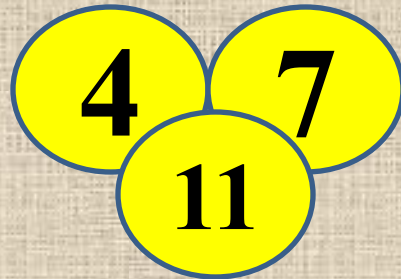

1) 0, 2, 4, 6, 8, **10**

3) 1, 2, 4, 7, 11, **16**

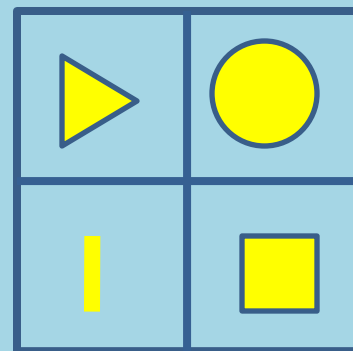

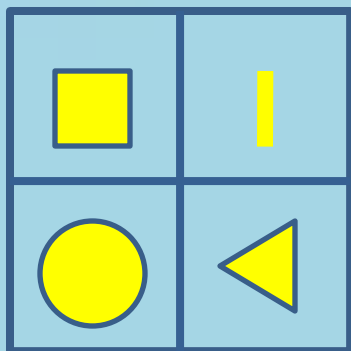

2) 1, 4, 7, 10, **13**

4) 4, 8, 12, **16**

Найдите связь между числами заполните свободные кружки



# Заполните фигурами пустой квадрат




## Примечание:

проследите как изменяется расположение фигур в первых трёх квадратах.





# Будь внимательным

Сколько на чертеже различных треугольников?




Проверь: 7 ▲




3  
4  
5  
2  
1  
0

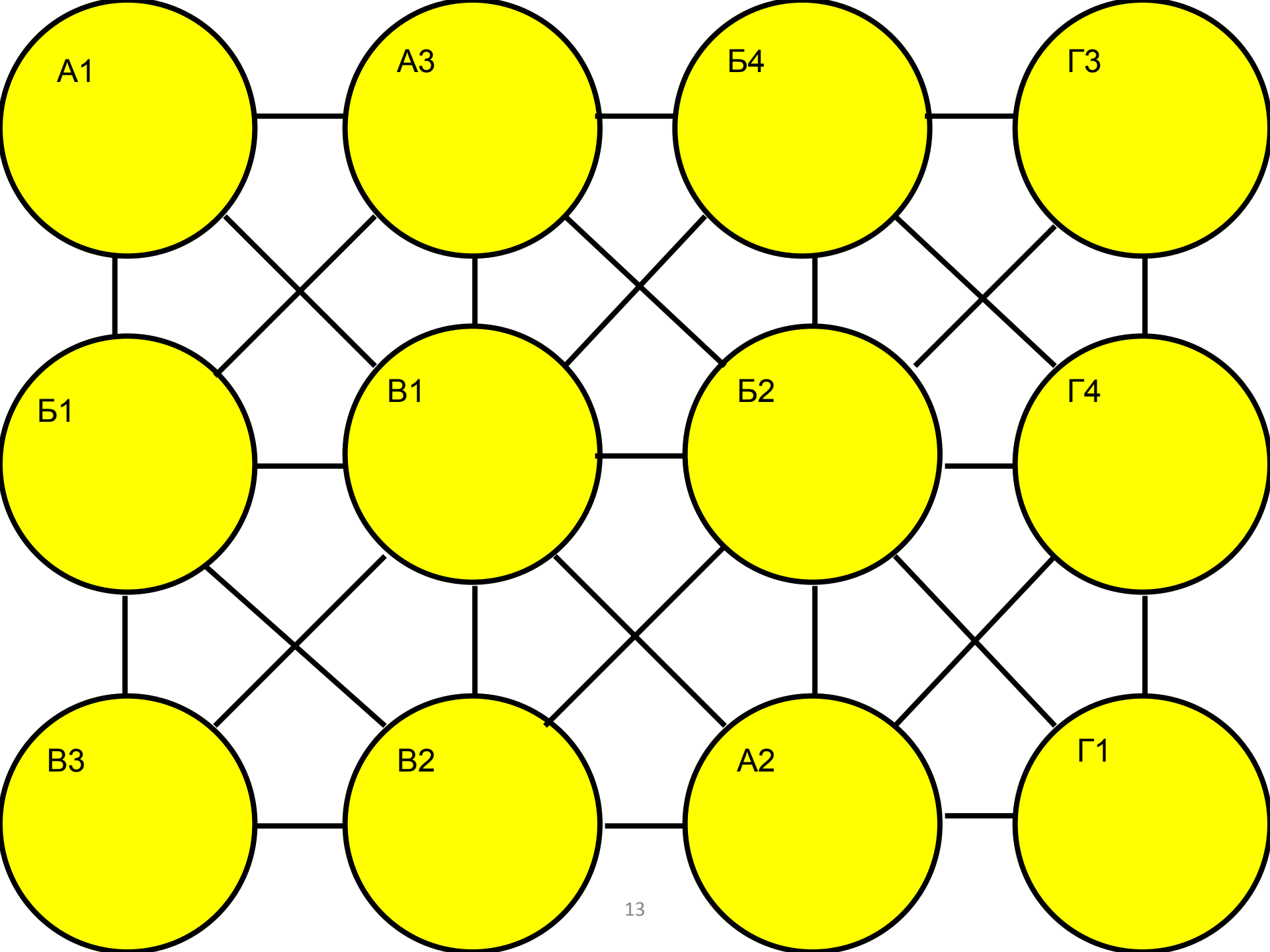


# ПОЧТАЛЬОН



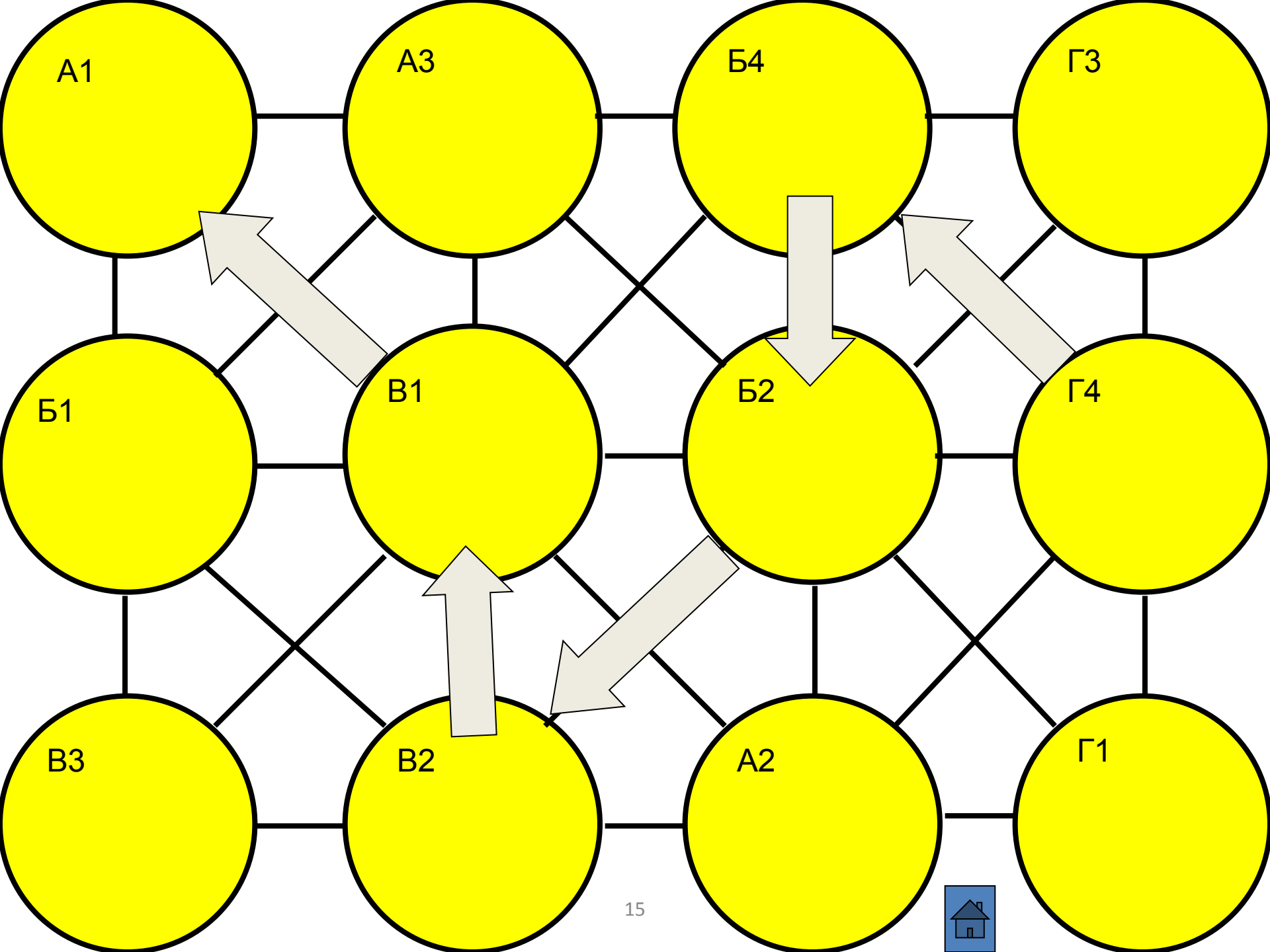
НАЙДИТЕ ДОРОГУ  
ПОЧТАЛЬОНА  
Г-4 В А-1 ЗА 5  
ХОДОВ.





# ПРОВЕРЬТЕ СЕБЯ.





# *Использованные ресурсы*

**В.Н.Рудницкая** «Дидактические материалы. Математика» 1 класс. II часть  
Вентана-Граф. 2006 г.

**В.П. Труднев** «Внеклассная работа по математике в начальной школе»  
М., Просвещение , 1975 г.

**Материалы XII олимпиады младших школьников (24 февраля 2008г) при  
малом Мехмате МГУ им. М.В.Ломоносова** *Младшая группа. – 1 класс.*  
[http://mathbaby.narod.ru/uslov2008\\_1kl.htm](http://mathbaby.narod.ru/uslov2008_1kl.htm)

## **Рисунки :**

[http://images.yandex.ru/yandsearch?p=66&ed=1&text=%D0%9F%D1%8F%D1%82%D0%B0%D1%87%D0%BE%D0%BA&spsite=vision.rambler.ru&img\\_url=www.f10ke.net%2Fuploads%2F3\\_2.thum.jpg&rpt=simage](http://images.yandex.ru/yandsearch?p=66&ed=1&text=%D0%9F%D1%8F%D1%82%D0%B0%D1%87%D0%BE%D0%BA&spsite=vision.rambler.ru&img_url=www.f10ke.net%2Fuploads%2F3_2.thum.jpg&rpt=simage)