

Математический лабиринт

Будьте внимательны
Удачи вам!





Тане не хватает 2 р. для покупки 8 воздушных шариков. Если она купит 5 шариков, то у неё останется 10 р. Сколько стоит шарик?

- 1) 5 р. 1) 5 р. 2) 4 р. 1) 5 р. 2) 4 р.
3) 3 р.



МОЛОДЕЦ



ТВОЙ ОТВЕТ ВЕРНЫЙ




БУДЬ ВНИМАТЕЛЕН



ВЕРНИСЬ К ЗАДАНИЮ И
ПОСТАРАЙСЯ ВЫПОЛНИТЬ ЕГО
ВЕРНО



Сократили некоторую дробь и получили ответ $5/9$. Какую дробь сократили?



1) $25/27$ 1) $25/27$ 2) $15/27$ 1)
2) $25/27$ 2) $15/27$ 3) $10/20$



МОЛОДЕЦ



ТВОЙ ОТВЕТ ВЕРНЫЙ



БУДЬ ВНИМАТЕЛЕН

ВЕРНИСЬ К  ЗАДАНИЮ И
ПОСТАРАЙСЯ ВЫПОЛНИТЬ ЕГО
ВЕРНО





В треугольнике один из углов равен 30° , а два других равны между собой. Найдите углы треугольника.

1) 60° и 60° 2) 75° и 75° 3) 45° и 45°



МОЛОДЕЦ



ТВОЙ ОТВЕТ ВЕРНЫЙ



БУДЬ ВНИМАТЕЛЕН

ВЕРНИСЬ К  ЗАДАНИЮ И
ПОСТАРАЙСЯ ВЫПОЛНИТЬ ЕГО
ВЕРНО



Две стороны треугольника
равны 5 см и 8 см. Какой
может быть третья
сторона?

1) 13 см

2) 2 см

3) 10 см



МОЛОДЕЦ



ТВОЙ ОТВЕТ ВЕРНЫЙ



БУДЬ ВНИМАТЕЛЕН

ВЕРНИСЬ К  ЗАДАНИЮ И
ПОСТАРАЙСЯ ВЫПОЛНИТЬ ЕГО
ВЕРНО



Определите
закономерность в ряду
чисел: 4, 11, 32, 95, ...
Запишите следующее
число этого ряда.

1) 284

2) 286

3) 193



МОЛОДЕЦ



ТВОЙ ОТВЕТ ВЕРНЫЙ



БУДЬ ВНИМАТЕЛЕН

ВЕРНИСЬ К  ЗАДАНИЮ И
ПОСТАРАЙСЯ ВЫПОЛНИТЬ ЕГО
ВЕРНО



Определите
закономерность в ряду
чисел: 3, 10, 31, 94, ...
Запишите следующее
число этого ряда.

1) 192

1) 192

2) 283

1) 192

2)

283

3) 374



МОЛОДЕЦ



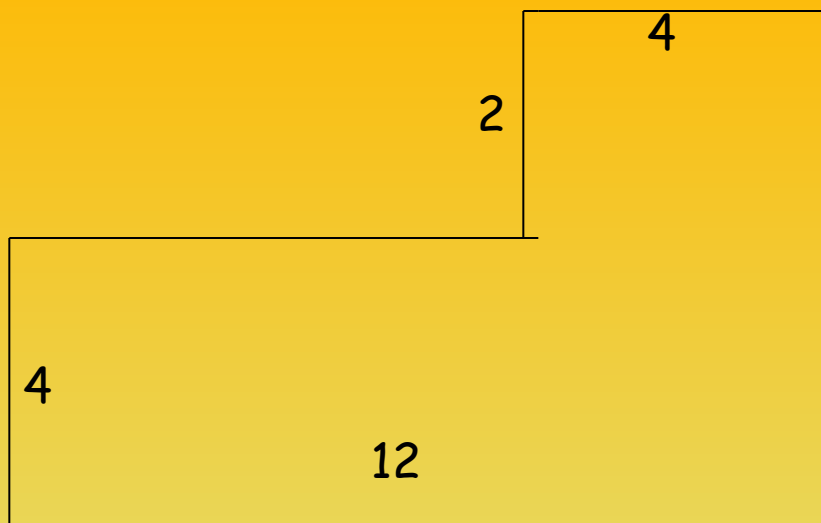
ТВОЙ ОТВЕТ ВЕРНЫЙ



БУДЬ ВНИМАТЕЛЕН

ВЕРНИСЬ К  ЗАДАНИЮ И
ПОСТАРАЙСЯ ВЫПОЛНИТЬ ЕГО
ВЕРНО





Найдите периметр участка,
составленного из
прямоугольников.



- | | | | | |
|----|--------------|-------|-------|--------------|
| | <u>1) 32</u> | 2) 34 | 1) 32 | 2) |
| 34 | <u>3) 1)</u> | 32 | 2) 34 | 3) <u>36</u> |
| 32 | 2) 34 | 3) 36 | | |



МОЛОДЕЦ



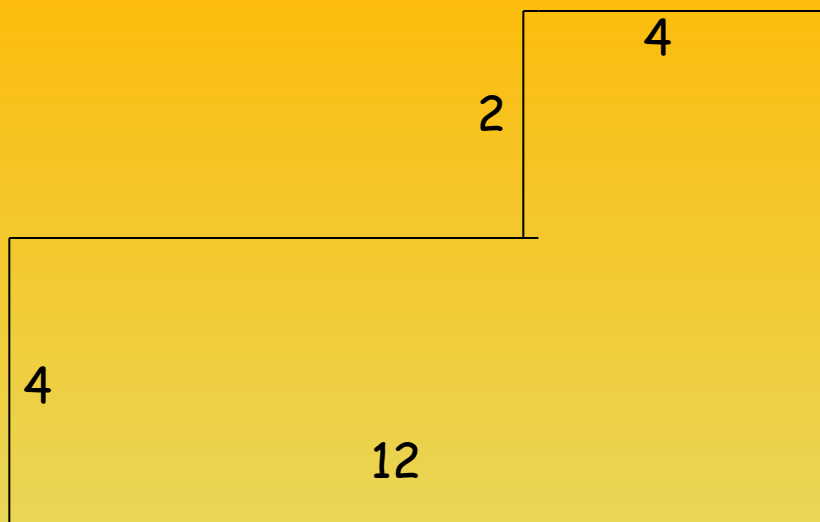
ТВОЙ ОТВЕТ ВЕРНЫЙ



БУДЬ ВНИМАТЕЛЕН

ВЕРНИСЬ К  ЗАДАНИЮ И
ПОСТАРАЙСЯ ВЫПОЛНИТЬ ЕГО
ВЕРНО





Найдите площадь участка,
составленного из
прямоугольников.

$$\begin{array}{l}
 1) \ 58 \quad \underline{1) \ 58} \quad \underline{2) \ 56} \\
 2) \ 56 \quad \underline{3) \ 54}
 \end{array}$$



МОЛОДЕЦ



ТВОЙ ОТВЕТ ВЕРНЫЙ



БУДЬ ВНИМАТЕЛЕН

ВЕРНИСЬ К  ЗАДАНИЮ И
ПОСТАРАЙСЯ ВЫПОЛНИТЬ ЕГО
ВЕРНО



Как выглядит выражение для определения цены мороженого в рублях, если стоимость коробки мороженого обозначается через c рублей, а количество порций мороженого - через k .

1) $k \cdot k \cdot k \cdot c$ 2) $c : k$ 3) $k :$
 c



МОЛОДЕЦ



ТВОЙ ОТВЕТ ВЕРНЫЙ



БУДЬ ВНИМАТЕЛЕН

ВЕРНИСЬ К  ЗАДАНИЮ И
ПОСТАРАЙСЯ ВЫПОЛНИТЬ ЕГО
ВЕРНО



РАБОТА ЗАВЕРШЕНА

СДЕЛАЙТЕ ВЫВОДЫ О СВОИХ
ЗНАНИЯХ ПО ПРЕДМЕТУ.

ПОДУМАЙТЕ НАД СЛОВАМИ М. В.

ЛОМОНОСОВА: «МАТЕМАТИКУ
УЖЕ ЗАТЕМ УЧИТЬ СЛЕДУЕТ, ЧТО
ОНА УМ В ПОРЯДОК ПРИВОДИТ».

