










Математически



лабиринт



Презентацию подготовила
учитель начальных классов
Говорухина Светлана Олеговна



КОМАНДЫ



«Эрудиты» «Знатоки»

1. СТАНЦИЯ «Сообрази- ка»

□ «Математическая
разминка»

□ «Разгадайте ребусы»



Математическая разминка

Расставь знаки действий и, если надо, скобки так, чтобы выражения были верны

1 команда

$$5 \ 5 \ 5 \ 5 = 2$$

$$3 \ 3 \ 3 \ 3$$

$$3 = 13$$

$$7 \ 7 \ 7 \ 7 = 9$$

2 команда

$$5 \ 5 \ 5 \ 5 = 9$$

$$5 \ 5 \ 5 \ 5 \ 5 = 31$$

$$7 \ 7 \ 7 \ 7 = 35$$

Математическая разминка

Расставь знаки действий и, если надо, скобки так, чтобы выражения были верны

1 команда

$$5 : 5 + 5 : 5 = 2$$

$$3 \times 3 + 3 + 3 : 3 = 13$$

$$(7 + 7) : 7 + 7 = 9$$

2 команда

$$5 + 5 - 5 : 5 = 9$$


$$5 \times 5 + 5 + 5 : 5 = 31$$

$$7 \times 7 - (7 + 7) = 35$$

Ребусы:

1 команда

2 команда



2. СТАНЦИЯ «Внимательная»

□ «Остров задач»

Пустыня Чисол



3. СТАНЦИЯ «Угадай-ка»

□ «Назови слова на букву...»

□ «Разгадай кроссворд»





Замени предложения одним словом, связанным с математикой

1 команда


Слова на букву

«К»

2 команда

Слова на букву


П



Разгадай Кроссворд

По
горизонтали:

1. Действие, обратное умножению.
2. Знак, показывающий отсутствие единиц какого-либо разряда.
3. Название знака действия.
4. Наименьшее однозначное число.



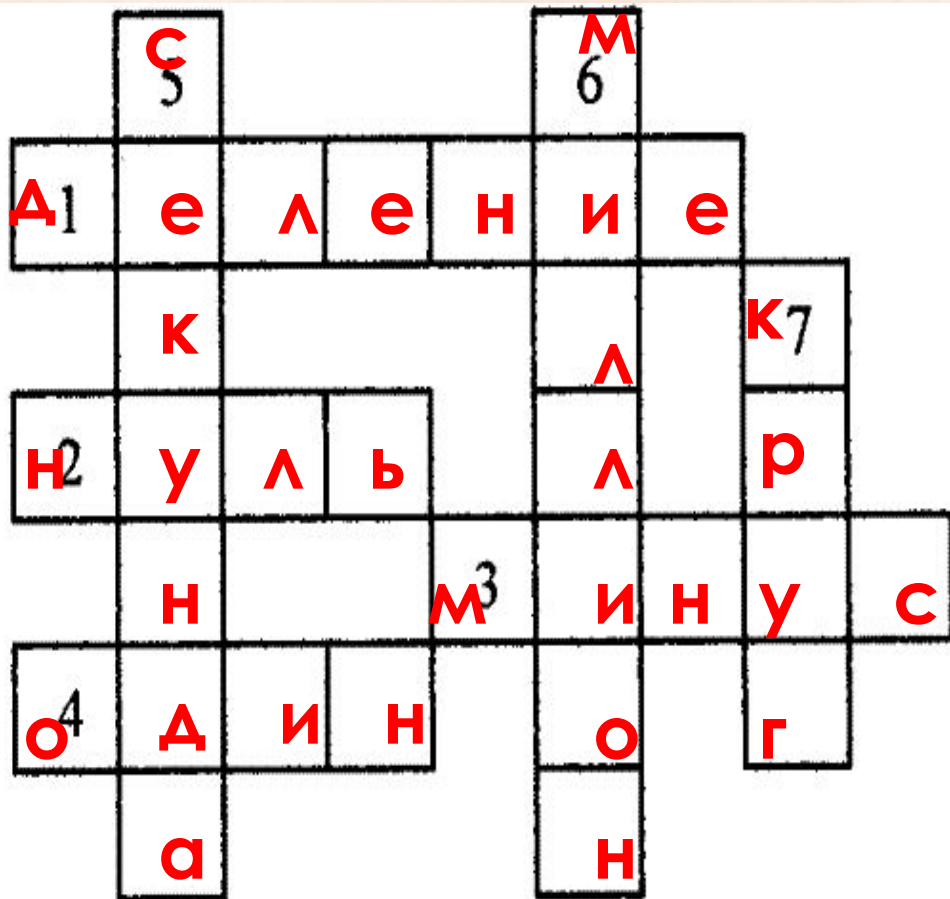
По
вертикали:

5. Наименьшая единица времени.
6. Число, выраженное единицей шестого разряда.
7. Фигура, ограниченная окружностью.

Разгадай Кроссворд

По
горизонтали:

1. Действие, обратное умножению.
2. Знак, показывающий отсутствие единиц какого-либо разряда.
3. Название знака действия.
4. Наименьшее однозначное число.



По
вертикали:

5. Наименьшая единица времени.
6. Число, выраженное единицей шестого разряда.
7. Фигура, ограниченная окружностью.

4 страница «Сказочная»

ПОВЕЩАНИЕ ЗЛЫХ ОШИБОК



5 станция «Игровая»



«Найди цифру»

«Гонка за лидером»


«Конкурс капитанов»



Конкурс капитано

Угадай число от 1 до 28, если в его
написание не входят цифры 1, 5 и
7.

Кроме того, оно нечётное и не
делится на 3.




Конкурс капитано

Угадай число от 1 до 28, если в его написание не входят цифры 1, 5 и 7.

Кроме того, оно нечётное и не делится на 3.

~~1~~ 2 3 ~~4~~ ~~5~~ 6 ~~7~~ 8 ~~9~~ ~~10~~ ~~11~~ ~~12~~ ~~13~~ ~~14~~ ~~15~~ ~~16~~ ~~17~~
~~18~~ ~~19~~ 20 ~~21~~ 22 **23** 24 ~~25~~ 26 ~~27~~ 28



МОЛОДЦЫ!

