

# Математический самодиктант

Аникеева Л.Г.  
Учитель начальных  
классов







**13 увеличь на**

**5**

**13 + 5 = 18**

*SkyClipArt.ru*




A decorative scroll with a floral border and various cartoon animals. The scroll is unrolled, showing a large blank space in the center. The border is decorated with blue and white flowers, green leaves, and several cartoon animals: a red ladybug, a green caterpillar, a blue dragonfly, a blue butterfly, a brown owl, a blue book character, a red character, a blue pencil character, and a yellow pencil character. The background is a light blue sky with a green field at the bottom.

**18 уменьшить на 6**

$$18 - 6 = 12$$

*SkyClipArt.ru*

An illustration of a brown owl with large eyes, sitting on a stack of three books (purple, blue, and green).

**Какое число надо  
увеличить на 9,  
чтобы получилось 16**

$$7 + 9 = 16$$





Найдите сумму чисел 9 и  
7

$$9 + 7 = 16$$








**Найдите разность чисел 19  
и 7**

$$19 - 7 = 12$$



**Запишите число,  
которое меньше 15 на 7**

$$15 - 7 = 8$$

**От какого числа надо  
отнять 5,  
Чтобы получилось 14**

$$19 - 5 = 14$$





**Петя решил 17 примеров, а Ваня на 5  
меньше.**

**Сколько примеров решил Ваня?**

$$17 - 5 = 12$$






**Напишите самое  
маленькое  
однозначное число.**

**1**





**В одном отрезке 6 м. ткани, а в другом отрезке на 3м. больше. Сколько всего метров ткани в двух отрезках ?**



**$6 + 3 = 9$  м (во 2 отрезке)**

**$6 + 9 = 15$  м (всего)**