



# Математический турнир

2 класс

# Разминка







# Найди лишнее число



**21, 24, 30, 16, 18, 9**

**Какая фигура лишняя?**



# Отгадай ребусы

100 ЛИЦА

100 ЛБ

ПО 2 Л


40 А

7 Я


# Будь внимательным



Сколько на чертеже  
различных треугольников?



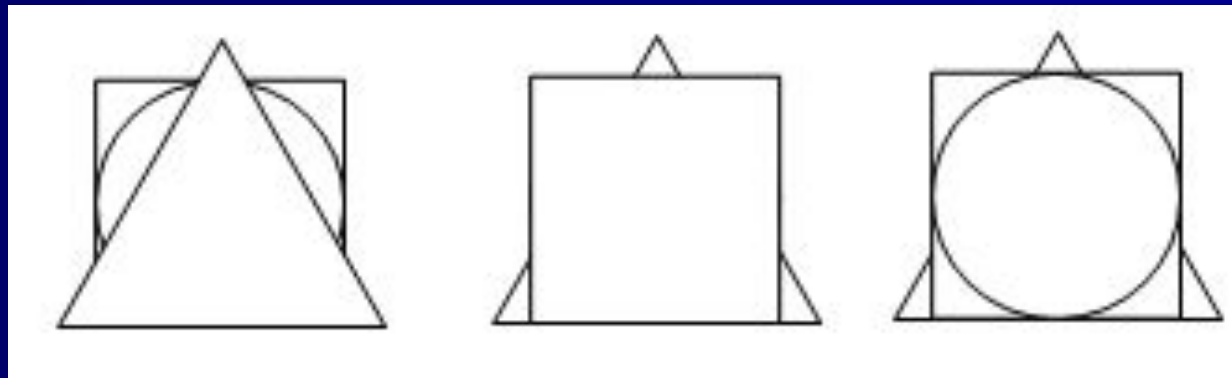
Проверь: 7 



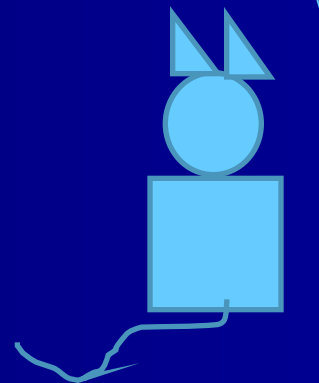

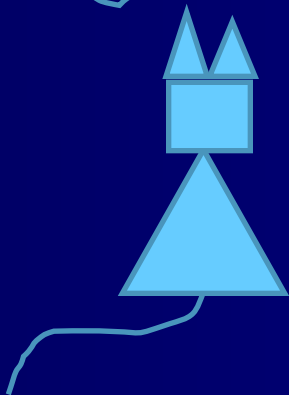

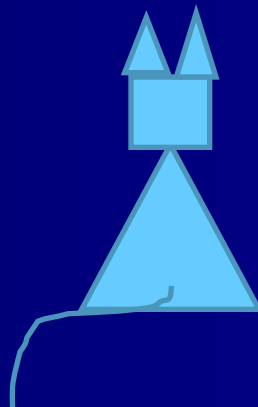

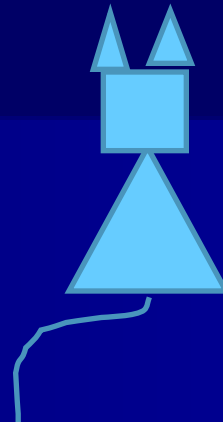




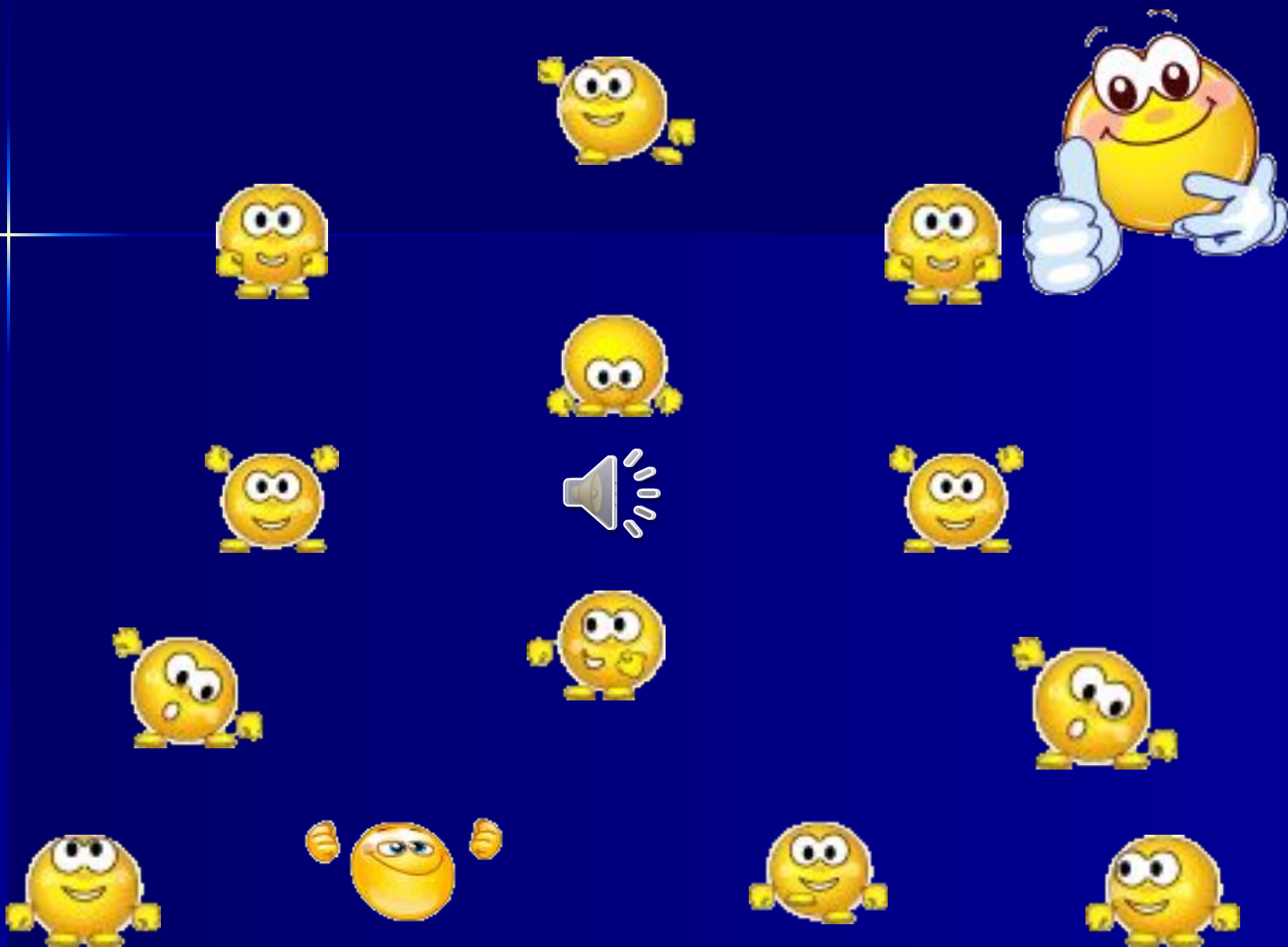
У Винни-Пуха, Пятачка и Кролика есть три одинаковых квадрата, три одинаковых треугольника и три одинаковых круга. Винни-Пух положил на пол треугольник, на него – квадрат, а сверху – круг. Пятачок положил сначала квадрат, на него положил круг, сверху – треугольник. Кролик положил треугольник, на него круг, а сверху квадрат.

**У кого что получилось?**



# Нарисуй недостающего котёнка






# Олимпиадные задачки



Глеб, Сергей и Андрей везут подарки. Глеб везёт сразу 2 корзинки. Сергей и Андрей везут по 1 корзинке. Корзинку с яблоками везёт Сергей. Кто везёт груши? Апельсины? Черешню? Подпиши имена мальчиков.



Андрей

Сергей

Глеб



Лена



Даша



Таня

Жили-были три девочки: Таня, Лена и Даша.  
Таня выше Лены, Лена выше Даши.  
Кого из них как зовут?

Посадил дед вдоль одной тропинки три берёзы.  
Бабка между каждыми соседними берёзами  
посадила липы. А внучка между каждыми  
соседними деревьями посадила по кусту роз.  
Сколько кустиков роз посадила внучка?



# Рефлексия



Мне было интересно на занятии,  
у меня все получилось.



Мне было интересно на занятии,  
хотя я затруднялся.



Мне было не интересно на занятии,  
я не справился с заданиями



**До новых встреч!**

