

***Математическое  
путешествие  
по Санкт-Петербургу.***






An aerial photograph of a large, multi-story red brick building complex, likely a university or government institution. The building is surrounded by green lawns and trees. A river flows through the foreground, with a bridge visible in the distance. The sky is clear and blue.

**Друзья,  
путешествие  
начинается!**


- Реши математическую цепочку:

1730

5	8	6	3
6	1	9	8
7	5	4	2
2	4	0	9



170  
3





На судах – по 30  
камней

На лодках – по 10  
камней

На возах – по 3 камня

Штраф – 1 гривна

Наш город располагался на 101  
острове. Сейчас 42 острова. Сколько  
островов исчезло?





*Длина реки Невы – 75 км.  
Длина реки Карповки – 5 км.*





Домик Петра I простоял с 1703  
года 131 год. До какого года?





<http://veta.spbland.ru/>



Какому писателю поставлен  
памятник в Летнем саду? Он был  
открыт в 1855 году. Сколько лет  
памятнику?



# Задача.

В Зимнем дворце насчитывается 1086 дверей, это на 36 больше, чем комнат. Почему?

Сколько комнат в Зимнем дворце?

1050

Окон во дворце на 859 больше, чем дверей. Почему?

Сколько окон?

1945

С

Н  
П  
(  
(  
И



бурге  
листа  
ание  
иалы  
) КОМ

# ● До новых встреч!

