

Математик сабантуй

Эстафета



140:28

33x37

77x18

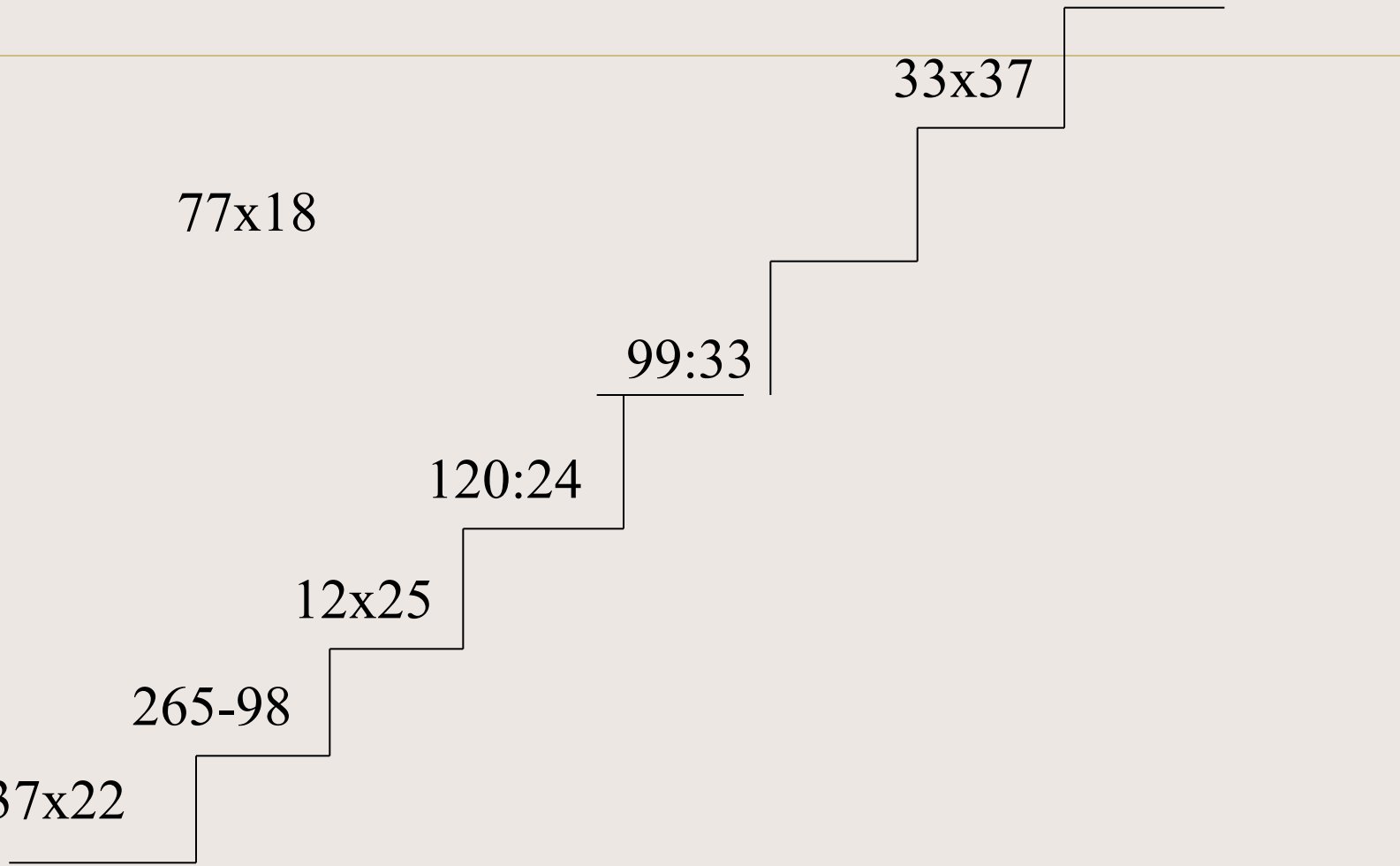
99:33

120:24

12x25

265-98

37x22



Жаваплар

814

167

300

5

3

1386

1221

5

2. Түбэндәге саннарны разряд кушылучылары суммасы

рәвешендә язарга



$$216 =$$

$$360 =$$

$$608 =$$



$$948 =$$

$$260 =$$

$$705 =$$

Жаваплар



$$216=200+10+6$$

$$360=300+60$$

$$608=600+8$$



$$948=900+40+8$$

$$260=200+60$$

$$705=700+5$$

3.Кем тизрәк?



Ә $66:11+24$

Ә $25 \times 3 + 15$

С $56:4-8$

Й $28 \times 3 - 44$

Д $32 \times 3 - 40$

Ш 50×18



Т $90:2-7$

А $24 \times 3 + 11$

Й 16×50

Г $23 \times 4 - 80$

К $55:11 + 65$

У $26 \times 3 - 14$

Жаваплар



Сәйдәш



Г.Тукай

4. Тигезлэмэлэр чишү



$$7x_A = 140 : 2$$

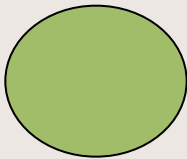
$$A x 4 = 84 + 16$$



$$X : 10 = 600 + 60$$

$$48 : X = 92 : 46$$

Жаваплар



$$A=10$$

$$A=25$$



$$X=6600$$

$$X=24$$

5. Арифметик диктант

1 кг да ничэ грамм?

1 тоннада ничэ ц?

1 дм да ничэ см?

1 км да ничэ метр?

1 сэгатытэ ничэ минут?

1 минутта ничэ секунд?

1 тэүлектэ ничэ сэгать?

1 гасырда ничэ ел?

Жаваплар

1000 г

10 ц

10 см

1000 м

60 мин

60 с

24 сәг

100 ел

6. Үлчэү берэмлеклэрен эрелэ, вакла.



$$2000\text{см}=\dots\text{м}$$

$$23\text{км}=\dots\text{м}$$

$$45\text{ц}=\dots\text{кг}$$

$$23\text{т}=\dots\text{кг}$$

$$3\text{сәг } 10\text{мин}=\dots\text{мин}$$

$$600\text{с}=\dots\text{мин}$$

$$286\text{см}=\dots\text{м}\dots\text{см}$$

$$9\text{см}=\dots\text{мм}$$



$$3000\text{см}=\dots\text{м}$$

$$14\text{км}=\dots\text{м}$$

$$75\text{ц}=\dots\text{кг}$$

$$14\text{т}=\dots\text{кг}$$

$$4\text{сәг } 5\text{мин}=\dots\text{мин}$$

$$300\text{с}=\dots\text{мин}$$

$$278\text{см}=\dots\text{м}\dots\text{см}$$

$$50\text{см}=\dots\text{дм}$$

Жаваплар



$$2000\text{см}=20\text{м}$$

$$23\text{км}=23000\text{м}$$

$$45\text{ц}=4500\text{кг}$$

$$23\text{т}=23000\text{кг}$$

$$3\text{сәг } 10\text{мин}=190\text{ мин}$$

$$600\text{с}=10\text{ мин}$$

$$286\text{см}=2\text{м } 86\text{ см}$$

$$9\text{см}=90\text{ мм}$$



$$3000\text{см}=30\text{м}$$

$$14\text{км}=14000\text{м}$$

$$75\text{ц}=7500\text{кг}$$

$$14\text{т}=14000\text{кг}$$

$$4\text{сәг } 5\text{мин}=245\text{ мин}$$

$$300\text{ с}=5\text{мин}$$

$$278\text{см}=2\text{м } 78\text{см}$$

$$50\text{см}=5\text{дм}$$

7. Мэсьэлэлэр

Поезд 3 сэгатытэ 180 км юл үтэ.
Шундый ук тизлек белэн барса, ул 5
сэгатытэ ничэ км юл үтэр?

Жаваплар

Чишү:

1) $180:3=60$ (км/сәг)-поезднын тизлеге

2) $60 \times 5=300$ (км)-5 сәгатытә үтелгән юл.

Жавап: 5 сәгатытә 300км юл үткән.

8. Исәпләргә

Яклары 5 см һәм 7 см булган
турыпочмаклыкның мәйданын һәм
периметрын табарга.

Жавап

$$P=(a+b) \times 2$$

$$P=(5+7) \times 2=24(\text{см})$$

$$S=a \times b$$

$$S=5 \times 7=35(\text{кв.см})$$

$$\text{Жавап: } P=24\text{см}; S=35 \text{ кв.см}$$

9.Гамэл тэртибен билгелэл исэплэ



$$50\ 786 + (8091 \times 3 : 9 - 97)$$



$$400\ 800 - (3980 \times 7 - 580)$$

Жавап

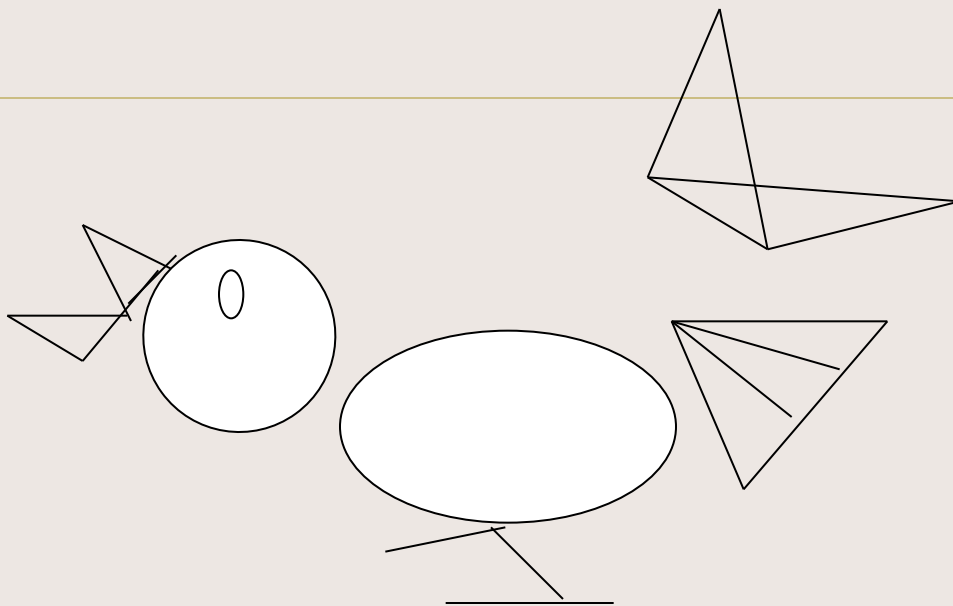


53386



373520

10. Ничэ өчпочмак бар?



Жавап

13

Булдырдыңыз!

Котлым!