


Математика – это сила!



ОЛИМП



svali.ru
туристический портал





Соболевская школа





Игра «Весёлая математика»

СКОЛЬКО ДЮЖИН В СУТКАХ?

ОТВЕТ: 2





СКОЛЬКО ПОДВИГОВ
СОВЕРШИЛ ГЕРАКЛ?



ОТВЕТ: 12



У кого больше ног
у пяти осьминогов или
у четырех кальмаров?

одинаково: $5 \times 8 = 4 \times 10 = 40$





Отгадайте, что за цифра?

1. Маленькая, хвостатенькая, не лает, не кусает,
а из класса в класс не пускает?

(2)

2. Что за цифра акробат?

Если на голову встанет, ровно на 3 меньше станет?

(9)

3. Два кольца, но без конца, если я повернусь, то
совсем не изменюсь.

(8)




1	12	20	16	8
11	17	6	7	5
9	19	2	14	10
3	13	15	18	4

10	17	3	8	15
16	14	18	11	6
5	19	4	20	12
7	13	2	9	1


10	14	18	8	1
5	12	3	19	11
16	7	17	20	6
2	9	15	4	13

Отрезок, соединяющий точку
окружности с ее центром.

РАДИУС



Сумма длин
всех сторон многоугольника.



ПЕРИМЕТР



СКОЛЬКО ПОЛНЫХ НЕДЕЛЬ В ГОДУ?

Ответ: 52





СКОЛЬКО НАСЧИТЫВАЕТСЯ
ЧУДЕС СВЕТА?



ОТВЕТ: 7



Сколько лет спала
Спящая Красавица
из сказки Шарля Перро?

Ответ: 100





На сколько градусов
могут поворачивать
голову совы?

Ответ: 270



Сколько пар ног
у насекомых?

Ответ: 3





Игра «Перевортыши»

- Сколько это млекопитающее не снабжай питательными веществами, оно постоянно смотрит в растительное сообщество.
- Кровососущее насекомое не может сделать более острым ротовой аппарат.
- При желании продолжения жить необходимо иметь навыки движения вокруг своей оси.



Проверка



- Сколько волка не корми, он все в лес смотрит
- Комар носу не подточит
- Хочешь жить - умей вертеться



Блиц – вопросы:

Сколько хвостов у 8 коров?

(8)

Сколько рогов у 4 коров?

(8)

Сколько ушей у 5 мышей?

(10)

Сколько ног у пяти коров?

(20)





Сколько хвостов у 40 ослов?

- (40)
- Сколько шин у 15 машин?
(запасную не считать)
- (60)
- Во дворе были куры и овцы. У них 3 головы и 8 ног. Сколько было кур и сколько овец?
- (1 овца, 2 курицы).



