

Математика



Считайте, ребята, точнее
считайте!

1 КЛАСС

Хорошее дело смелей
прибавляйте!

Плохие дела поскорей
вычитайте!

Учебник научит вас точному
счёту,

Скорей за работу, скорей за


КТО Я?



Круглый, румяный. В печке печен. На окошке стужен.


Колобок

Проверка



5, 8, 4, 6, 7, 0, 1, 2

Молодцы!





Задача



Семь снегирей на ветке сидели.

Три снегиря ещё прилетели.




Дед Мороз сосчитал снегирей.



Сколько всех птичек? Ответь

поскочи!





$$7 + 3 = 10 \text{ (c.)}$$



Задача



Семь снегирей на ветке сидели.

Три снегиря от них улетели.

- Сколько ж осталось? - подумал
Мороз.

А ты сосчитаешь? Отвечай
поскорей!





$$7 - 3 = 4 \text{ (c.)}$$

$$\begin{array}{rcl} 6 - 0 = & 6 & 9 - 0 = & 9 \\ 6 + 0 = & 6 & 18 + 0 = & 18 \\ 14 - 1 = & 13 & 8 - 3 = & 5 \\ 14 + 1 = & 15 & 4 + 5 = & 9 \end{array}$$





Сколько крыльев у трёх
попугаев
и двух петухов?



10



Сколько лапок у четырёх
щенят и двух цыплят?



20

Физкультминутка



Из каких частей состоит задача?



По тропинке шагают 5 муравьёв и 3 божьих коровки.

8 насекомых

Сколько муравьёв и божьих коровок?


$5+3=8(n)$.

ВОПРОС


УСЛОВИЕ

РЕШЕНИЕ

ОТВЕТ



Сколько? Как сосчитать?



По снежинок раза – это

$$\boxed{5} \cdot \boxed{2} = \boxed{10}$$

Сколько всего утят?



По

2

утёнка

3

раз – это

6

утят


$$1 \text{ дм} = 10 \text{ см}$$

$$20 \text{ см} = 2 \text{ дм}$$

$$3 \text{ дм } 5 \text{ см} = 35 \text{ см}$$



$$6 \text{ дм } 5 \text{ см} = 65 \text{ см}$$



Аня



Ира



Дима



Петя

СПАСИБО! Молодцы!!!

