


Математика 1 класс

Тема урока:

**«Вычитание
числа 4.»**



**17 декабря.
Классная работа.**



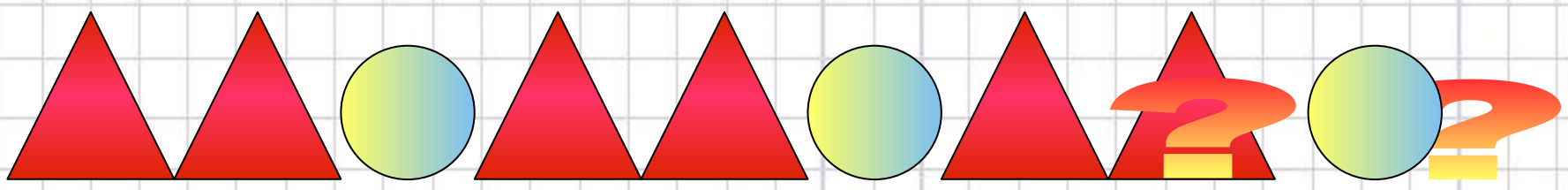




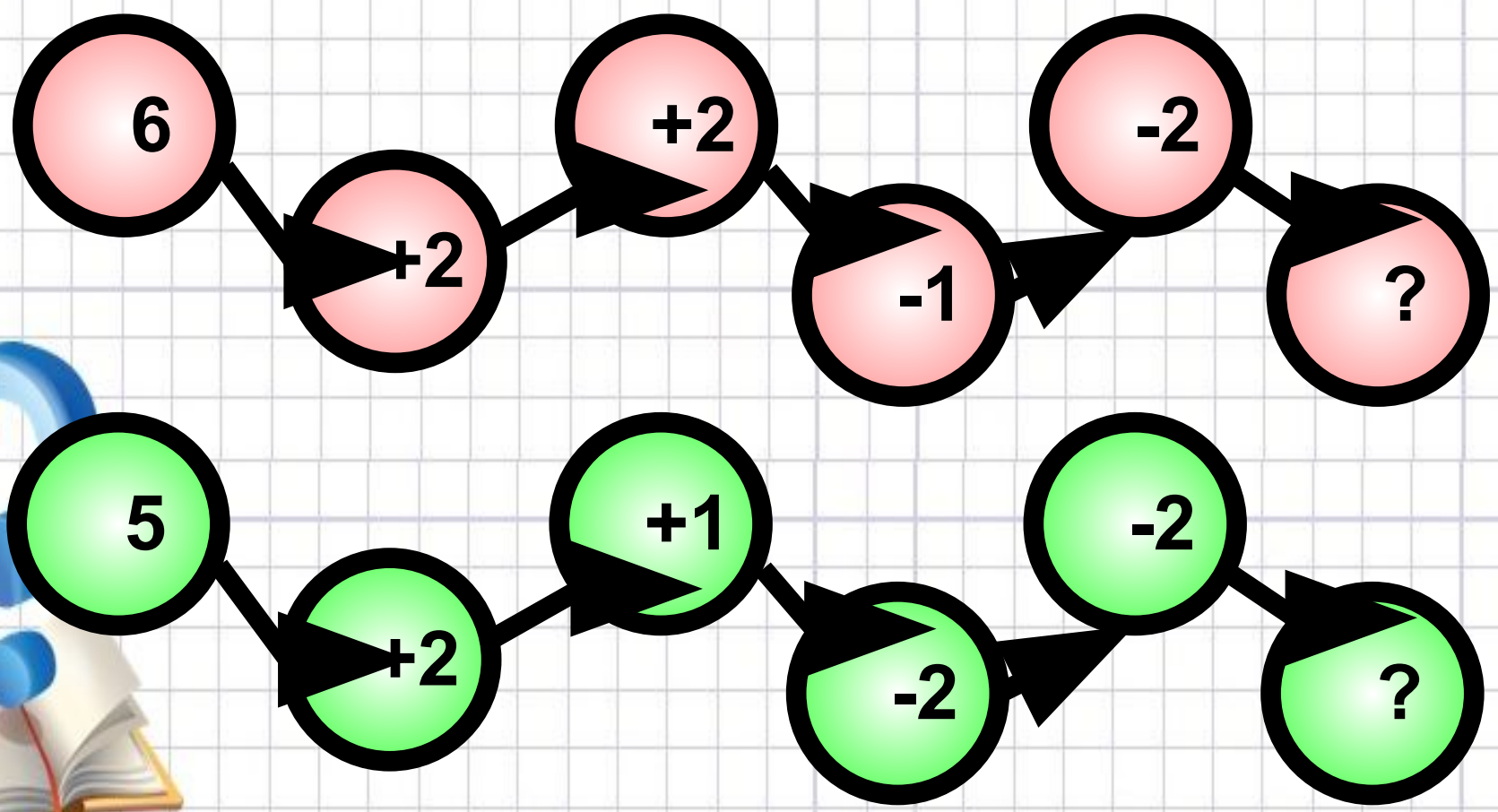
BUGAGA.RU



Какие фигуры пропущены?



Найди ответ в конце цепочки

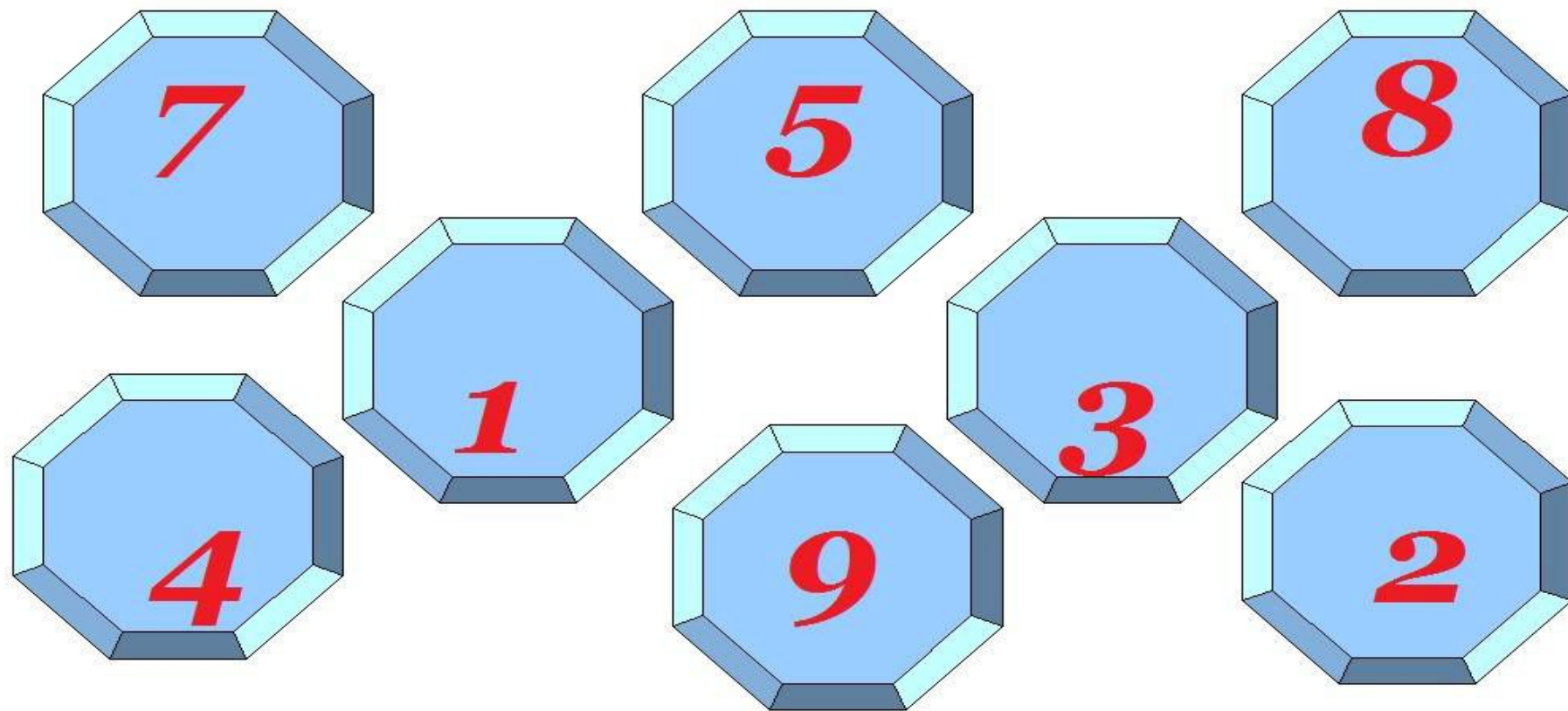


1. **Сколько хвостиков у 9 осликов?**

2. **Сколько лапок у двух медвежат?**

3. **Сколько ушек у пяти хрюшек?**





***Назови эти числа по порядку,
начиная с самого маленького.***



Вот **четверки** - силачи поднимают кирпичи, выжимают гири, пуда на **четыре**!



Цифра сильная
Четыре,
выжимать умеет
Гири!



Работа в тетрадях.

Выписать только те примеры, в записи которых есть число 4.

$6+4=$

$5-2=$

$10-4=$

$3+3=$

$6-4=$

$4+4=$

$9-4=$

$4-4=$

$2+6=$

$5-4=$

$10-2=$

$3-0=$



ПРОВЕРИМ!

$$6+4=10$$

$$10-4=6$$

$$5-4=1$$

$$6-4=2$$

$$4+4=8$$

$$9-4=5$$

$$4-4=0$$



Сделаем зарядку.

Будьте здоровы!



Решаем задачи



Задача.

- *условие*
- *вопрос*
- *рассуждение*
- *решение*
- *ответ*





$10+3 = 13$ (ц.)

Ответ : 13 цветов





disney.co.jp
©Disney Based on the Winnie the Pooh works, by A.A.Milne and E.H. Shepard

$$5 - 1 = 4 \text{ (б.)}$$

Ответ: 4 банки





$$\square + \square = \square(\dots)$$

Ответ : ...







Ксю-ша

Елена

У Зимы не счесть забот.
Скоро праздник – Новый год.



DS

*Спасибо
за работу
на уроке!*

