

**22 октября,**

**2014 год,**

**среда.**

1 2 3 4 5 6 7 8 9 10

1. Запиши число, которое при счете следует за числом 7.


2. Нарисуй столько квадратов, сколько указывает цифра 6.

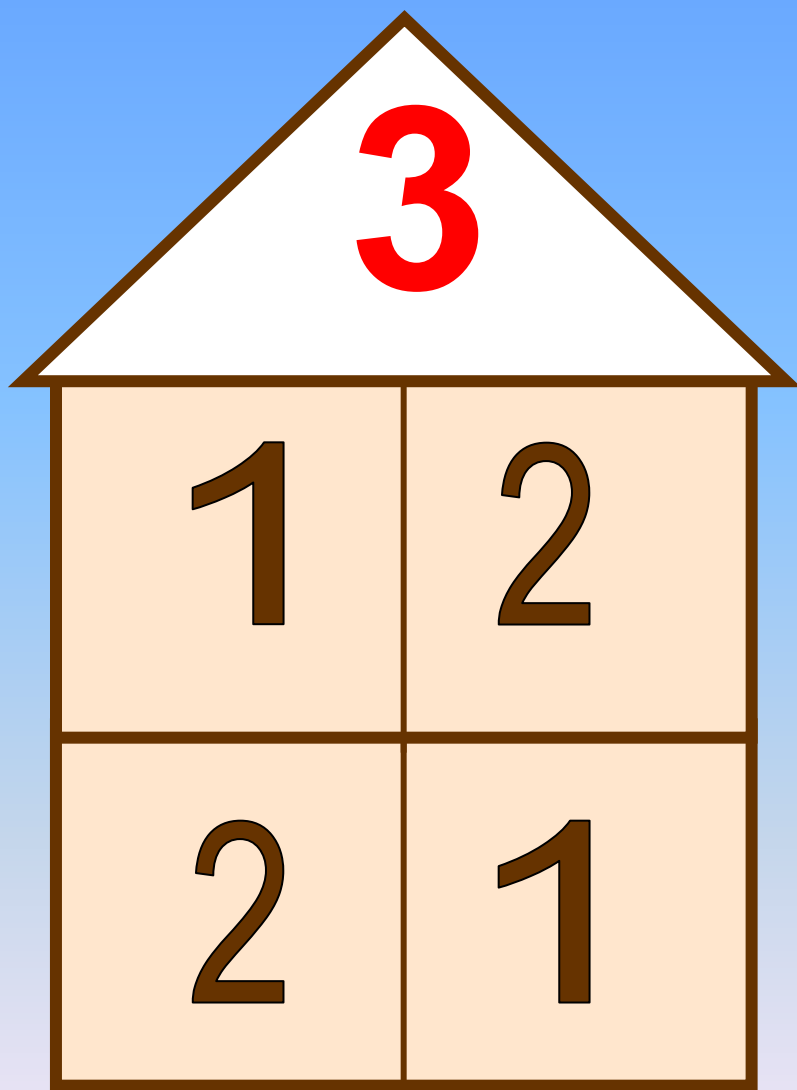
3. Выбери верное равенство и запиши только его:

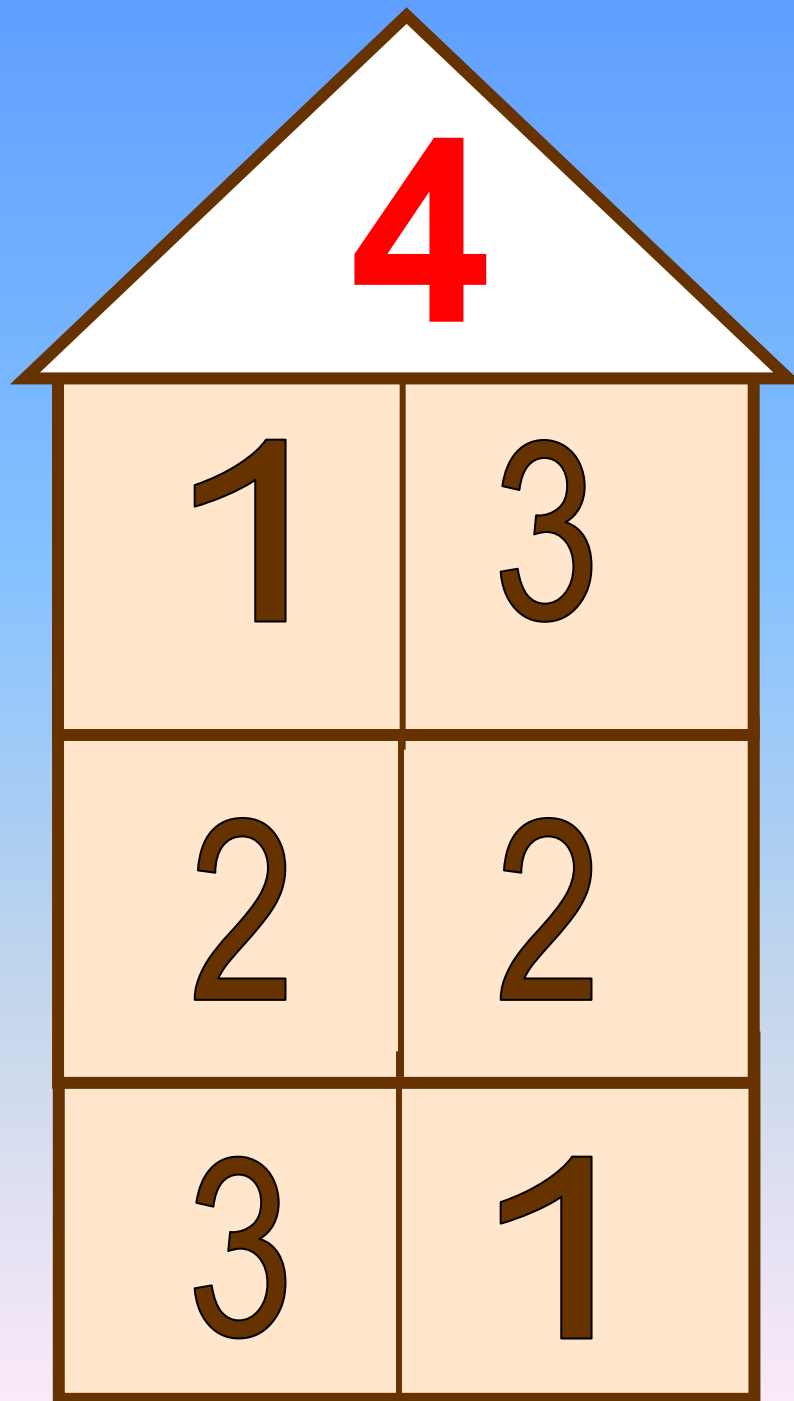
$$5 + 1 = 4 \quad 4 - 1 = 3$$

4. Выбери и запиши только те числа, которые меньше, чем число 4:

3 4 6 5 2







5

1

4

2

3

3

2

**6**

$1+5=6$   
 $5+1=6$

**1**

**5**

$6-1=5$   
 $6-5=1$

$2+4=6$   
 $4+2=6$

**2**

**4**

$6-2=4$   
 $6-4=2$

$3+3=6$

**3**

**3**

$6-3=3$



$$4 - 1 = 3$$

$$3 + 3 = 6$$

$$2 + 1 = 3$$

$$6 - 4 = 2$$

$$4 - 3 = 1$$

$$3 + 2 = 5$$

$$2 + 2 = 4$$

$$6 - 3 = 3$$

**1 2 3 4 5 7 8**

**6**

**9**

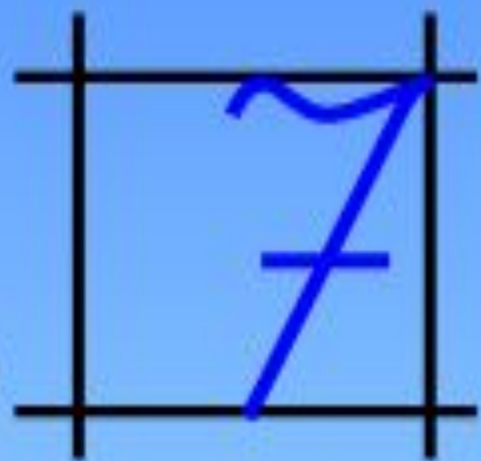
Число семь.

Цифра 7.



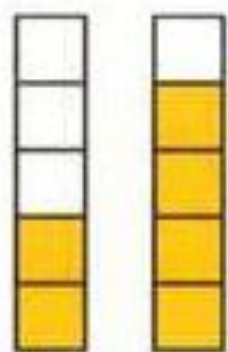
**Вот семёрка – кочерга.  
У неё одна нога.**

**Семь – точно острая коса.  
Коси, коса, пока остра.**





Раскрась рисунок так, чтобы он подходил к записи.




$2 < 4$



$4 > 3$



$3 < 5$



$4 = 4$

|     |     |  |  |         |  |  |         |  |  |
|-----|-----|--|--|---------|--|--|---------|--|--|
| 5 - | = 4 |  |  | - 1 = 2 |  |  | 2 + 3 = |  |  |
| 4 - | = 3 |  |  | - 1 = 1 |  |  | 5 + 2 = |  |  |



7 7 7    7 7 7    7 7 7

1, 2, , 4, 5, 6, 7.    7, 6, 5, , 3, 2, .

● Выбери для каждого рисунка свою запись.



5



$6 - 1 = \square$

$7 - 1 = \square$

$5 + 1 = \square$

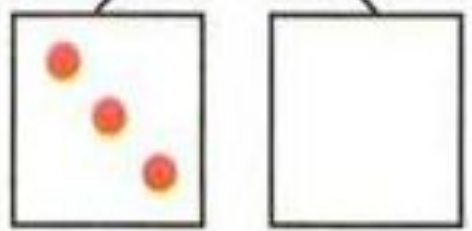
$6 + 1 = \square$



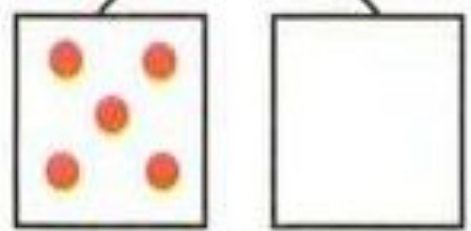
● Дорисуй кружки.



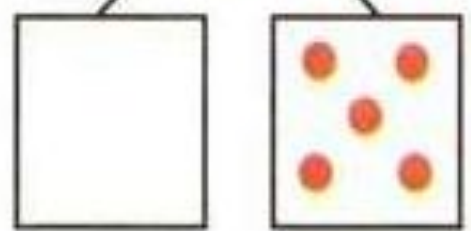
5




6




7





$$6 + 1 = 7$$







$$1 + 6 = 7$$



$$2 + 5 = 7$$



$$5 + 2 = 7$$



$$3 + 4 = 7$$



$$4 + 3 = 7$$

7

$$1+6=7$$
$$6+1=7$$

1

6

$$7-1=6$$
$$7-6=1$$

$$2+5=7$$
$$5+2=7$$

2

5

$$7-2=5$$
$$7-5=2$$

$$3+4=7$$
$$4+3=7$$

3

4

$$7-3=4$$
$$7-4=3$$

# Отдыхай-ка



Сравни числа. Поставь  
правильно знак

**5+1**

**7**

**<**

**>**

Нажми на знак



Сравни числа. Поставь  
правильно знак

$$6 \quad 3+4$$

<

>

Нажми на знак

Сравни числа. Поставь правильно знак

$$7-1 \quad 4+2$$

>

=

<

Нажми на знак

Сравни числа. Поставь правильно знак

7-2

5

=

<

>

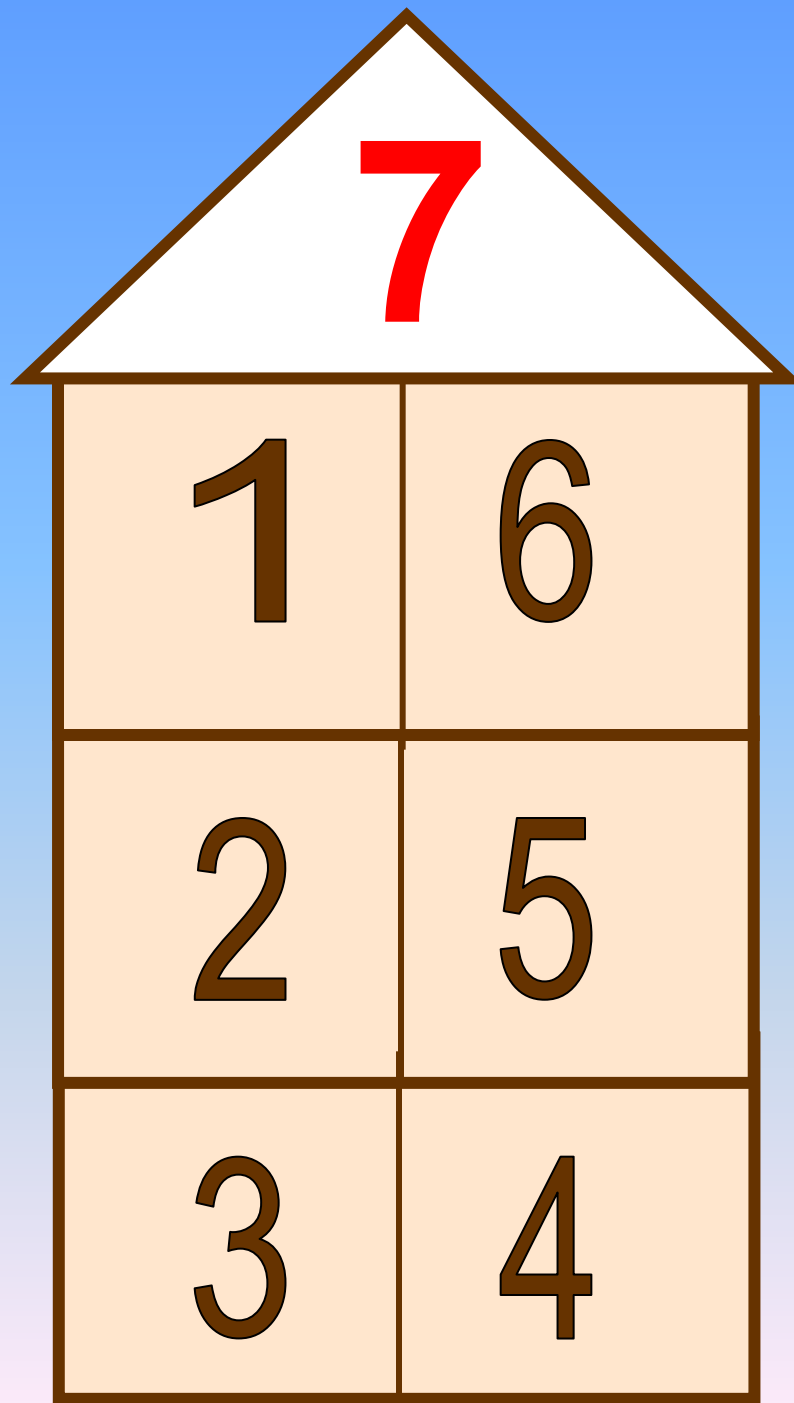
Нажми на знак


Сравни числа. Поставь правильно знак

$$2+3 \quad 4$$




Нажми на знак







1 — фиолетовый; 2 — голубой; 3 — жёлтый;  
4 — салатный; 5 — розовый; 6 — красный

Что мы узнали?  
Что повторили?



**Оцени свою работу на уроке.**





# Наше настроение

