

**3 февраля,  
2015 год,  
вторник.**

0 1 2 3 4 5 6 7 8 9 10

9

1

8

2

7

3

6

4

5

10

1

9

2

8

3

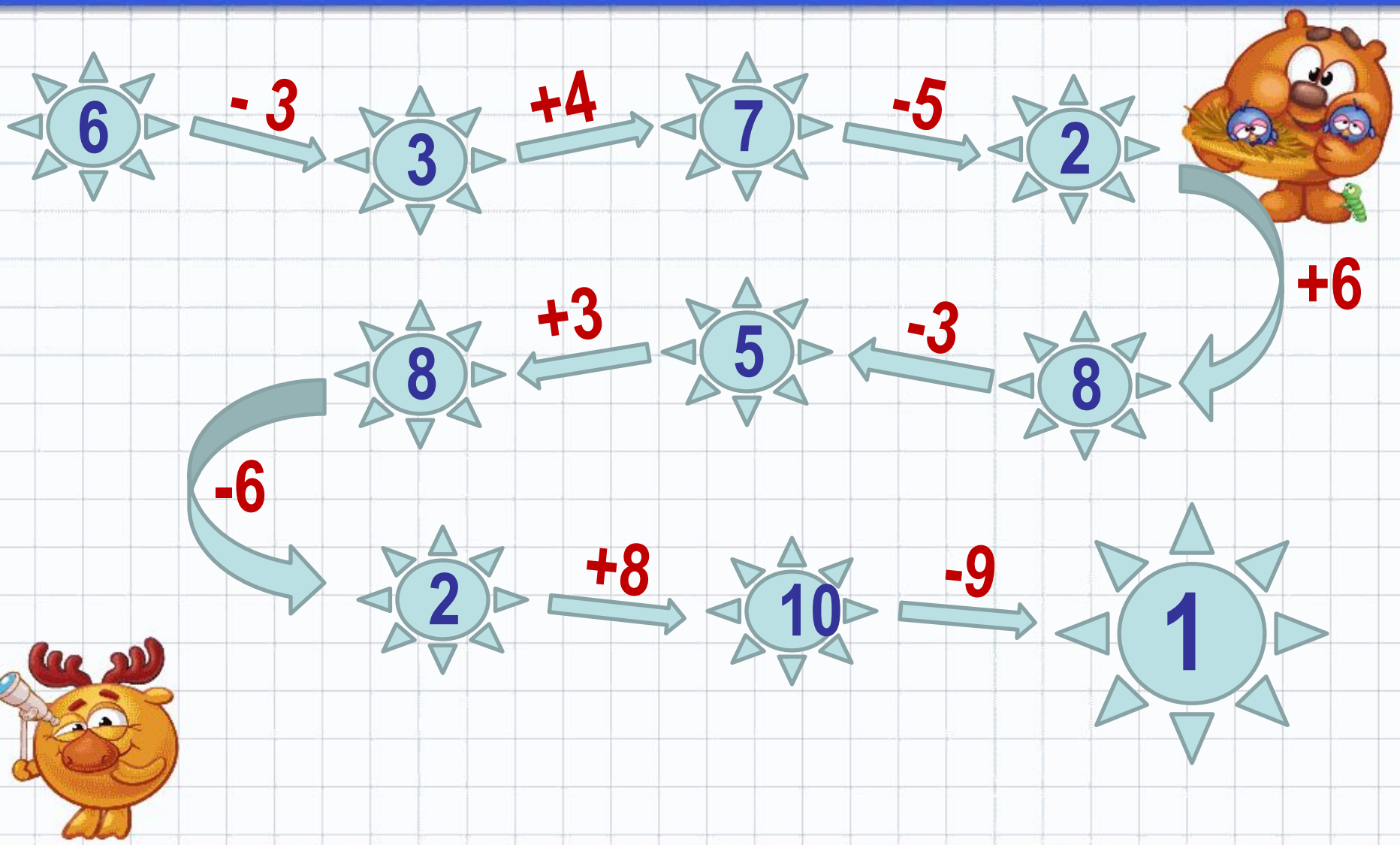
7

4

6

5

5



$$3+2=5$$

**3 - слагаемое**

**2 - слагаемое**

**5 - значение суммы**

Слагаемое	3	6	3	2	4	5	2
Слагаемое	7	3	5	5	3	4	8
Значение Суммы	10	9	8	7	7	9	10

$$5-2=3$$

**5** - уменьшаемое

**2** - вычитаемое

**3** - значение разности

**5-2** - разность чисел



Уменьшаемое	10	6	8	7	9	10	9
Вычитаемое	7	3	5	5	3	4	8
Значение Разности	3	3	3	2	6	6	1

$$3 + 5 = 8$$

$$9 - 5 = 4$$

$$6 + 3 = 9$$

$$2 + 5 = 7$$

$$10 - 4 = 6$$

$$9 - 2 = 7$$

$$4 + 3 = 7$$

$$8 - 2 = 6$$

$$2 + 8 = 10$$

$$9 - 3 = 6$$

$$3 + 7 = 10$$

$$9 - 2 = 7$$

$$\mathbf{a + B = B + a}$$

$$\mathbf{3 + 5 = 5 + 3}$$

$$\mathbf{2 + 7 = 7 + 2}$$

$$\mathbf{3 + 7 = 7 + 3}$$

$$\mathbf{2 + 8 = 8 + 2}$$

$$\mathbf{4 + 6 = 6 + 4}$$

$$\mathbf{4 + 5 = 5 + 4}$$

## Уменьшаемое. Вычитаемое. Разность

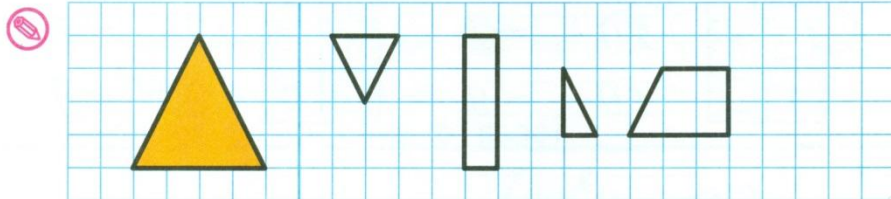
- 1 Равенства, в которых пропущены уменьшаемые, подчеркни красным цветом, а равенства, в которых пропущены вычитаемые, — синим. Запиши пропущенные числа.

9 - = 6	- 5 = 3	7 - = 4
- 3 = 7	6 - = 2	- 7 = 2

- 2 Ёжик собрал 6 грибов, а белочка — на 2 гриба меньше. Сколько грибов собрала белочка?

Ответ:

- 3 Раскрась 3 фигуры, из которых можно составить треугольник, который начерчен слева.



4

1

2

3

4

## ТЕСТ 7

### Вариант 1

**A1.** Укажи, в каком примере ответом будет самое большое число.

1)  $9 - 4$

3)  $2 - 1$

2)  $6 + 4$

4)  $4 + 5$

**A2.** Отметь ответ.

Уменьшаемое 7, вычитаемое 4. Чему равна разность?

1) 3

3) 4

2) 2

4) 6

**A3.** Выбери пример, в котором ошибка.

1)  $6 + 4 = 10$

3)  $9 - 4 = 5$

2)  $8 - 3 = 5$

4)  $2 + 4 = 7$

**B1.** Отметь ответ.

В комнате 8 стульев. Когда детей рассадили на стульях по одному, то 2 стула оказались свободными. Сколько было детей?

1) 6

3) 10

2) 5

4) 9

**B2.** Укажи, может ли сумма двух чисел быть равной первому слагаемому.

1) не может

2) может

**C1.** Отметь ответ.

На сосне сидят 5 ворон и на берёзе столько же. С сосны на берёзу перелетели 2 вороны. На сколько ворон больше стало на берёзе, чем осталось на сосне?

1) на 7

3) на 8

2) на 2

4) на 4

**A1.** Укажи, в каком примере ответом является самое маленькое число.

1)  $7 - 0$

3)  $8 - 3$

2)  $6 - 4$

4)  $2 + 4$

**A2.** Отметь ответ.

Уменьшаемое 10, вычитаемое 4. Чему равна разность.

1) 5

3) 6

2) 7

4) 3

**A3.** Отметь пример, в котором ошибка.

1)  $4 + 5 = 9$

3)  $6 + 4 = 10$

2)  $9 - 3 = 7$

4)  $8 - 4 = 4$

**B1.** Отметь ответ.

В клетке 6 кроликов. Когда Маша раздала кроликам по 1 морковке, то у неё осталось 4 морковки. Сколько морковок было у Маши?

1) 2

3) 8

2) 9

4) 10

**B2.** Укажи, может ли сумма двух чисел быть равной 0.

1) не может

2) может

**C1.** Отметь ответ.

У Наташи и Маши по 7 открыток. Маши подарила Наташе 3 своих открытки. На сколько больше открыток стало у Наташи, чем осталось у Маши?

1) на 3

3) на 4



2) на 5

4) на 6

Я  
узнал...  
Я  
повторил...  
Я  
научился...  
У меня  
получилось...



Оцени свою работу на уроке.





# Наше настроение

