

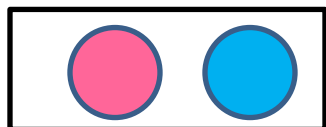
На два пальца надевают  
И что нужно разрезают.



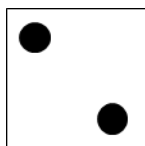
Две полоски на снегу  
Оставляю на бегу.  
Я лечу от них стрелой,  
А они опять за мной.



Назови количество предметов на каждом рисунке.



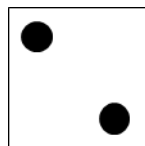
два




2



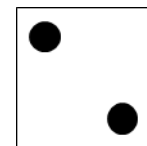
две



2

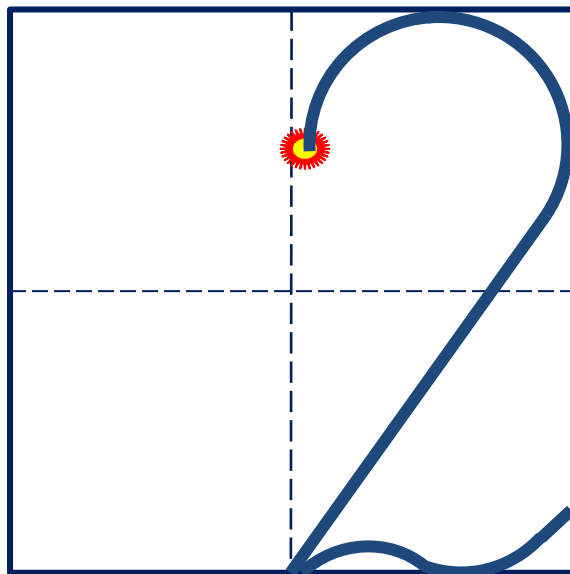


два



2

Число два записывают знаком - **цифрой 2.**



СКОЛЬКО ?





1

2

2017

Как называется  
второй день недели?

**Вторник**

Как называется  
второй месяц года?

**Февраль**



Январь	Февраль	Март
1 2 3 4 5 6 7 8 9 10 11 12 13 14 15 16 17 18 19 20 21 22 23 24 25 26 27 28 29 30 31	1 2 3 4 5 6 7 8 9 10 11 12 13 14 15 16 17 18 19 20 21 22 23 24 25 26 27 28	1 2 3 4 5 6 7 8 9 10 11 12 13 14 15 16 17 18 19 20 21 22 23 24 25 26 27 28 29 30 31

Апрель	Май	Июнь
1 2 3 4 5 6 7 8 9 10 11 12 13 14 15 16 17 18 19 20 21 22 23 24 25 26 27 28 29 30	1 2 3 4 5 6 7 8 9 10 11 12 13 14 15 16 17 18 19 20 21 22 23 24 25 26 27 28 29 30 31	1 2 3 4 5 6 7 8 9 10 11 12 13 14 15 16 17 18 19 20 21 22 23 24 25 26 27 28 29 30

Июль	Август	Сентябрь
1 2 3 4 5 6 7 8 9 10 11 12 13 14 15 16 17 18 19 20 21 22 23 24 25 26 27 28 29 30 31	1 2 3 4 5 6 7 8 9 10 11 12 13 14 15 16 17 18 19 20 21 22 23 24 25 26 27 28 29 30 31	1 2 3 4 5 6 7 8 9 10 11 12 13 14 15 16 17 18 19 20 21 22 23 24 25 26 27 28 29 30

Октябрь	Ноябрь	Декабрь
1 2 3 4 5 6 7 8 9 10 11 12 13 14 15 16 17 18 19 20 21 22 23 24 25 26 27 28 29 30 31	1 2 3 4 5 6 7 8 9 10 11 12 13 14 15 16 17 18 19 20 21 22 23 24 25 26 27 28 29 30	1 2 3 4 5 6 7 8 9 10 11 12 13 14 15 16 17 18 19 20 21 22 23 24 25 26 27 28 29 30 31

Каких предметов по одному?

Каких предметов по два?



1



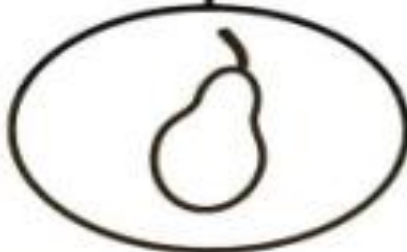
2



**2**



**1**





# 2 - пара



Кто стоит первым справа, первым слева?  
Кто стоит вторым справа, вторым слева?



Сколько зайцев в корзине?  
Почему ты так решил?



3

**длиннее**

**короче**




**больше**


**меньше**




**ВЫШЕ**



**НИЖЕ**





**Узкий - Широкий**

