

# математика

1 класс

март

□Продолжи числовую  
последовательность, допиши  
следующее число:

1

3

5

□ Сравни:



$3\text{см} + 5\text{см}$    $6\text{см}$   $10\text{кг} - 3\text{кг}$    $8\text{кг} + 1\text{кг}$

$3\text{кг}$    $8\text{кг} - 4\text{кг}$   $4\text{см} + 4\text{см}$    
 $9\text{см} - 1\text{см}$

Расставь знаки «+», «-

»:



9  4=5



□ Вставь пропущенные

числа:

$$10 - 8 + 2 = \square$$



□ Запиши решение задачи и ответ.

1) В наборе 12 листов бумаги. 7 листов синей бумаги, остальные – белые. Сколько белых листов бумаги?

2) Никита поймал 5 окуней. Петя дал ему ещё несколько. После этого у Никиты стало 13 окуней. Сколько окуней дал Никите Петя?

3) Бабушка напекла пирогов. 7 пирогов она дала внуку. После этого у неё осталось ещё 9 пирогов. Сколько пирогов испекла бабушка?



4) В магазине 6 литров яблочного сока и 10 литров вишнёвого сока. На сколько литров яблочного сока меньше, чем вишнёвого?

5) Петя прошёл 5 км, что на 2 км больше, чем прошёл Коля. Сколько км прошёл Коля?

6) Масса дыни 7 кг, а масса арбуза на 3 кг больше.  
Какова масса арбуза?

7) В магазин привезли 8 ящиков конфет и 4 ящика печенья. Продали 9 ящиков. Сколько ящиков осталось в магазине?

Друг за другом идут 10  
детей. Саша – третий, а Коля –  
девятый.

Сколько детей между Сашей  
и Колей?



□ Сколько всего отрезков на рисунке?



□ Длина отрезка 1 дм .  
Начерти отрезок на 3  
см короче.

□ Запиши чему равен  
отрезок?