




Слагаемые. Сумма. Закрепление.

Урок-сказка
1 класс

Автор: Стеблева Наталья Станиславовна
учитель начальных классов МОУ «Яснополянская СОШ»

Проверка домашнего задания:



3 отрезка


Витя



Маша







$$8-1-4$$



$$1+9-5$$

$$6+2-3$$

$$\begin{aligned} &= 5 \\ &= 3 \\ &= 4 \\ &= 3 \\ &= 5 \\ &= 5 \end{aligned}$$





Б Е Л О С Н Е Ж К А

36

7

18

2

9

0

3



54

48

30

56

24

12

42

8

4

36

7

18

2

9

0

3

6-6

0

4

48

30

56

24

12

42

8

4



36

7

18

2

9

3

$9-5$

0

4

4

48

30

56


24

12

42

8

4



36

7

18

2

9

3

10-2

0

4

8

48

30

56

12

4

8

4

24



36

7

18

2

9

3

6-2

4

8

6

4

48

30


56

12

4

4

24



36

7

18

2

9

3

8-5

3

4

6

4

8

48


30

56

12

4

24



36

7

18

2

9

8

3

4

$6 + 2$

8

6

4

48

30

56

8

4

24



36

7

18

2

9

Спасибо!

8

3

4

8

0

4

6


8

3

4

4





Поможете в Бривел! Яге

1 ряд

$$9 - 5 + 5 - 1 = 8$$

$$6 + 2 - 4 = 4$$

2 ряд

$$6 - 6 + 4 + 4 = 8$$

$$8 - 5 - 2 = 1$$



Масса тыквы 6 кг, а масса дыни на 3 кг больше. Найди массу дыни.

Ответ: 9 кг.

Н	А	Ж	А	Т	Ь
Ж	Ё	Л	Т	У	Ю
К	Н	О	П	К	У







Буратино
потянулся.

Раз - нагнулся.

Два - прогнулся.

Руки в стороны
развёл.

Видно, ключик не
нашёл.

Улыбнулся - и
пошёл.

**РЕШИТЕ
ЗАДАЧУ!!!**





Задача

В старинной мелье Кощея большое, но состоит оно всего из двух залов. Длина зала, в котором вы стоите, 8 м, а другой на 3 м длиннее. Узнайте длину второго зала.





Проверьте!

3

1

2

4

3

0

4

6

Спасибо,
ребята!



Источники:

- http://club.itdrom.com/gallery/gal_graf/pict2d/3631.html - Белоснежка
- www.zaitseva-irina.ru/archiv/snap/snap0011.jpg - Буратино
- <http://hahaha.com.ua/file/140.html> - Баба-Яга
- <http://www.starinism.ru/shop/index.php?productID=386&PHPSESSID=5770894сес28d454e748523f5fa7da10> — сундук
- http://www.dahr.ru/n_189.htm - Кощей
- <http://www.e-y.ru/~mihailikus/skaz.htm> - МОСТИК