


*А
справитесь
ли вы с
моими
заданиями?*

Подумай и запиши



- 1. Число 7 уменьшить на 5.
- 2. Найти разность чисел 9 и 6.
- 3. На сколько число 5 меньше 7 ?
- 4. Какое число надо увеличить на 2, чтобы получилось 8?
- 5. Найти сумму чисел 5 и 4 .
- 6. Уменьшаемое 7, вычитаемое 2. Найди разность.
- 7. Найти число, которое на 3 больше 5.

Решите задачи.

1. У Пети 4 тетради, у Кати на 5 тетрадей больше. Сколько тетрадей у Кати?
2. Коля и Вова играли в шашки. Коля выиграл 6 раз, Вова – 4 раза. На сколько побед больше у Коли, чем у Вовы?
3. На одной ветке дерева сидели 9 попугаев. 2 попугая перелетели на другую ветку. Сколько попугаев осталось на дереве?



Найдите решение уравнений

$$x - 5 = 4$$

$$7 + x = 10$$

$$9 - x = 6$$





$$x + 3 = 8$$




Решите уравнение

$$X + 3 = 7$$









*Ребята, вы
справились с
моими
заданиями!*

Молодцы !

СЕГОДНЯ НА УРОКЕ

Я узнал ...

Было интересно...

У меня получилось...

У меня не очень

получилось...