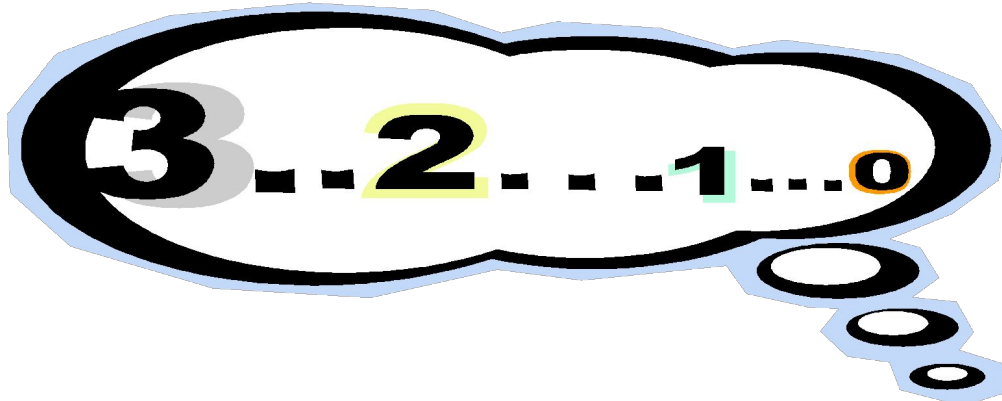


Математика

1 класс



Математические выражения



Учитель начальных классов средней школы №10 Приволжского района г.Казани Шарафеева Сария Гарифзяновна



ВЕСЕЛЫЙ СЧЕТ

Устный счет


В поле бабочки летали
Лепестки цветков считали,
1,2,3,4,5 и еще 2
Сколько же было лепестков?

Скажи бабочкам подумав.



Помоги зайчикам считать


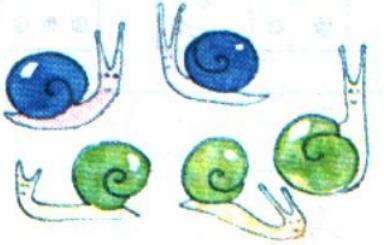

Тихо зайчики сидели,
Дружно ягодки ели.
6 съели, осталось 2
Поглядеть бы нам,
Сколько ягод было там?



- Шесть веселых медвежат
- За малиной в лес спешат.
- Но один малыш устал,
- От товарищей отстал.
- А теперь ответ найди,
- Сколько мишек впереди?


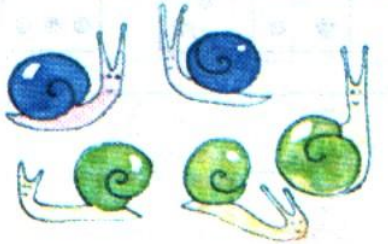



УСТАНОВИ СООТВЕТСТВИЕ

	$7-2$	<table border="1"><tbody><tr><td>○</td><td>○</td><td>○</td><td>●</td><td>●</td><td>●</td><td>●</td></tr></tbody></table>	○	○	○	●	●	●	●
○	○	○	●	●	●	●			
	$3+4$	<table border="1"><tbody><tr><td>○</td><td>○</td><td>○</td><td>●</td><td>●</td><td></td><td></td></tr></tbody></table>	○	○	○	●	●		
○	○	○	●	●					
	$3+2$	<table border="1"><tbody><tr><td>○</td><td>○</td><td>○</td><td>○</td><td>○</td><td>∅</td><td>∅</td></tr></tbody></table>	○	○	○	○	○	∅	∅
○	○	○	○	○	∅	∅			



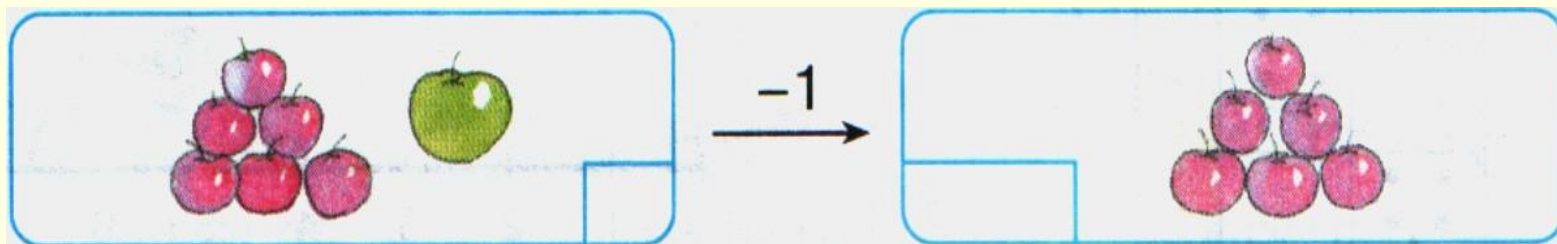
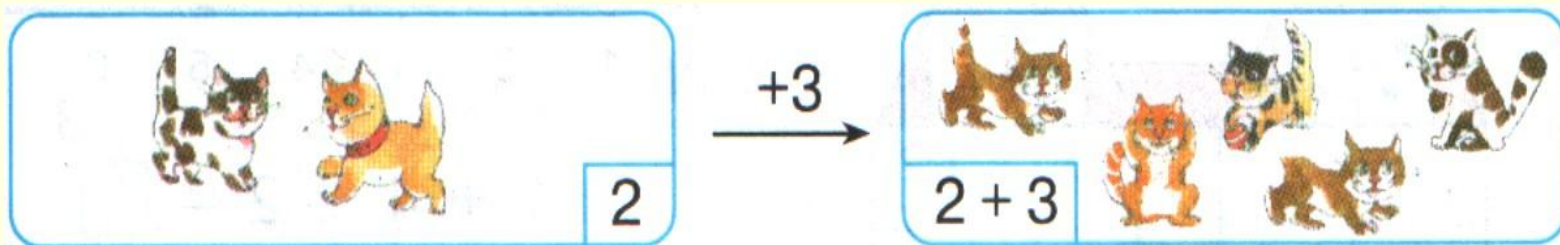
Проверь себя

	$7-2$	<table border="1"><tbody><tr><td>○</td><td>○</td><td>○</td><td>●</td><td>●</td><td>●</td><td>●</td></tr></tbody></table>	○	○	○	●	●	●	●
○	○	○	●	●	●	●			
	$3+4$	<table border="1"><tbody><tr><td>○</td><td>○</td><td>○</td><td>●</td><td>●</td><td></td><td></td></tr></tbody></table>	○	○	○	●	●		
○	○	○	●	●					
	$3+2$	<table border="1"><tbody><tr><td>○</td><td>○</td><td>○</td><td>○</td><td>○</td><td>∅</td><td>∅</td></tr></tbody></table>	○	○	○	○	○	∅	∅
○	○	○	○	○	∅	∅			

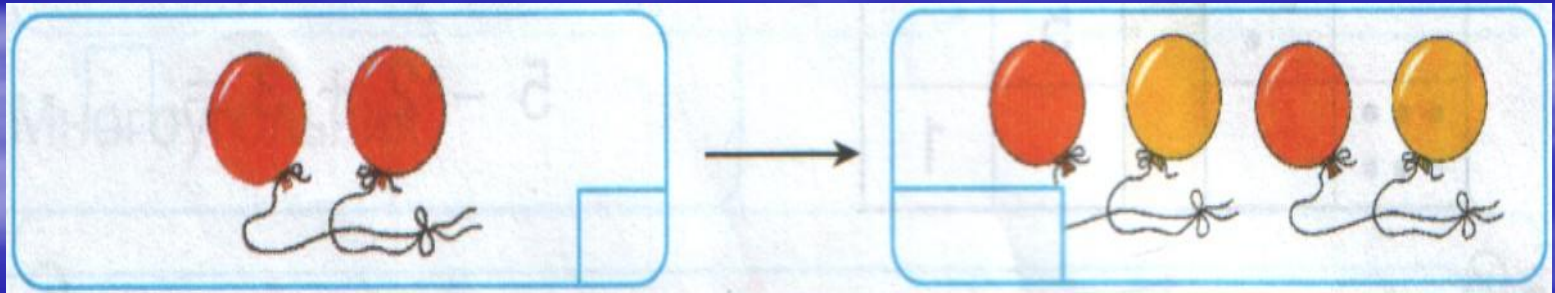
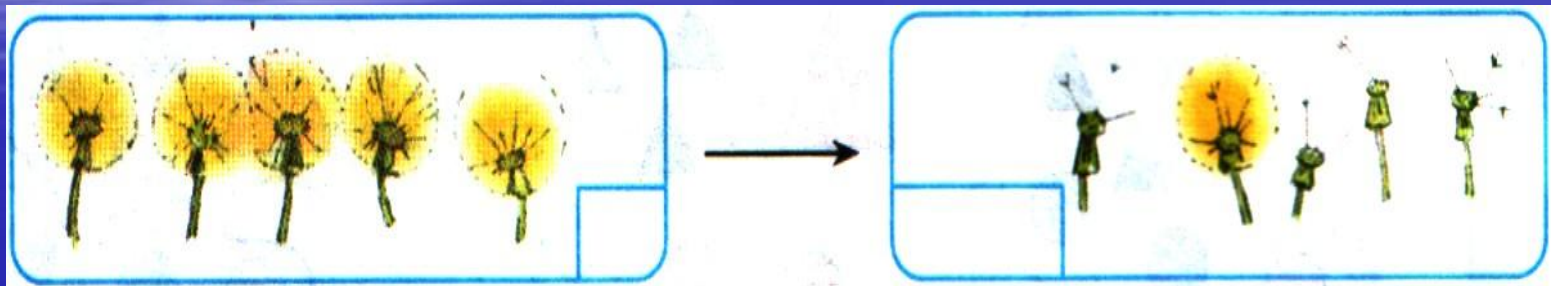


ЧТО ИЗМЕНИЛОСЬ ?


СОСТАВЬ ВЫРАЖЕНИЯ.



ПОПРОБУЙ ЕЩЕ РАЗ!



ПОСАДИ ПАРАШЮТ НА СВОЮ ПЛОЩАДКУ.



неправильно ! подумай !



Будь внимателен!

Правильно!



МОЛОДЕЦ!




Незнайкина задача



Сколько маленьких утят
Плавать и нырять хотят?
Три уплыли далеко,
Два нырнули глубоко.
Сколько их всего в пруду?
Сосчитать я не могу.




ПРОВЕРЬ ОТВЕТ



Умница !

Ты справился со всеми заданиями !

Завтра тебя ждут интересные дела !



Литература

1) Л.Г.Петрсон Математика 1 класс

2) Метод. пособие для учителя
Л.Г.Петерсон

3) Математика 1 класс (поур. планы)
Г.А.Зайцева

4) Задачи для нач. кл.
Степанова Т. А.