

Путешествие в  
Математическое  
королевство

# ПУТЕШЕСТВИЕ НА ВОЗДУШНОМ ШАРЕ



# ДВЕРЬ НА ЗАМКЕ





# СМЕШАРИКИ





ЛОСЯШ






... -



... -



... +

2



... -



... +




... +


2



... -



... +



# БОЛОТО

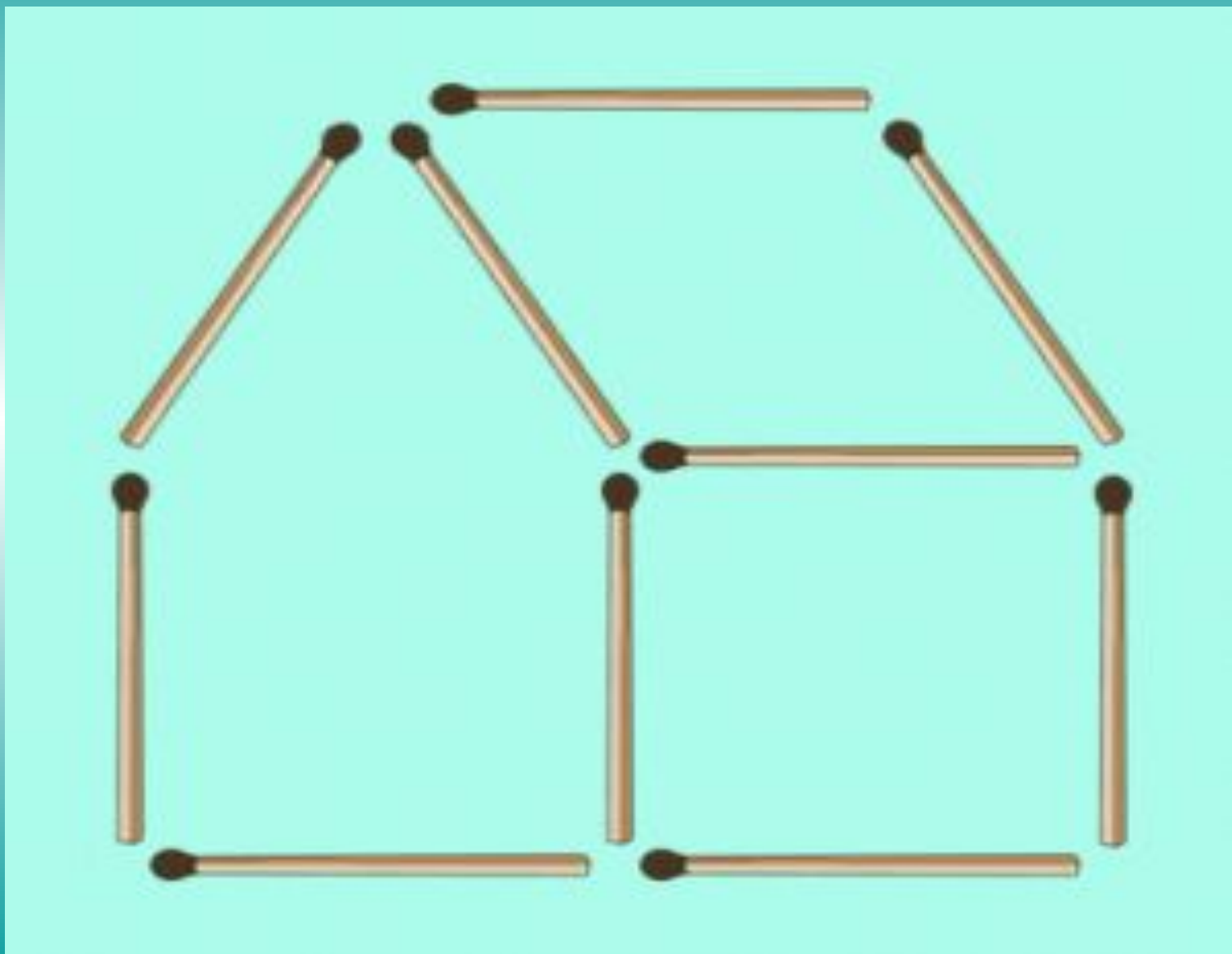





# ЛОСЯШ встретил КОПАТЫЧА



# ДОМИК КОПАТЫЧА



# ДОМИК КОПАТЫЧА



# СОВУНЬЯ








10

5



6

8



7



9

# НЕЗНАЙКА





**УСЛОВИЕ**

**ВОПРОС**

**РЕШЕНИЕ**

**ОТВЕТ**

# БАРАШ





# КРОШ



## Задача 2.

### Условие

Было -



Стало - ? на 2 меньше

### Решение

$$5 - 2 = \underline{3} \text{ (к.)}$$

**Ответ:** 3 карандаша.

1 в. - Задача 3 (1)

2 в. - Задача 3 (2)

**Проверяем!**

1 В.



$$4 + 1 = \underline{5} \text{ (п.)}$$

*Ответ: 5 помидоров.*



2 в.



$$7 - 1 = \underline{6} \text{ (в.)}$$


*Ответ: 6 вишен.*




# 8 р.







ЁЖИК



# КАР КАРЫЧ



## Реши задачу

**Муха летит выше,  
чем оса, но ниже,  
чем пчела.**



**Кто летит выше всех?**



# Отгадайте ребусы

**7Я**

**ПО2Л**

**СЗЖ**

# НЮША



**Спасибо за старание.  
Ведь главное – желание,  
А навыки и знания  
С годами к вам придут.  
Прозвенел звонок с урока,  
Поиграть пришла пора.  
Что узнали на уроке,  
Не забывайте НИКОГДА.**

**М О Л О Д Ц Ы !**