


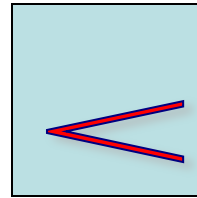


БОЛЬШЕ, МЕНЬШЕ ИЛИ РАВНО!

Математика 1 класс



Сколько здесь? А вот здесь?  
растёт? Давай посчитаем! Проверим,  
**Проверим**





Сосчитай и нужный знак  
Напиши в квадрате так:

> < =

Сколько прыгает зайчат? Сколько бегают цыплята?

# Проверим



# Знак поставити надо снова, Проверим

8

>

6

7

>

5

4

<

5

5

>

4

9

>


7

8


=

8






проверим



*С рынка бабушка пришла,  
Крупных яблок принесла,  
И Наташе, и Андрюше  
Эти яблоки дала.  
Сколько яблок у внучат?  
Нужный знак впиши в квадрат.*



Знак поставить не ленись,  
Но смотри, не ошибись.

# Проверим

$7 < 9$

$4 = 4$

$3 > 2$


$6 > 4$

$6 = 6$

$6 < 9$







О

Л

Д

О

Ц

М

Ы