


Сколько вёдер воды помещается в бочонке?



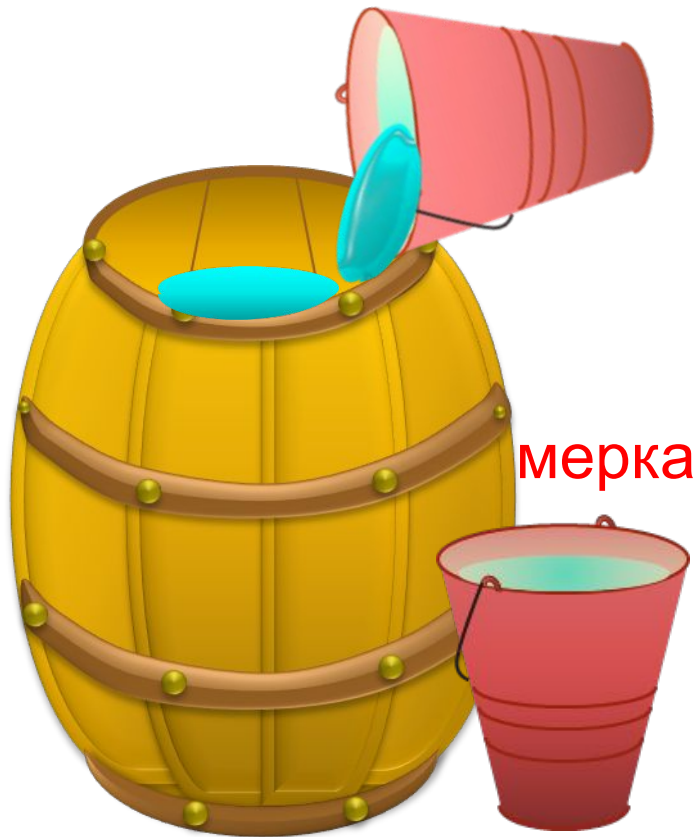
1 ведро

Сколько вёдер воды помещается в бочонке?



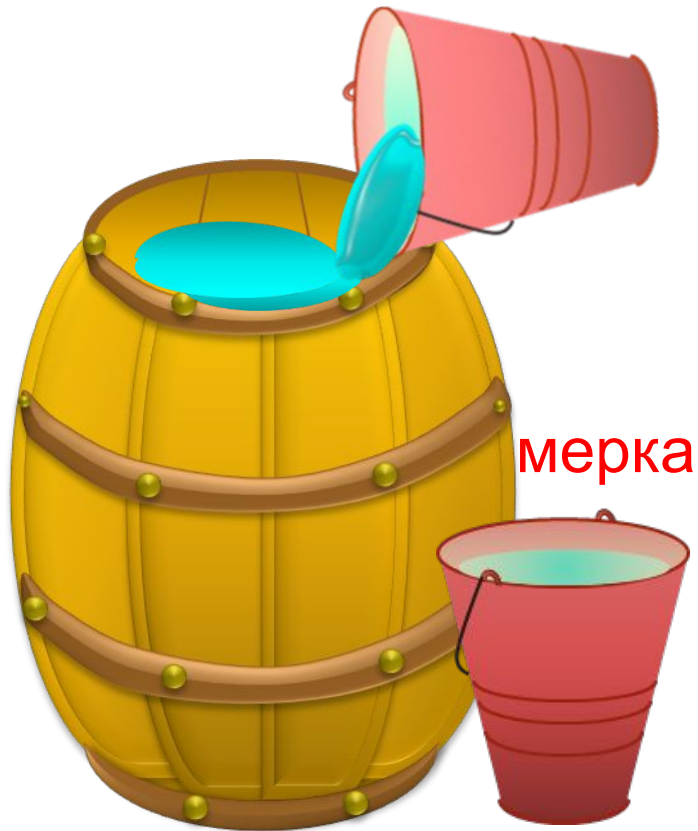
2 ведра

Сколько вёдер воды помещается в бочонке?



**3 ведра**

Сколько вёдер воды помещается в бочонке?



4 ведра

Сколько вёдер воды помещается в бочонке?



1 бочонок = 5 вёдер

Сколько вёдер воды помещается в бочонке?



1 бочонок = 5 вёдер

Сколько банок воды помещается в бочонке?



1 бочонок = 5 вёдер

Сколько банок воды помещается в бочонке?

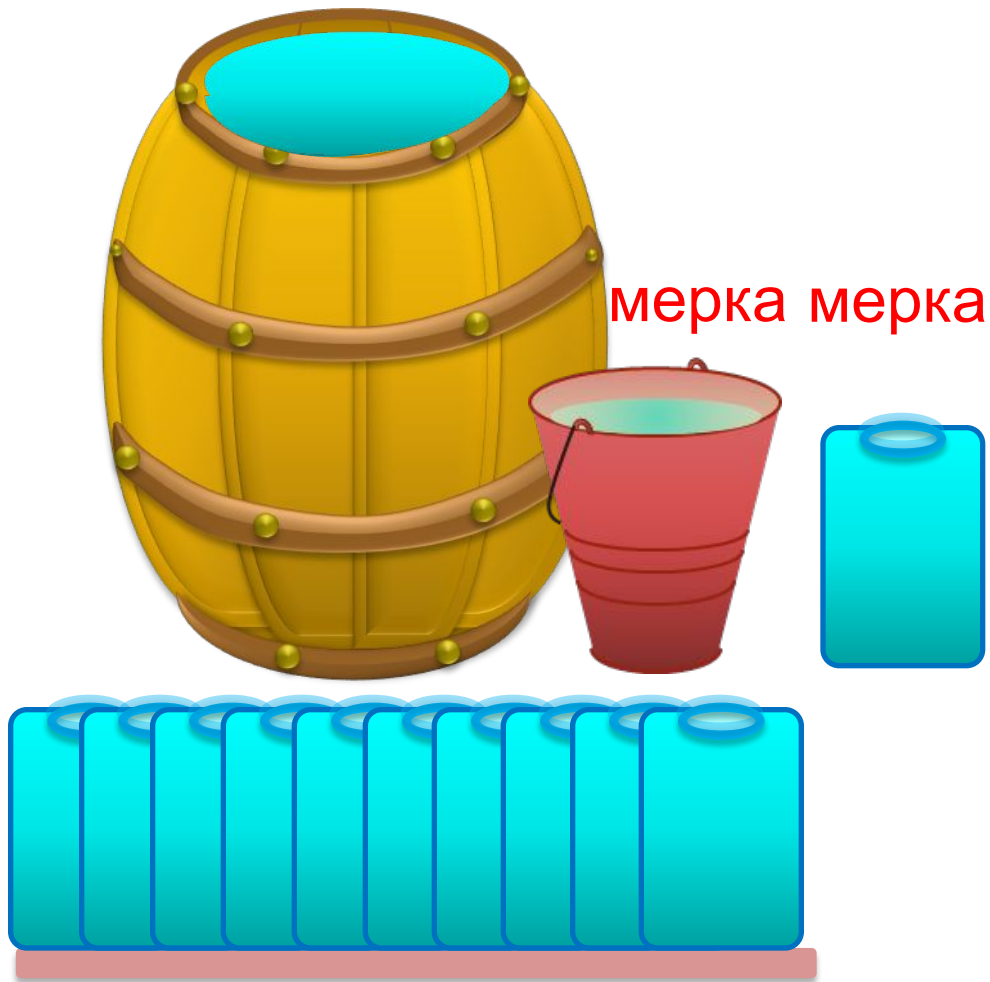


1 бочонок = 10 банок

1 бочонок = 5 вёдер



Сколько банок воды помещается в бочонке?



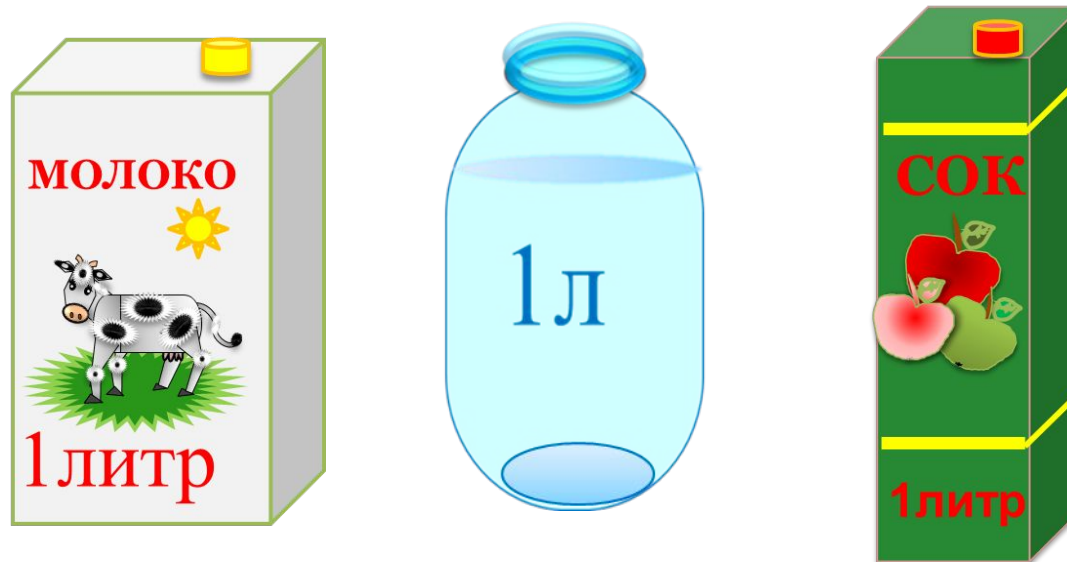
1 бочонок = 10 банок

1 бочонок = 5 вёдер

Что нужно сделать, чтобы не было путаницы?

**Для измерения надо использовать одинаковую мерку!**

**! Одна из мерок вместимости - 1 литр (л)**




# Тема урока: Литр

Цель урока: познакомиться с понятием литр; учиться определять вместимость сосудов в литрах.

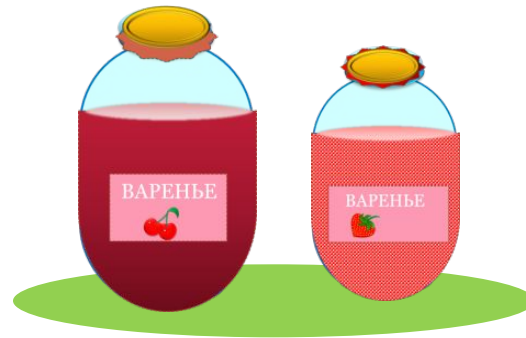
***21 февраля***  
***Классная работа***

В одну банку входит 1 литр воды, а в другую – 3 литра.  
Какая банка больше?

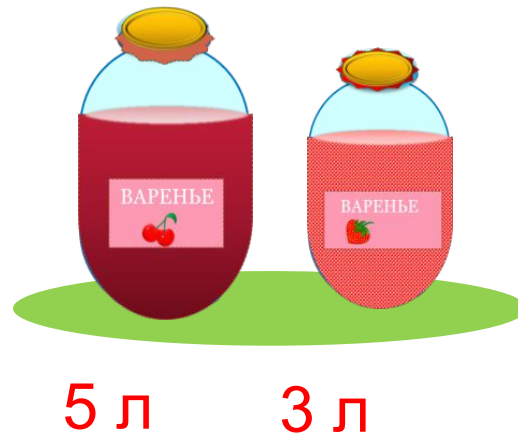


$$1 \text{ л} < 3 \text{ л}$$

Мама сварила **5 л** вишнёвого варенья и **3 л** клубничного.  
Сколько всего литров варенья сварила мама?



Мама сварила 5 л вишнёвого варенья и 3 л клубничного.  
Сколько всего литров варенья сварила мама?



$$5 + 3 = 8 \text{ (л)}$$

Ответ: 8 л всего.

Я узнал...

Я запомнил...

Мне понравилось...

Я выполнял задания...

