

«Моя математика» 1 класс

Урок 26

Тема урока: «Числовой отрезок»



Советы учителю.

Презентация к уроку составлена на основе заданий, расположенных в учебнике.

Рекомендую открыть учебник на странице с данным уроком, прочитав задания и просмотреть их в данной презентации в режиме демонстрации.

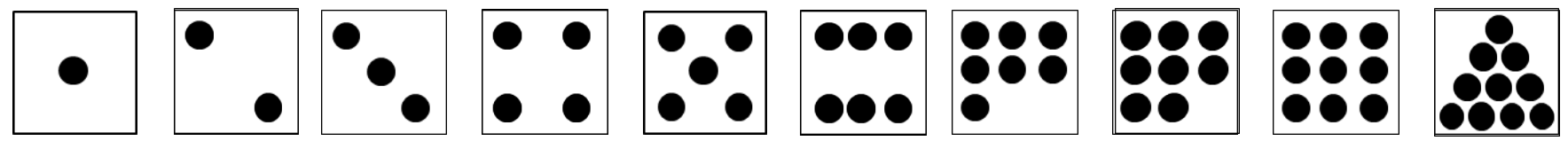
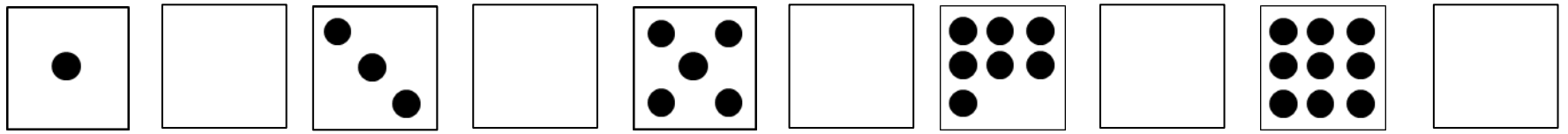
Внимание!

Некоторые задания можно выполнять интерактивно. Например, продолжить ряд, сравнить или вставить пропущенные числа. Для этого презентацию надо перевести в режим редактирования.

Урок 26. Числовой отрезок

Повторение.

Назовите недостающие числа. Что можно сказать о каждом из НИХ.




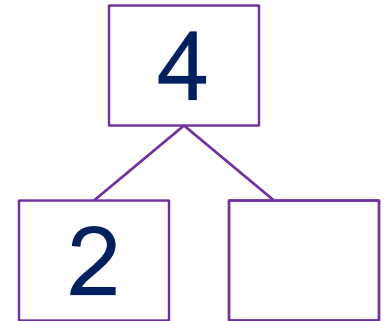
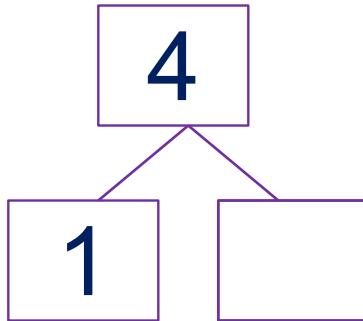
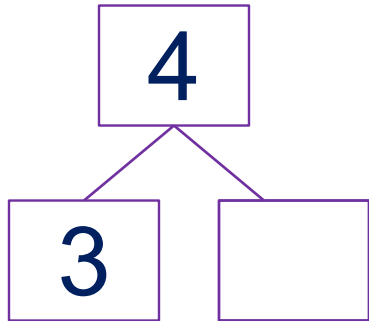
Внимание!

Данное задание можно выполнить интерактивно.

Для этого презентацию надо перевести в режим редактирования.

Урок 26. Числовой отрезок

Повторение. Расскажите о числе 4.



Внимание!

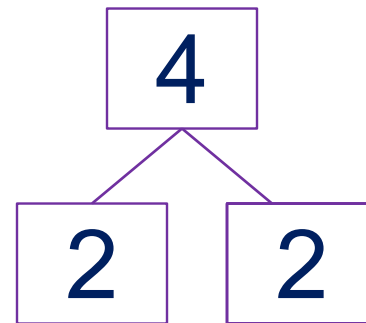
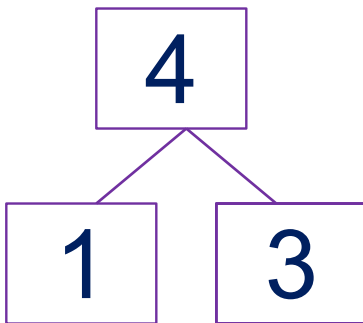
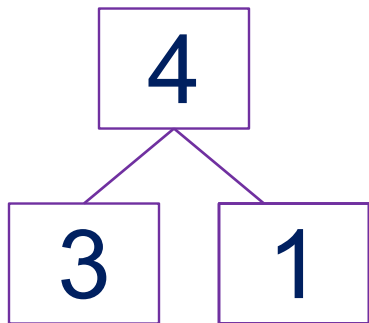
Данное задание можно выполнить интерактивно.

Для этого презентацию надо перевести в режим редактирования.


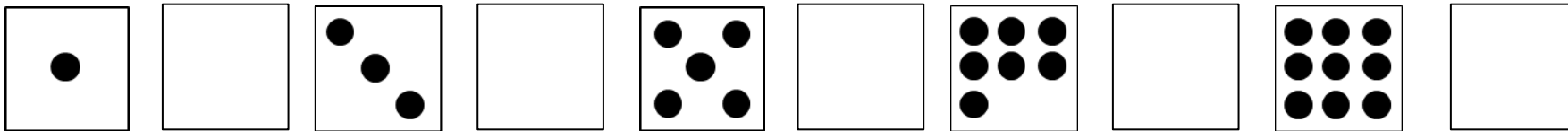
Урок 26. Числовой отрезок

Повторение. Расскажите о числе 4.

ПРОВЕРЬ!



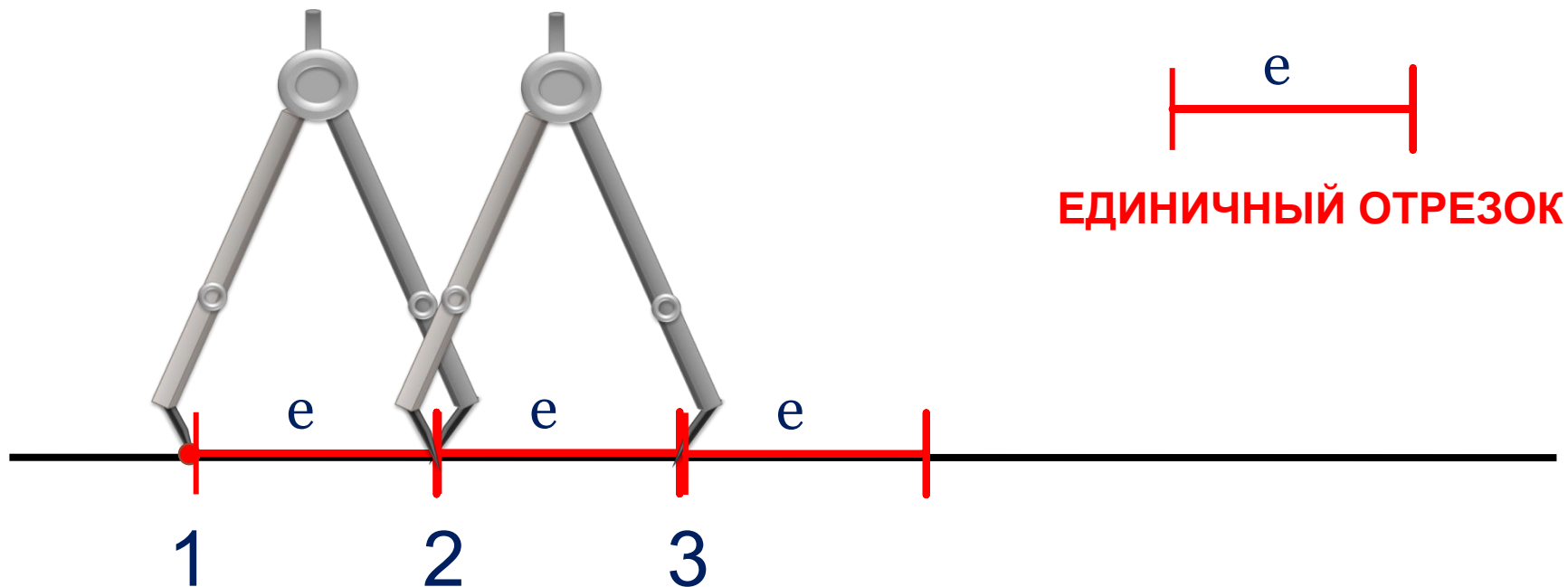
Назовите недостающие числа. Что можно сказать о каждом из НИХ.



Урок 26. Числовой отрезок

! **Построение числового отрезка.** На прямой ставим точку, под ней цифру 1. Отложим от этой точки единичный отрезок и ставим вторую точку, под ней цифру 2, от этой точки отложим единичный отрезок и ставим третью точку, под ней цифру 3 и т.

Д.

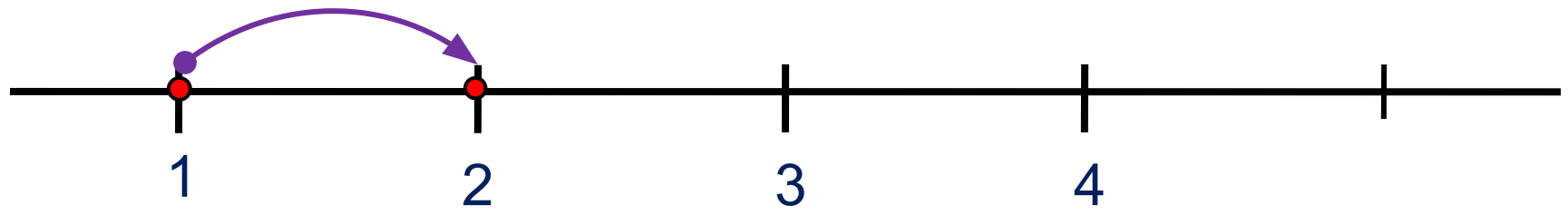


Это - числовой отрезок.

Урок 26. Числовой отрезок

1. Расскажи по рисунку, как Вова искал значения выражений. Какие числа он нашёл?

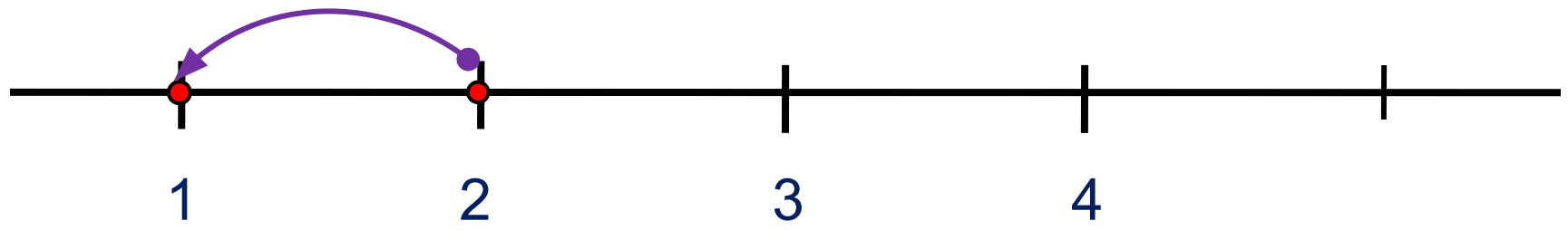
+1



$$1 + 1 = \boxed{2}$$

Вправо - плюс

-1

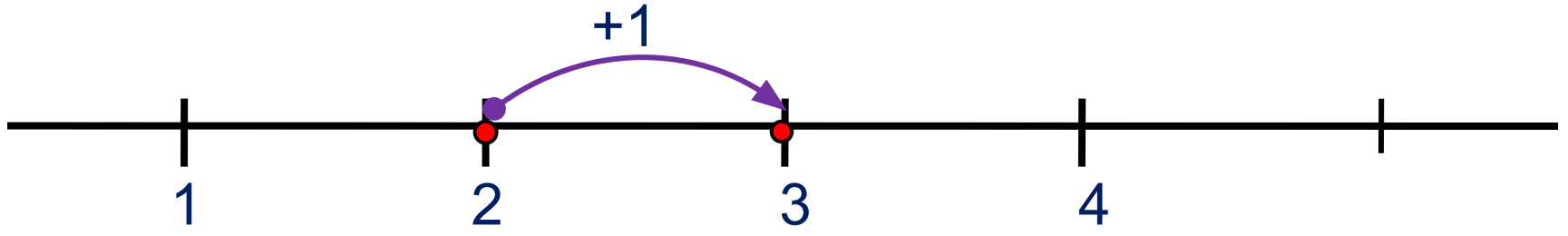


$$2 - 1 = \boxed{1}$$

Влево - минус

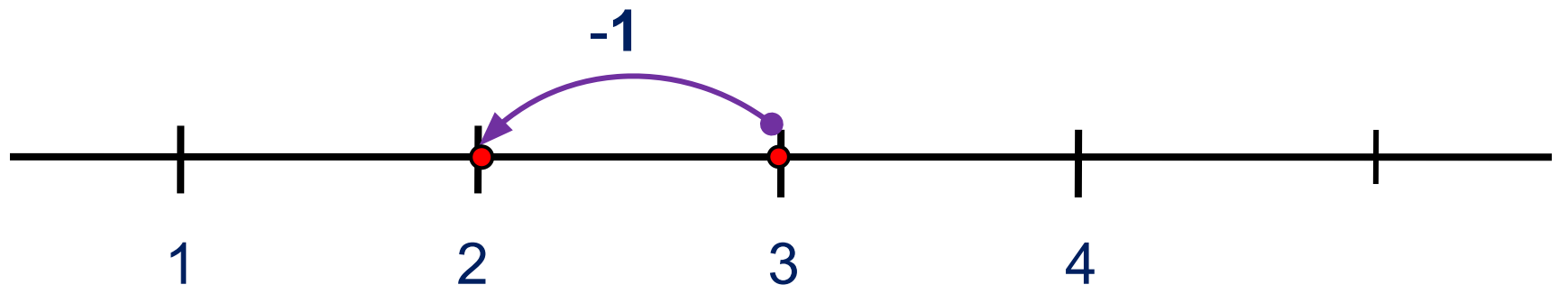
Урок 26. Числовой отрезок

2. Выполни вместе с ребятами сложение и вычитание. Какие равенства у них получились?



$$2 + 1 = \boxed{3}$$

Вправо - плюс

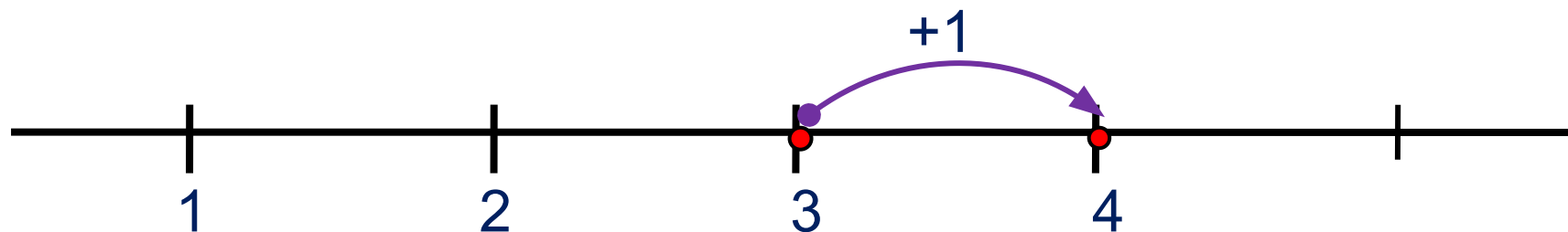


$$3 - 1 = \boxed{2}$$

Влево - минус

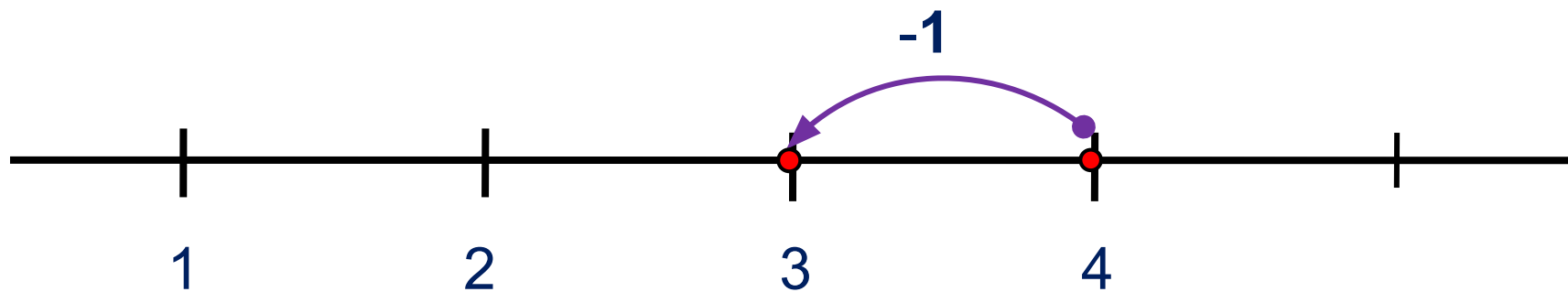
Урок 26. Числовой отрезок

2. Выполни вместе с ребятами сложение и вычитание. Какие равенства у них получились?



$$3 + 1 = \boxed{4}$$

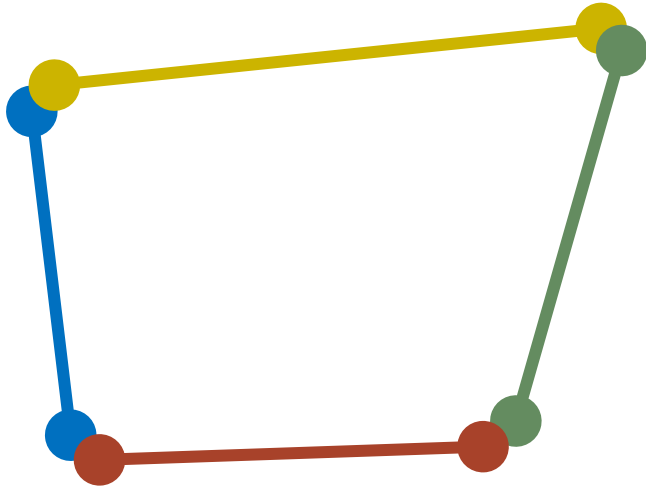
Вправо - плюс



$$4 - 1 = \boxed{3}$$

Влево - минус

4. Что ты можешь рассказать о фигуре на рисунке?




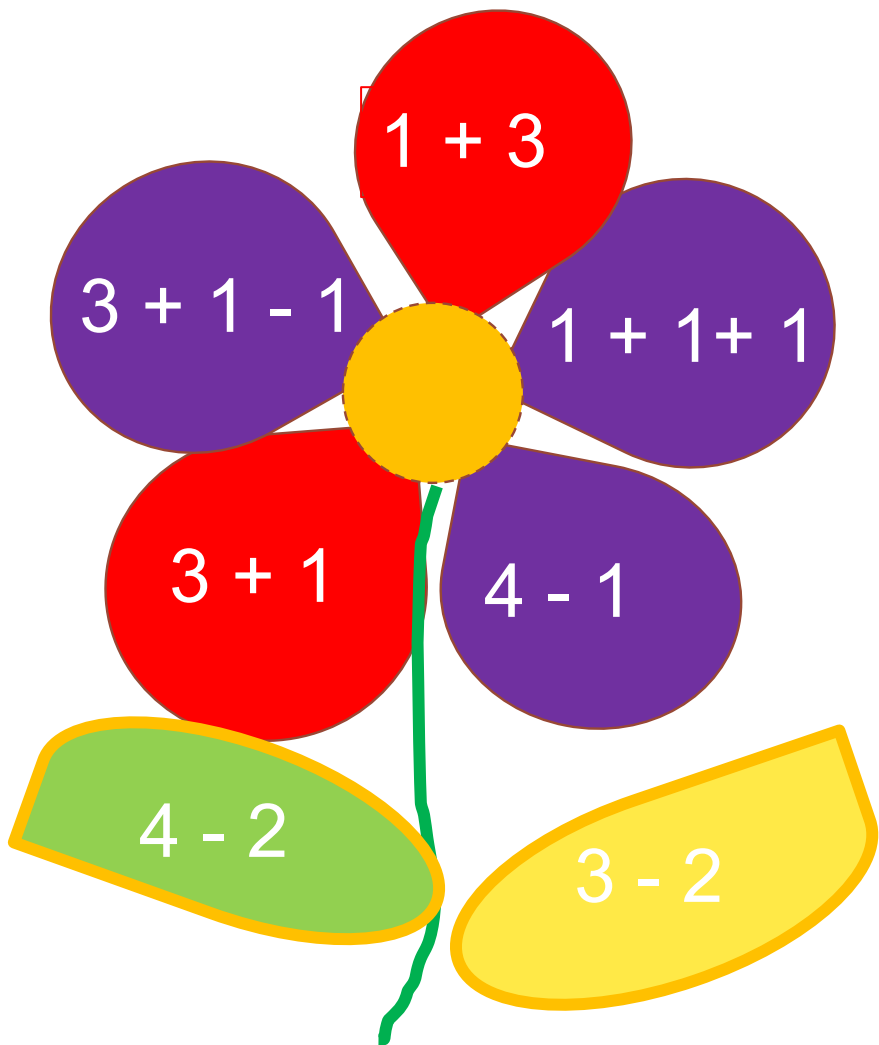
Это – замкнутая ломаная.

? Как можно назвать эту фигуру?

Это – **четырёхугольник.**

Урок 26. Числовой отрезок

5. Догадайся, какие числа должны стоять в «окошках».



Внимание!


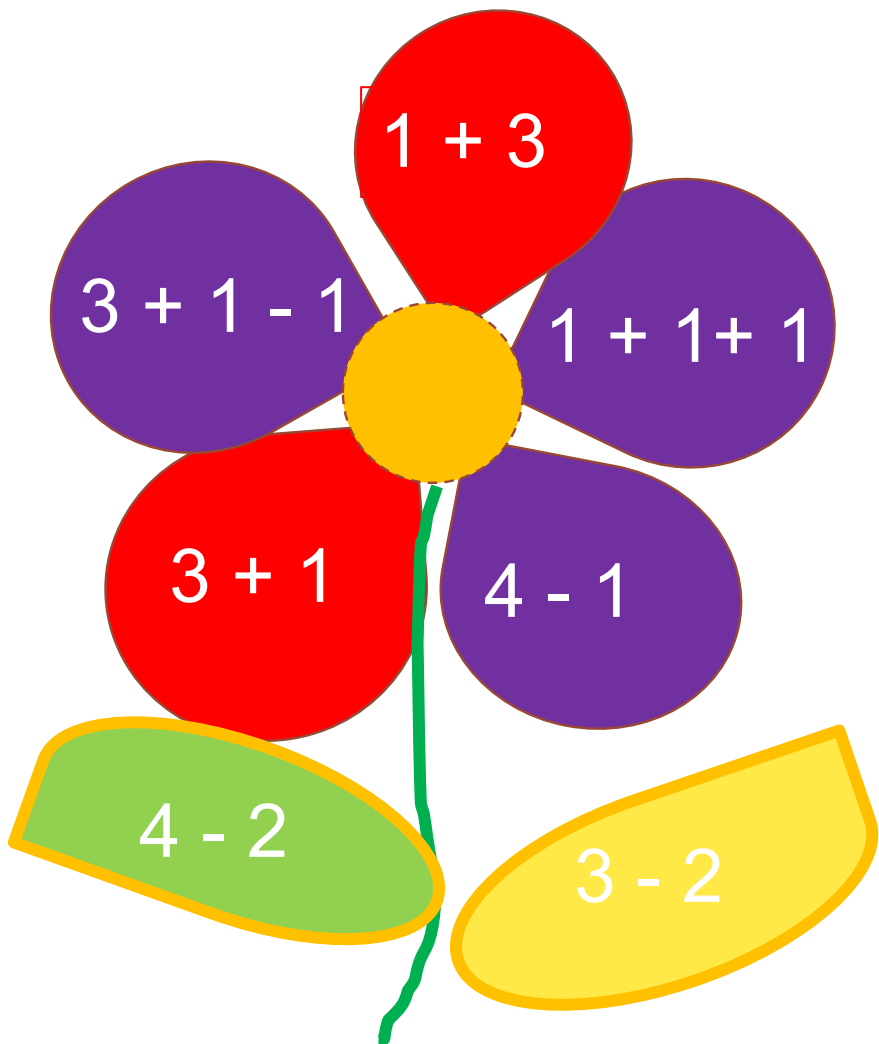
Данное задание можно выполнить интерактивно.

Для этого презентацию надо перевести в режим редактирования.



Урок 26. Числовой отрезок

5. Догадайся, какие числа должны стоять в «окошках».



ПРОВЕРЬ!



Спасибо!