

«Моя математика» 1 класс

Урок 56

Тема урока: «Числа 0-10»

0
1
2
3
4
5
6
7
8
9

$1+1+1$ $2+1$ $5-1$ $1+3$ $2+1$
 $1+1+1+1$ $7-1+2$ $3+1$ $2+3$
 $4+2$ $1+1+1+1+1+1$ $3+3$
3 3 3 3
 $4+1+1+1$
 $4+1$? ? ?
? ? ?

Советы учителю.

Презентация к уроку составлена на основе заданий, расположенных в учебнике.

Рекомендую открыть учебник на странице с данным уроком, прочитав задания и просмотреть их в данной презентации в режиме демонстрации.

Внимание!

Некоторые задания можно выполнять интерактивно. Например, продолжить ряд, сравнить или вставить пропущенные числа. Для этого презентацию надо перевести в режим редактирования.

Урок 56. Числа 0 - 10

1. Какие числа забыла записать Катя?

Внимание!

Данное задание можно выполнить интерактивно. Для этого презентацию надо перевести в режим редактирования.

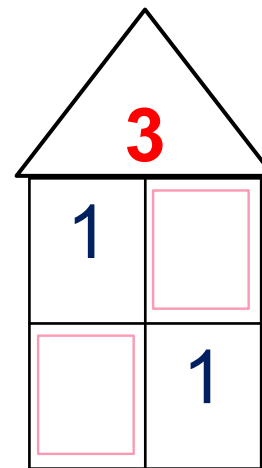
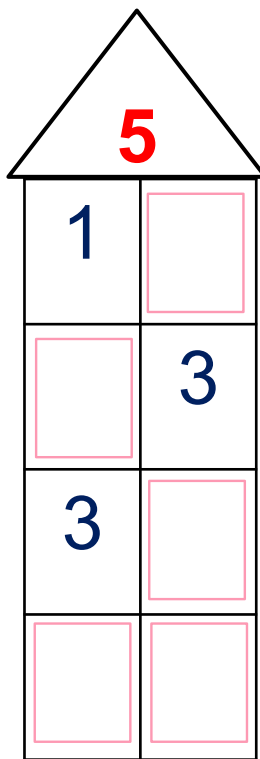
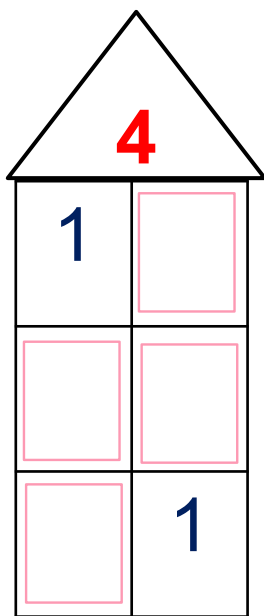
Three house-shaped diagrams are shown, each with a triangular roof and a 2x3 grid of boxes below. The numbers in the roofs and some boxes are given, while others are empty.

- House 1: Roof contains the number 4. The grid contains the number 1 in the top-left box and 1 in the bottom-right box. All other boxes are empty.
- House 2: Roof contains the number 5. The grid contains the number 1 in the top-left box, 3 in the middle-right box, and 3 in the bottom-left box. All other boxes are empty.
- House 3: Roof contains the number 3. The grid contains the number 1 in the top-left box and 1 in the bottom-right box. All other boxes are empty.

- | | | | | | | | | | | |
|---|---|---|---|---|---|---|---|---|---|----|
| 0 | 1 | 2 | 3 | 4 | 5 | 6 | 7 | 8 | 9 | 10 |
|---|---|---|---|---|---|---|---|---|---|----|

Урок 56. Числа 0 - 10

1. Какие числа забыла записать Катя?

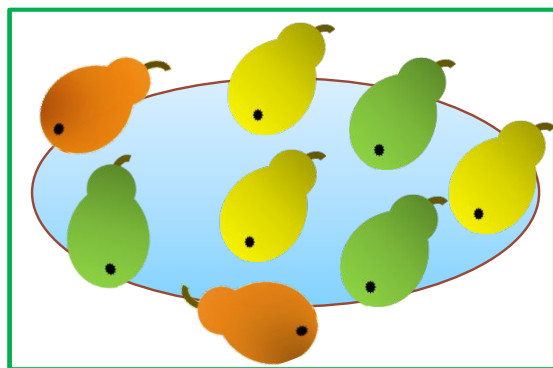


- 0
- 1
- 2
- 3
- 4
- 5
- 6
- 7
- 8
- 9
- 10

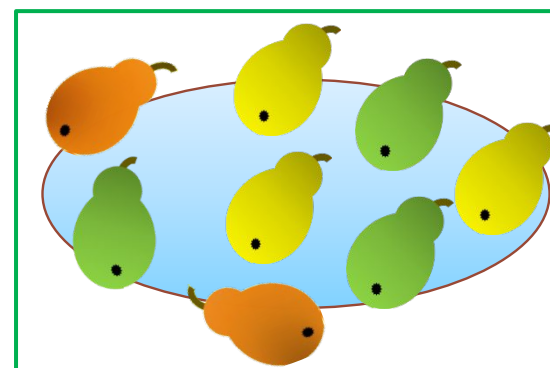
ПРОВЕРЬ!

Урок 56. Числа 0 - 10

2. Какие рассказы можно придумать по рисункам Лены и Вовы. Помоги ребятам подобрать к каждому рисунку выражение и схему. Задай вопрос. Найди значения выражений.



$- 3$
→



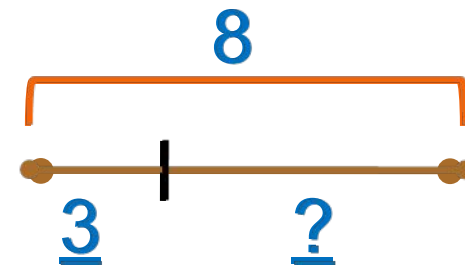
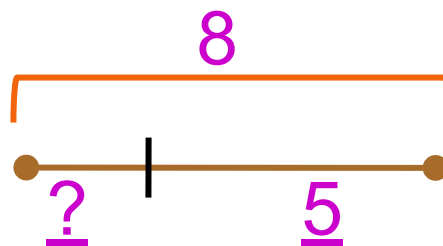
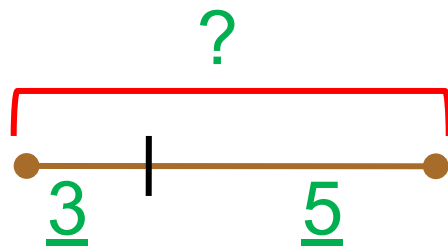
Внимание! Данное задание можно выполнять интерактивно. Во время демонстрации навести курсор на нужную фигуру до появления ладошки. Кликнуть!

$$8 - 5$$

$$5 + 3$$

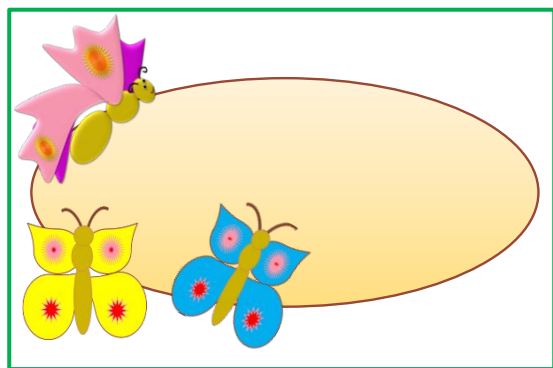
$$3 + 5$$

$$8 - 3$$




Урок 56. Числа 0 - 10

2. Какие рассказы можно придумать по рисункам Лены и Вовы. Помоги ребятам подобрать к каждому рисунку выражение и схему. Задай вопрос. Найди значения выражений.



+ 5
→



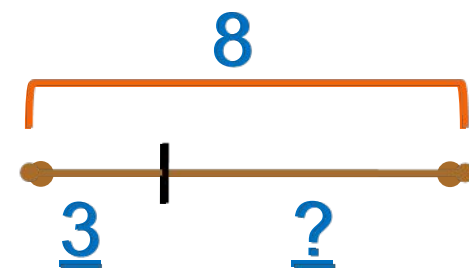
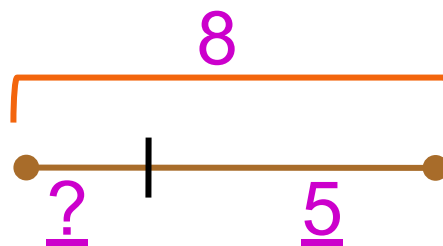
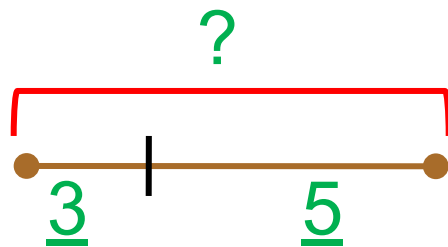
Внимание! Данное задание можно выполнять интерактивно. Во время демонстрации навести курсор на нужную фигуру до появления ладошки. Кликнуть!

$$8 - 5$$

$$5 + 3$$

$$3 + 5$$

$$8 - 3$$



3. Преврати записи Пети в верные равенства.

$2 + \square = 5$

$\square - 5 = 5$

$\square + 6 = 10$

$9 - \square = 6$

Внимание!

Данное задание можно выполнять интерактивно. Во время демонстрации навести курсор на нужную фигуру до появления ладошки. Кликнуть!

0 1 2 3 4 5 6 7 8 9 10

3. Преврати записи Пети в верные равенства.

$2 + \boxed{3} = 5$

$\boxed{} - 5 = 5$

$\boxed{} + 6 = 10$

$9 - \boxed{} = 6$

Внимание!

Данное задание можно выполнять интерактивно. Во время демонстрации навести курсор на нужную фигуру до появления ладошки. Кликнуть!

0 1 2 3 4 5 6 7 8 9 10

3. Преврати записи Пети в верные равенства.

$2 + \boxed{3} = 5$

$\boxed{} - 5 = 5$

$\boxed{4} + 6 = 10$

$9 - \boxed{} = 6$

Внимание!

Данное задание можно выполнять интерактивно. Во время демонстрации навести курсор на нужную фигуру до появления ладошки. Кликнуть!

0 1 2 3 4 5 6 7 8 9 10

3. Преврати записи Пети в верные равенства.

$2 + \boxed{3} = 5$

$\boxed{10} - 5 = 5$

$\boxed{4} + 6 = 10$

$9 - \boxed{} = 6$

Внимание!

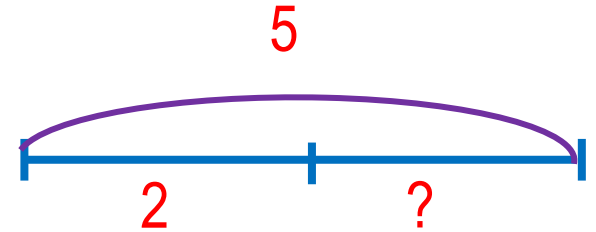
Данное задание можно выполнять интерактивно. Во время демонстрации навести курсор на нужную фигуру до появления ладошки. Кликнуть!



3. Преврати записи Пети в верные равенства.

$$2 + \boxed{3} = 5$$

$$\boxed{10} - 5 = 5$$



$$\boxed{4} + 6 = 10$$

$$9 - \boxed{3} = 6$$

Внимание!

Данное задание можно выполнять интерактивно. Во время демонстрации навести курсор на нужную фигуру до появления ладошки. Кликнуть!

• Выберите равенство, к которому составили схему.

4. Какие числа загадали ребята?

К. $(4) \xrightarrow{+1} \bigcirc \xrightarrow{+2} \bigcirc \xrightarrow{+3} \bigcirc$

П. $(5) \xrightarrow{+4} \bigcirc \xrightarrow{-2} \bigcirc \xrightarrow{+1} \bigcirc$

В. $(6) \xrightarrow{+2} \bigcirc \xrightarrow{-3} \bigcirc \xrightarrow{+4} \bigcirc$

Л. $(7) \xrightarrow{-1} \bigcirc \xrightarrow{-5} \bigcirc \xrightarrow{+2} \bigcirc$

Внимание!

Данное задание можно выполнить интерактивно. Для этого презентацию надо перевести в режим редактирования.

0	1	2	3	4	5	6	7	8	9	10
---	---	---	---	---	---	---	---	---	---	----

4. Какие числа загадали ребята?

ПРОВЕРЬ!

К. $\textcircled{4} \xrightarrow{+1} \textcircled{5} \xrightarrow{+2} \textcircled{7} \xrightarrow{+3} \textcircled{10}$

П. $\textcircled{5} \xrightarrow{+4} \textcircled{9} \xrightarrow{-2} \textcircled{7} \xrightarrow{+1} \textcircled{8}$

В. $\textcircled{6} \xrightarrow{+2} \textcircled{8} \xrightarrow{-3} \textcircled{5} \xrightarrow{+4} \textcircled{9}$

Л. $\textcircled{7} \xrightarrow{-1} \textcircled{6} \xrightarrow{-5} \textcircled{1} \xrightarrow{+2} \textcircled{3}$



5. Сравни, если возможно ($>$, $<$, $=$)

$$a + 9 \square 9 - a$$

$$a + 4 \square 4 + a$$

$$a + 4 \square 4 + a$$

$$a + 9 \square 9 - a$$

$$k - 3 \square k - 2$$

$$10 - k \square 9 - k$$

Внимание!

Данное задание можно выполнить интерактивно.

Для этого презентацию надо перевести в режим редактирования.



5. Сравни, если возможно ($>$, $<$, $=$)

Сравнить нельзя!

$$k + 8 \quad \square \quad 8 + k$$


$$a = 1 \quad a = 0$$

$$4 + k \quad \square \quad k + 5$$

$$0 + 0 \quad \square \quad 0 - 0$$

$$7 - a \quad \square \quad 7 + k$$

$$5 - k \quad \square \quad 5 - a$$



ПРОВЕРЬ!

5. Сравни, если возможно ($>$, $<$, $=$)

Сравнить нельзя!

$$k + 8 \quad \square \quad 8 + k$$

$$a = 1 \quad a = 0$$

$$4 + 0 \quad \square \quad 0 + 5$$

Сравнить нельзя!

$$k = 1 \quad k = 0$$

Сравнить нельзя!

Сравнить нельзя!

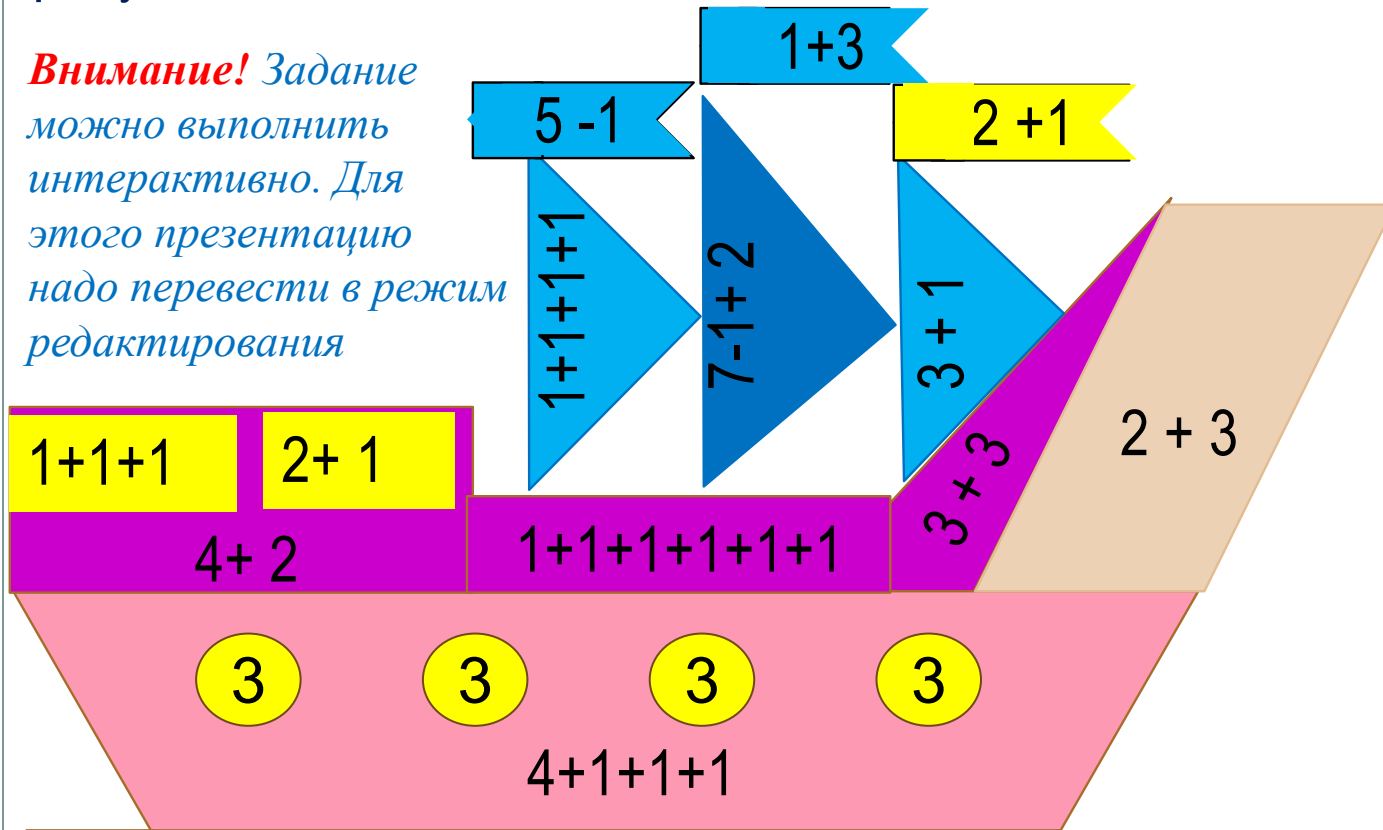


ПРОВЕРЬ!

Урок 56. Числа 0 - 10

8. Рассмотрите рисунок Пети. Какие геометрические фигуры есть на его рисунке? Какие числа загадал Петя?

Внимание! Задание можно выполнить интерактивно. Для этого презентацию надо перевести в режим редактирования



- 0
- 1
- 2
- 3
- 4
- 5
- 6
- 7
- 8
- 9

4 + 1

?




?



?




?



?

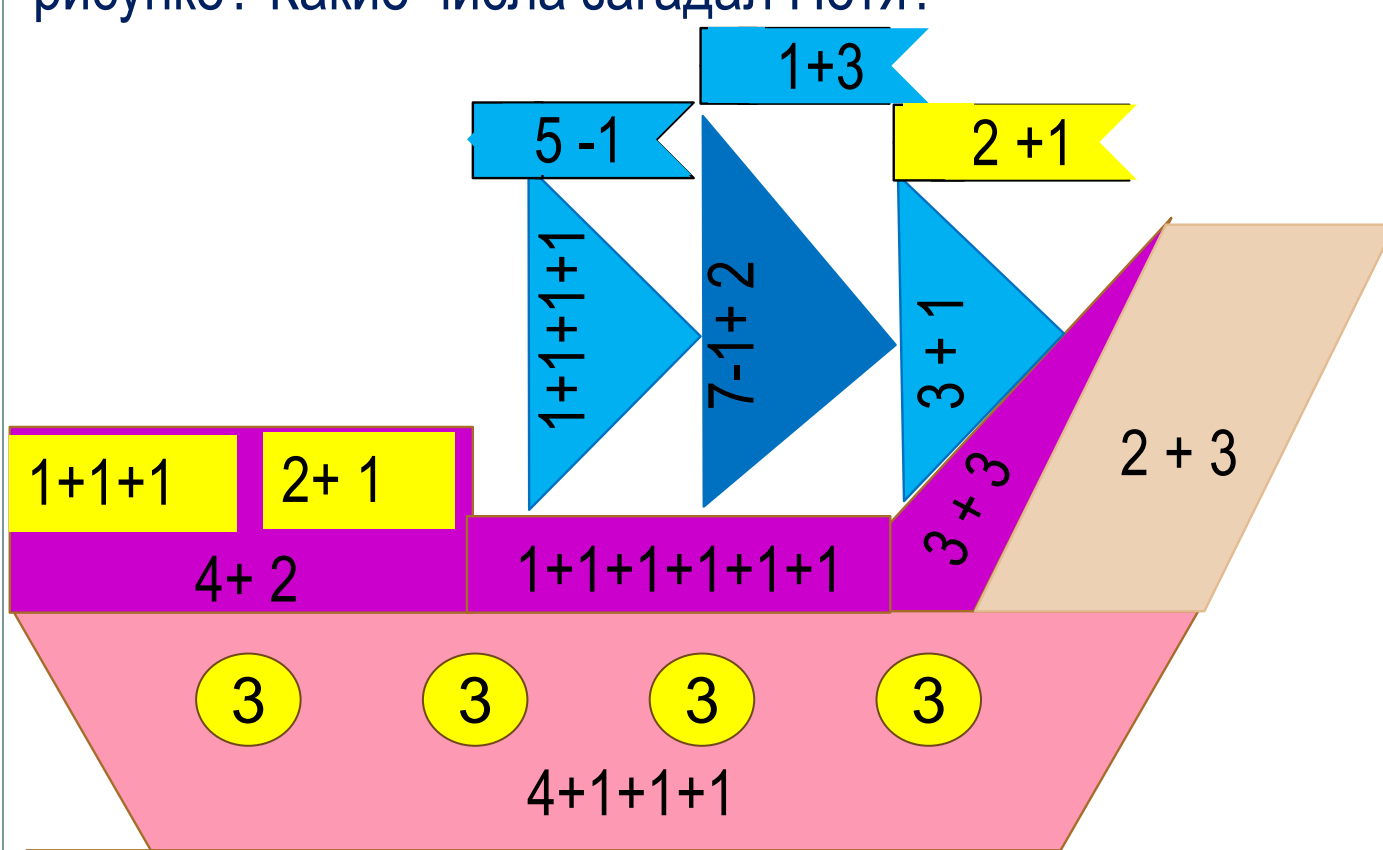


?



Урок 56. Числа 0 - 10

8. Рассмотрите рисунок Пети. Какие геометрические фигуры есть на его рисунке? Какие числа загадал Петя?



- 0
- 1
- 2
- 3
- 4
- 5
- 6
- 7
- 8
- 9

$4+1$	<input type="text"/>	<input type="text"/>	<input type="text"/>
<input type="text"/>	<input type="text"/>	<input type="text"/>	<input type="text"/>

ПРОВЕРЬ!

Спасибо!