

Математика

2 класс

$$39 : 13 \overset{\cdot}{=} 2 \text{ } 3$$

$$2 \cdot 13 = 26$$

$$3 \cdot 13 = 39$$



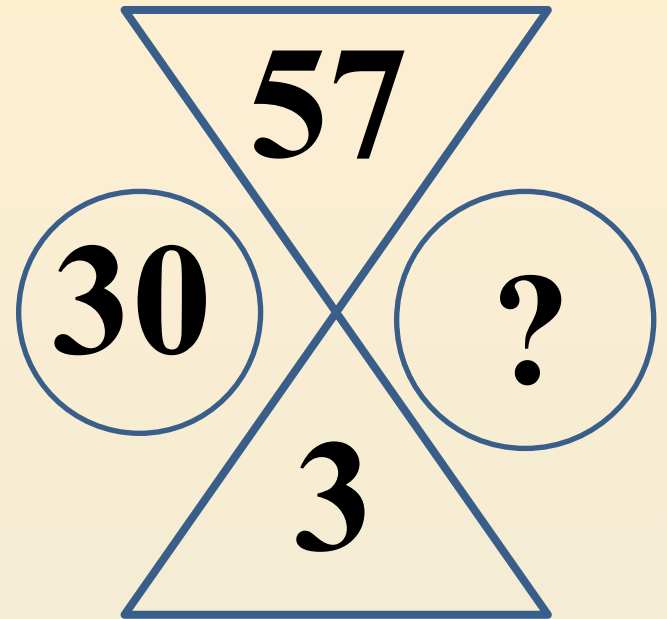
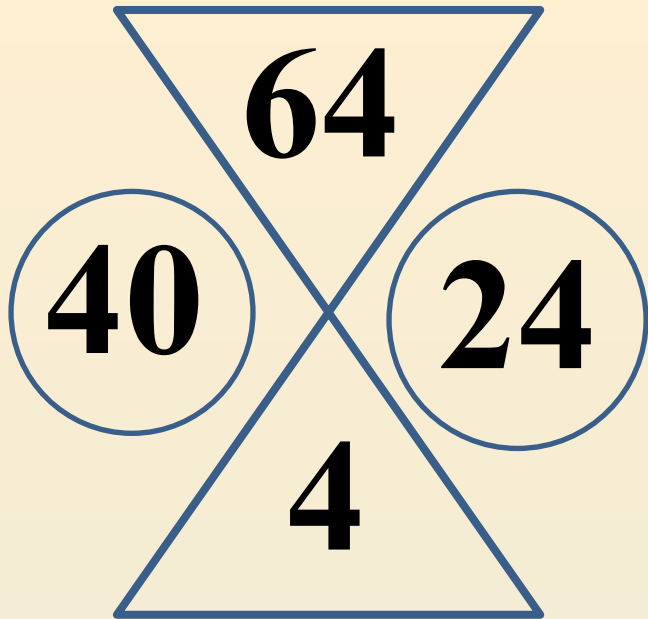
$$640 : 16 \overset{\cdot}{=} 4 \text{ } 40$$

$$4 \cdot 16 = 64$$

$$40 \cdot 16 = 640$$

$$700 : 50 \overset{\cdot}{=} 14 \text{ } 14$$

$$\underline{140} \cdot \underline{50} = 7000$$



$$30 \cdot 20$$

$$360 : 9$$

$$240 : 80$$

$$600 : 3$$

$$45 \cdot 8$$

$$84 : 7$$

$$75 : 25$$

Чтобы разделить круглые числа, можно выразить их в укрупненных единицах

Чтобы умножить круглые числа, можно выполнить умножение не глядя на нули, а затем приписать столько нулей. Сколько их в обоих множителях

Чтобы разделить сумму на число, можно разделить на число каждое слагаемое и результаты сложить.

Чтобы умножить сумму на число, можно разделить на число каждое слагаемое и результаты сложить.

Чтобы разделить число **a** на число **b**, надо найти такое число **c**, которое при умножении на **b** дает **a**.

Л

$$96 : 8$$

Т

$$30 \cdot 20$$

К

$$81 : 27$$

О

$$560 : 7$$

М

$$90 \cdot 4$$

И

$$720 : 90$$

Е

$$63 \cdot 8$$

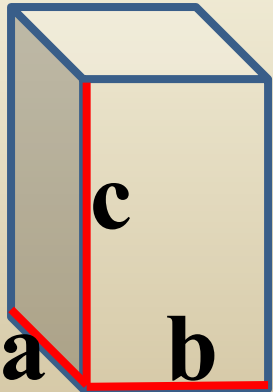
Р

$$40 \cdot 16$$

Расположите ответы в порядке возрастания и расшифруйте слово.



*Весной Федя сделал скворечник. Длина которого **3 дм**, ширина **2 дм**, высота **5 дм**. Чему равен объём скворечника?*



$$V = a \cdot b \cdot c \quad (\text{дм}^3)$$



*Утром лягушка съела 55
комаров, в мошек на 44
меньше.*

