



Что вы видите ?

$$30+20=50$$

$$6: \blacksquare + 20 = 50 \quad (6:X+20=50)$$


$$X - 9 = 2$$


$$X + 3 = 12$$


$$X:9=2$$

$$X*3=12$$



2




$$X = A * B$$

$$A = X : B$$

$$B = X : A$$