




**Акмурзина Ольга Григорьевна,
учитель начальных классов
МКОУ «СОШ п. Армань»**

**МАТЕМАТИКА
2 КЛАСС (I четверть, урок №23)**

**Тема урока:
«Закрепление изученного.
Решение задач»**

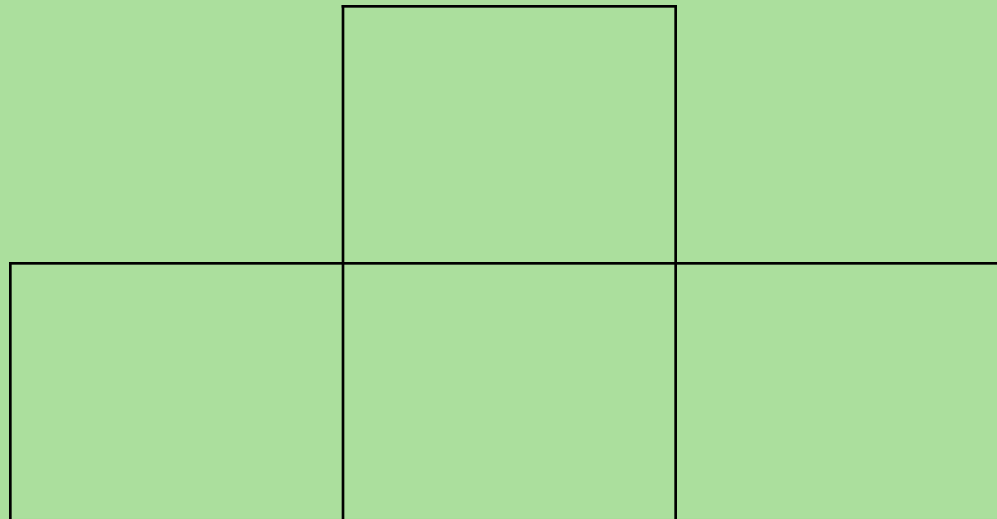
**Учебник: Моро М.И., Бантова М.А.,
Бельтюкова Г.В. и др.
«Математика Ч.1»,
М: Просвещение, 2011-2013**





Задание:

переложите в каждом примере стручок так,
чтобы пример оказался правильным



Задание:
сколько на рисунке четырёхугольников?

Задание: составьте задачу по рисунку



10 руб.



60 руб.



Игра «Магические квадраты»

6	5	4
	8	4

9	6	3
	3	

Интернет-ресурсы:



www.themegallery.com

- https://encrypted-tbn2.gstatic.com/images?q=tbn:ANd9GcTerIkByZzcDfoz_vgFFK7ur9S06niSw7Rc3X65AwnbuGU-55sh,
- https://encrypted-tbn0.gstatic.com/images?q=tbn:ANd9GcQzKRL2OitWhdLYKZ8_7pA1nWmrAWLUGDAbBgrSJpB8TUHnXP4Dc7KNvZ8
- <https://www.google.ru/search?hl=ru&http://usiter.com/uploads/20120125/penal+penal+dlya+ruchek+penal+shkolnij+95146019053.jpg>