
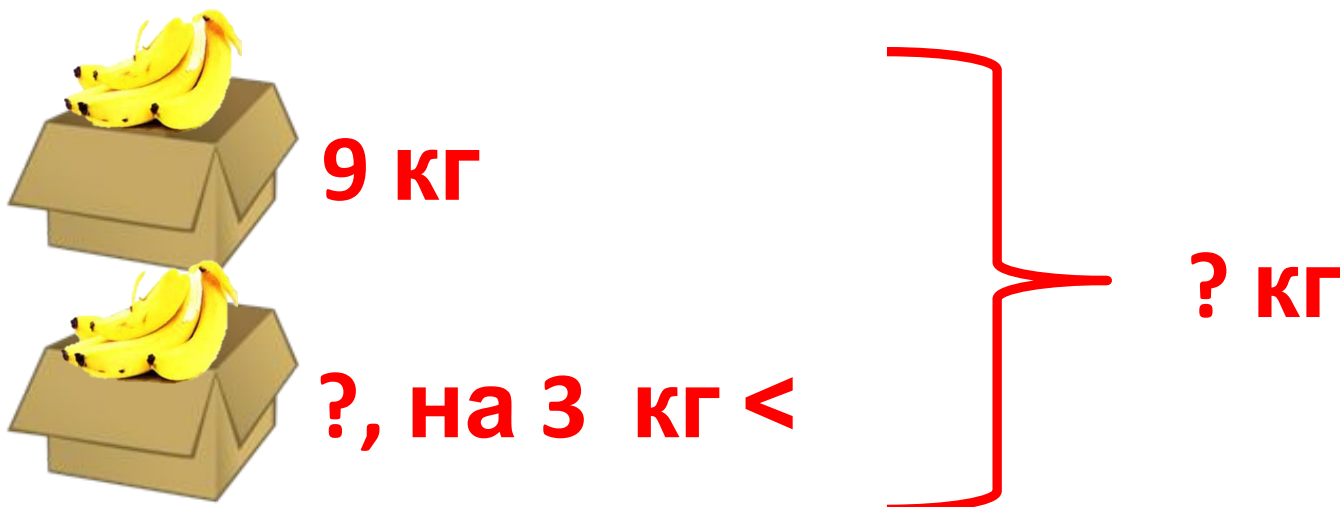


Урок математики  
2 класс  
Задачи в 2 действия

Учитель начальных классов  
МБОУ СОШ № 92 г.Воронеж  
Лебедева Надежда Ивановна




**В одном ящике 9 кг бананов , а в другом на 3 кг меньше. Сколько всего килограммов бананов в двух ящиках ?**



**В одной корзине было 3 кг капусты и 4 кг помидоров , а в другой - 6 кг картофеля. Какая корзина тяжелее? На сколько килограммов ?**



**? кг, 3 кг и 4 кг**

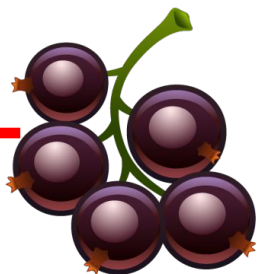


**6 кг**

**на ? кг >**

Мама купила 7 кг смородины и 5 кг малины. Из 10 кг ягод сварили варенье. Сколько килограммов ягод осталось ?


Купила – ? кг, 7 кг и 5 кг



Сварила – 10 кг

Осталось - ? кг

**Тетрадь стоит 9 рублей, а  
карандаш на 2 рубля дешевле.  
Сколько стоит вся покупка ?**



**9 р.**

**?, на 2 р. <**

