

Тема: Высказывания.

Автор презентации:
Задубровская Елена Владимировна
учитель начальных классов
МБОУ Матвеево – Курганской сош №1
п. Матвеев Курган
Ростовской области



Урок 1. 6.

1 **исказывания** Прочитайте предложения, которые составили ребята.

Катя «Два меньше **верно**

Лена «**Пяти** Семь плюс пять равно **(истина)** неверно

Серёж «**Десять минут**». **(ложь)**


Вов: «**Сколько** **одно** значных чисел ты

Наташ «**Напиши цифру**?».

Диана «**Все** **квадраты!** - **верно**
прямоугольники. **(истина)**

На какие группы их можно разбить?

Можно ли определить, кто из ребят говорит правду, а кто лжёт?



Урок 1. 6.

2 **высказывания.**
Прочитайте только высказывания.

$$9 > 3$$

$$12 - 5$$

$$10 \text{ см} = 1$$

$$x <$$

$$11 - 3 = 7$$

ДМ
истинное
(верное)

7
ложное
(неверное)



Урок 1. 6.

3 **Высказывания.** Прочитайте высказывания. Найдите среди них ложные.

Измените в них знак $><=$ так, чтобы ложные высказывания стали истинными.

$$\overset{8}{16} - \overset{7}{8} < \overset{7}{17} - \overset{7}{10}$$

ИСТИННО

$$\overset{9}{7} + \overset{9}{2} = \overset{9}{6} + \overset{9}{3}$$

ИСТИННО

$$\overset{12}{8} + \overset{6}{4} > \overset{6}{11} - \overset{6}{5}$$

ЛОЖНО

$$\overset{8}{10} - \overset{8}{2} > \overset{8}{5} + \overset{8}{3}$$

ЛОЖНО

e

e



Урок 1. 6.

4

Высказывания.
Решите задачи с помощью краткой записи или схемы.

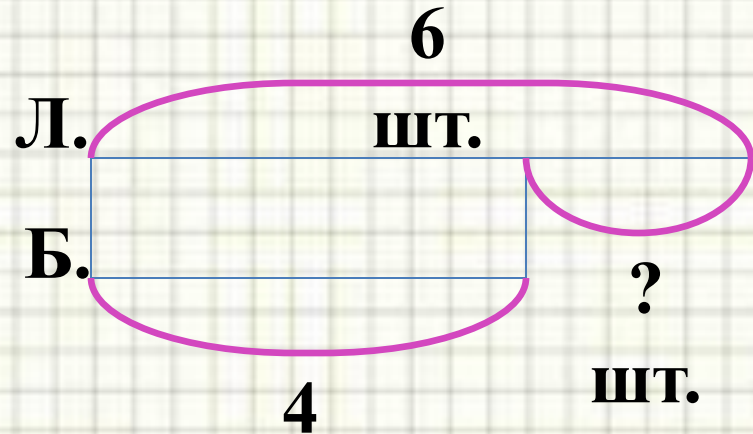
а) Проверьте их решение
У школы растут 6 лип и 4 берёзы. На

сколько лип

больше, чем берёз?


Л. – 6 шт.

Б. – 4 шт. на ?



$$6 - 4 = 2 \text{ (шт.)}$$

Ответ: на 2 штуки больше лип. шт.



Урок 1. 6.

4

Сказывания.
Решите задачи с помощью краткой записи или схемы.

б) **Вова прочитал 3 волшебные сказки и 9 сказок о животных. Каких сказок Вова прочитал больше и на сколько?**



$$9 - 3 = 6 \text{ (ск.)}$$

3 ск.

Ответ: на 6 сказок больше о животных прочитал Вова.

