

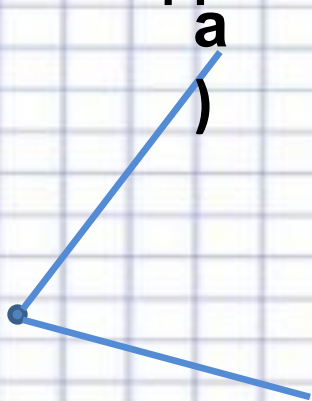


# Тема: Высказывания.

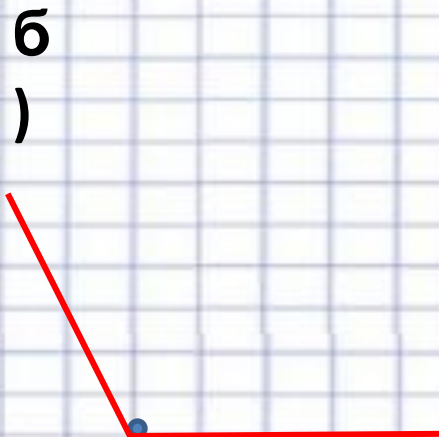
**Автор презентации:  
Задубровская Елена Владимировна  
учитель начальных классов  
МБОУ Матвеево – Курганской сош №1  
п. Матвеев Курган  
Ростовской области**



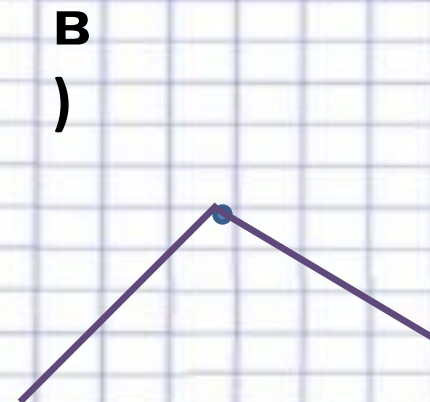
1. Найдите ложные подписи



Это - прямой угол.



Это - прямой угол.



Это - прямой угол.

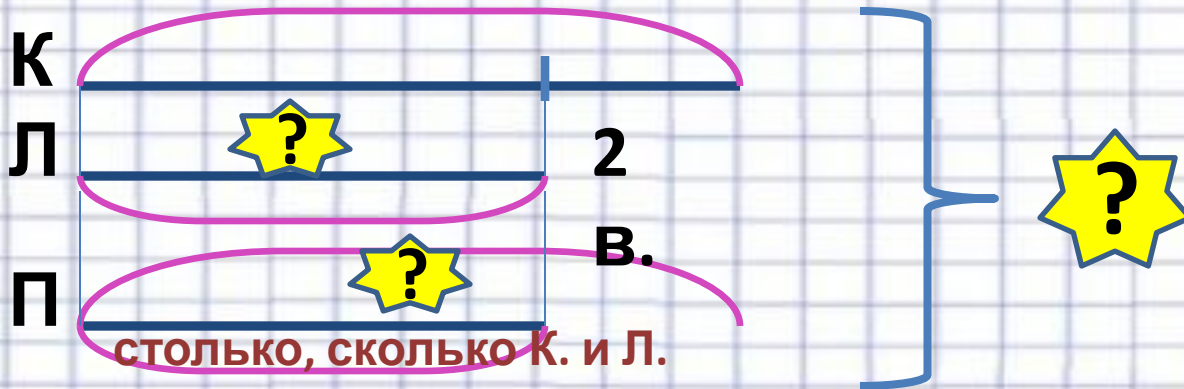
**ЛОЖНО**

**ИСТИННО**



## 6. Решите задачи.

а) Катя составила 6 высказываний, это на 2 высказывания больше, чем составила Лена. Петя составил столько высказываний, сколько Катя и Лена вместе. Сколько всего высказываний составили ребята?



1)  $6 - 2 = 4$  (в.) – составила

Лена  
2)  $6 + 4 = 10$  (в.) – составил

Петя  
3)  $6 + 4 + 10 = 20$  (в.) – составили

ребята  
Ответ: 20 высказываний составили



#### 4. Решите уравнения с объяснением и

х проверкой.

$$x = 5 +$$

$$\underline{x = 1}$$

$$7 - 5 = 2$$

$$7 = 7$$

$$12 - y =$$

$$\underline{y = 12 -}$$

$$\underline{y =}$$

$$12 - 7 = 5$$

$$5 = 5$$

$$y - 4 =$$

$$\underline{y = 4 + 9}$$

$$\underline{y = 1}$$

$$5 - 4 = 1$$

$$9 = 9$$



# Домашнее задание

С. 14 №

3