

1. Выбери «лишнее»  
число

12, 18, 14, 29, 16

2. Выбери «лишнее»  
число

3, 23, 43, 15, 33

3. Выбери пары, которые  
можно сравнить

1) 2 см и 15 дм

2) 5 мин и 3 ч

3) 2 см и 4 мин




4. Выбери пары, которые  
можно сравнить

1) 25 мм и 1 см

2) 3 см и 3 ч

3) 32 см и 4 м

5. Нарисуй четвертую фигуру,  
используя закономерность



6. Нарисуй четвертую фигуру,  
используя закономерность

