


Решите цепочку примеров.


$$9+12= \underline{\quad\quad} *4= \underline{\quad\quad} :6= \underline{\quad\quad} :7= \underline{\quad\quad}$$
$$\underline{\quad\quad} *36= \underline{\quad\quad} :3= \underline{\quad\quad}$$




**МАМА КУПИЛА 5 ПАКЕТОВ
КАРТОШКИ ПО 4 КГ В
КАЖДОМ. СКОЛЬКО ВЕСИТ
ВСЯ ПОКУПКА?**




Мама купила 5 кг картошки
и 4 кг моркови. Сколько
весит вся покупка?



Мама купила 4 пакета моркови по 5 кг в каждом. Сколько весит вся покупка?



Мама купила 5 кг картошки, а
моркови – на 4 кг больше.
Сколько килограммов
моркови купила мама?



ΠΕ



b=A

Перемена





Тема урока: «Решение задач на деление с остатком»



- Какие задачи мы учились решать сегодня на уроке?
- Какие способы деления с остатком вы использовали?
- Почему остаток не может быть больше делителя?



Д/з : Учебник № 3 (с.30). Р.т.: №99 (с.37)

