

Математика 3 класс

Решение задач на кратное сравнение



Во сколько раз

>

Во сколько раз

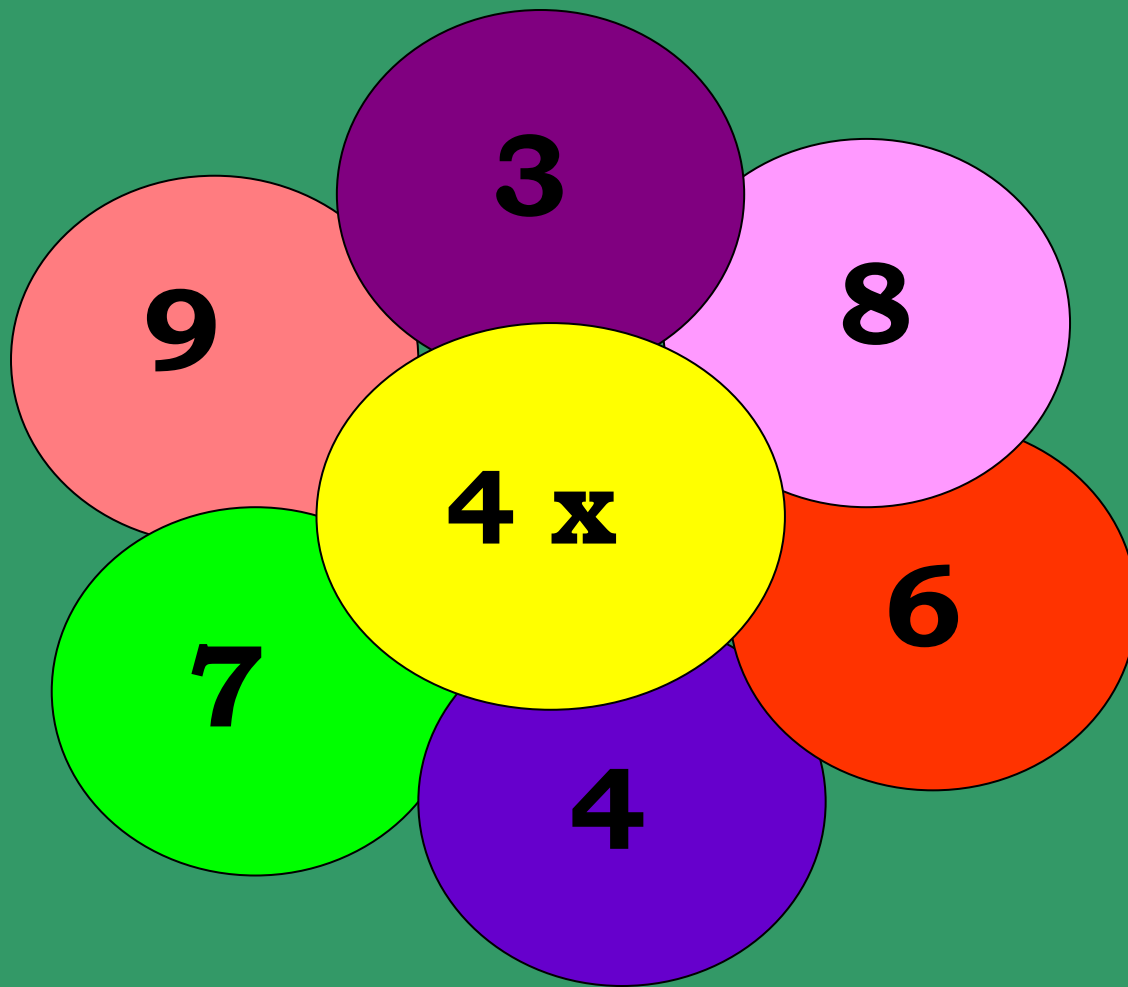
<




Математический диктант

- 1. Сколько раз в числе 18 содержится по 9?
 - 2. От деления каких чисел можно получить 3?
 - 3. Сколько раз 4 содержится в 20?
 - 4. Сколько раз надо взять по 10, чтобы получить 50?
 - 5. Сколько раз по 2 десятка содержится в 8 десятках?
 - 6. Считай тройками до 21.
 - 7. Сколько раз по 5 м содержится в 15 м?
 - 8. Увеличь 4 в 6 раз.
 - 9. Столяр сделал 20 ножек для столов. Для скольких столов он заготовил ножки?
 - 10. Когда из бочки взяли 18 вёдер воды, в ней осталось ещё 26 вёдер. Сколько вёдер воды было в полной бочке?
- 2,, 5, 5, 4, 7, 3, 24, 5, 44.

Устный счёт



Устный счёт





УСТНЫЙ СЧЁТ

Увеличь в 5 раз

9	7	5	3	8
---	---	---	---	---

Уменьши в 4 раза

32	24	16	8	4
----	----	----	---	---



Поможете ли да решим?

1 ряд

$$39 - 15 : 5 + 14 = 50$$

$$6 \cdot (12 - 4) = 48$$

2 ряд

$$56 - 8 + 4 \cdot 9 = 84$$

$$8 \cdot (25 - 20) = 40$$

3 ряд

$$30 - 16 : 2 + 12 = 34$$

$$10 : (11 - 9) = 5$$



Литр топлива для ступы
стоит 6 рублей. Сколько
денег надо уплатить ребятам
за 7 литров топлива?

Ответ: топливо стоит 42 рубля

Н	А	Ж	А	Т	Ь
Ж	Ё	Л	Т	У	Ю
К	Н	О	П	К	У



C. 45, No 3



Работа по теме

Во сколько раз больше цыплят, чем утят?

В 2 раза

4


8



Запомни!



- 2 к.



- 10 к.



во ? раз >



**Большое число делим на
меньшее**

$10 : 2 =$ в 5 раз

больше

1) В одной вазе было 5 конфет, а в другой – 15 конфет. На сколько конфет во второй вазе больше, чем в первой?

2) В одной вазе было 5 конфет, а в другой – 15 конфет. Во сколько раз во второй вазе конфет больше, чем в первой?

тест



1. Чтобы узнать на сколько единиц одно число больше или меньше другого, надо выполнить:

- А) сложение
- Б) вычитание
- В) умножение
- Г) деление



тест



2. Чтобы узнать во сколько раз одно число больше или меньше другого, надо **выполнить**:

- А) сложение
- Б) вычитание
- В) умножение
- Г) деление



тест



3. На сколько единиц число 36
больше, чем число 9?

- А) 45
- Б) 27
- В) 4



тест



4. Во сколько раз число 36 больше, чем число 9?

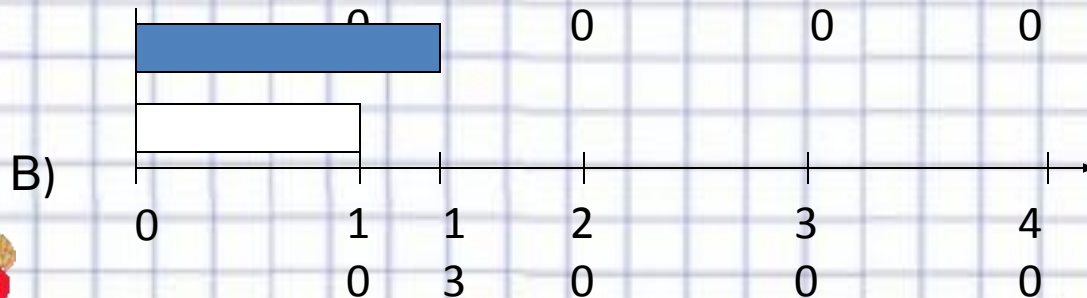

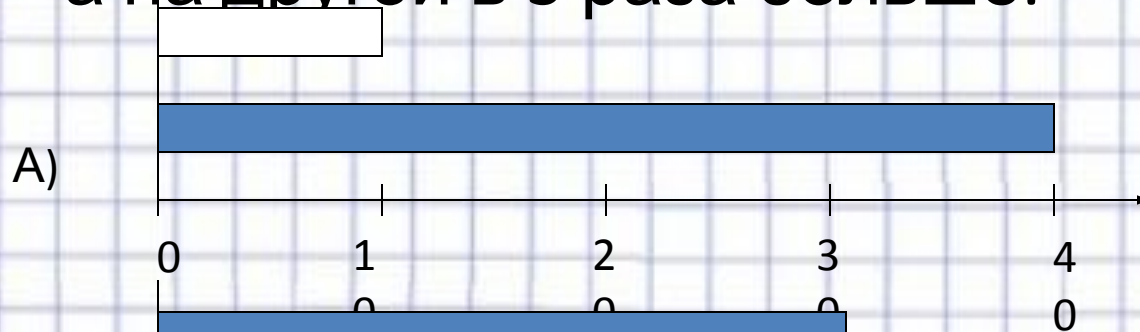
- А) 45
- Б) 27
- В) 4



ТЕСТ

5. Какая диаграмма соответствует условию задачи?

На одной машине привезли 10 мешков свёклы, а на другой в 3 раза больше.







Проверь

1. Б
2. Г
3. Б
4. В
5. Б






Мне было
безразлично
на уроке



Мне было
интересно
на уроке



Мне не
понравился
урок.
Я ничего не
понял