



Математика, 3
класс



Наряди ёлочку !

Устный
счёт



Зыбина Татьяна Петровна,
учитель начальных классов
МОУ «Специализированная
школа с углублённым
изучением иностранных
языков № 19
г. Донецка»

Автор





36 : 9

. 7

+ 2

: 5

>	1	2	3	4	5
<	6	7	8	9	10





54 : 6

· 7

+ 7

 : 10

>	1	2	3	4	5
<	6	7	8	9	10





42 : 7

· 8

+ 2

 : 10

>

1

2

3

4

5

<

6

7

8

9

10





24 : 4

· 9

+ 6

 : 10

>

1

2

3

4

5

<

6


7

8

9

10





64 : 8

. 9

+ 28

: 10

>

1

2

3

4

5

<

6

7

8

9

10





$$4 \cdot 6 : \boxed{?} = 8$$

>	1	2	3	4	5
<	6	7	8	9	10





$$\boxed{?} \cdot 3 : 9 = 2$$



>	1	2	3	4	5
<	6	7	8	9	10






$$63 : \boxed{?} \cdot 2 = 18$$



>	1	2	3	4	5
<	6	7	8	9	10





$$72 : \boxed{?} \cdot 4 = 32$$




>	1	2	3	4	5
<	6	7	8	9	10





Найди четверть
от 28.





Сравни:
6дм 3см 60см

>	1	2	3	4	5
<	6	7	8	9	10






Сравни:
1м 7дм

>	1	2	3	4	5
<	6	7	8	9	10





Найди шестую
часть от 42.

?



>	1	2	3	4	5
<	6	7	8	9	10





**Четвёртая часть
девочек класса поёт в
хоре. Сколько девочек в
классе, если в хоре
поют 2 девочки?**



- | | | | | | |
|---|---|---|---|---|----|
| > | 1 | 2 | 3 | 4 | 5 |
| < | 6 | 7 | 8 | 9 | 10 |





Длина третьей части
гирлянды 3 метра.
Найди длину всей
гирлянды.

?



>	1	2	3	4	5
<	6	7	8	9	10







Используемые ИСТОЧНИКИ:

<https://vignette4.wikia.nocookie.net/animal-jam-clans-1/images/3/31/Christmas-baubles-and-bells-transparent-background.png/revision/latest?cb=20161026215315>

<http://i55.photobucket.com/albums/g143/Kenzvill1/stars3.gif>

<http://www.ispringsolutions.com/christmas-card.html?card=OUZJb-4C7pE-VcoC7>

http://pngimg.com/uploads/santa_sleigh/santa_sleigh_PNG17.png

https://photoshop-kopona.com/uploads/posts/2017-10/1507047991_light-effect-46.png

<http://s019.radikal.ru/i630/1401/69/c71ec79cf057.jpg>

<https://deti-online.com/pesni/novogodnie/malenkoi-yolochke/>

<https://www.intelkot.ru/upload/19803.jpg>

<http://ramki-vsem.ru/fon/sinii-fon37.jpg>